

МОУ Подбельская СОШ

Математика

3 класс

Учитель начальных классов
Пижамова Наталия Васильевна

Тема урока:

Решение задач на
нахождение периметра
и площади
прямоугольника


Решите задачу:

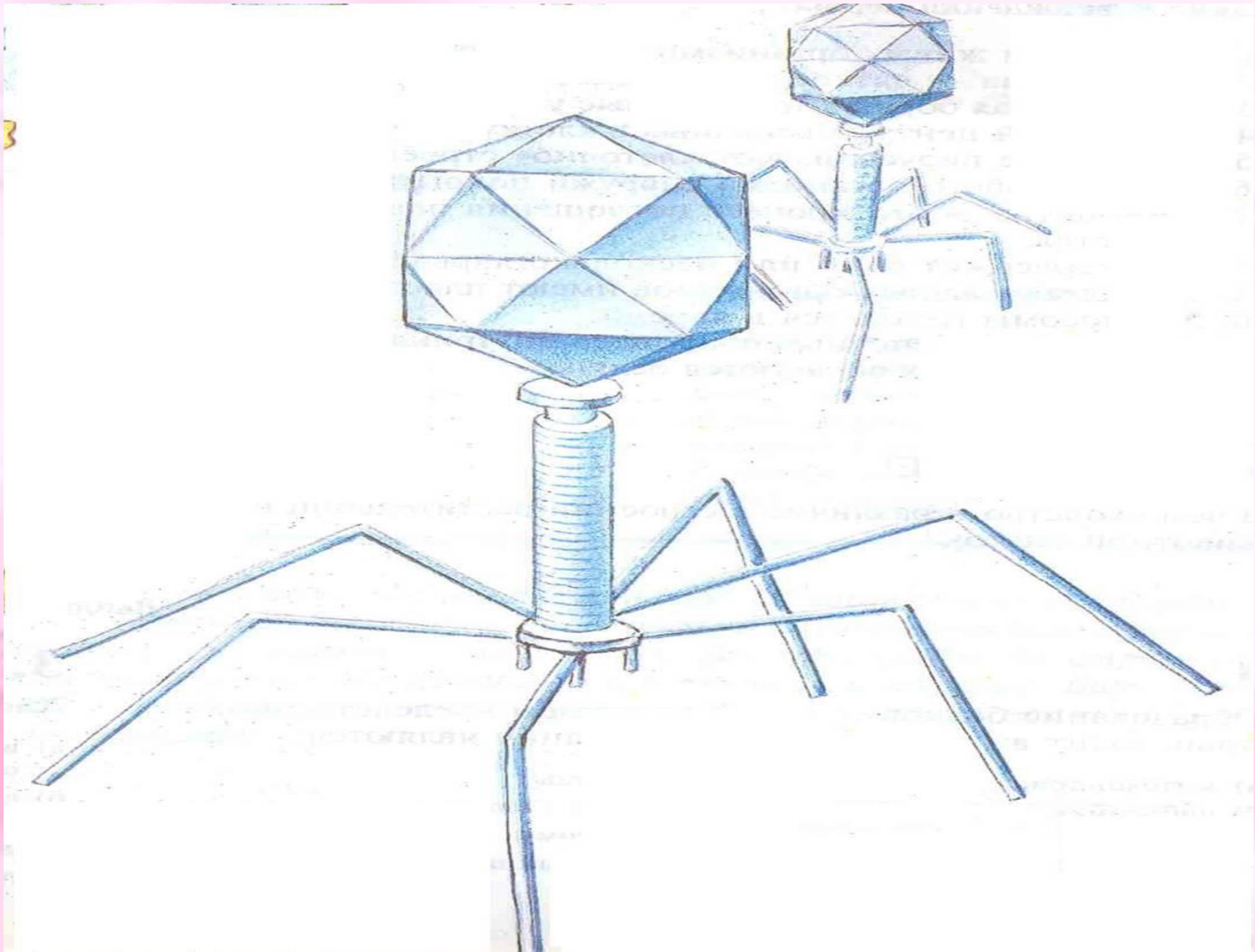
Площадь прямоугольного озера равна 84 м^2 . Ширина его равна 7 м . Найти длину озера.

100
1000
10000



6	10		30	48			72
	12		32			60	87
3		27		45			77
	13	24			50		
8	17		35		55		80
2		28		42		63	90



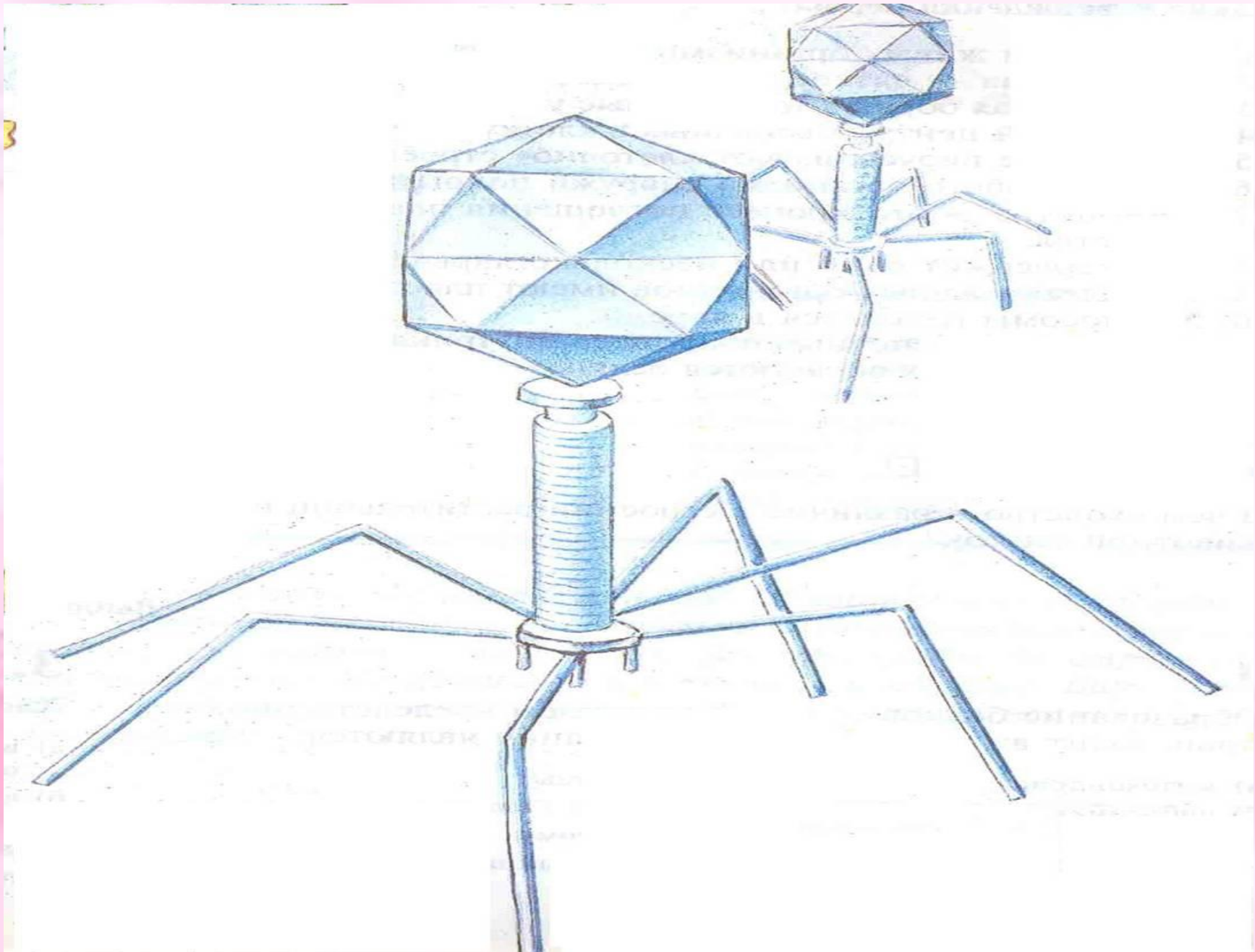




Задания



1. Выполнить тест.
2. Ответить на вопрос: как найти площадь круга, треугольника.



"Русское лото"



РУССКОЕ ЛОТО

4

6	10		30	48			72
	12		32			60	87
3		27		45			77
	13	24			50		
8	17		35		55		80
2		28		42		63	90

Illustrations of Mickey Mouse and Minnie Mouse are present around the grid.

Автор презентации: Пижамова Н.В.

E-mail: npizhamaova@yandex.ru

Используемые источники:

1. Сонин Н.И. Биология.6кл. Живой организм: Учебник для общеобразовательных учебных заведений.
2. <http://photo.pedsovet.su>
3. Программа: Обучение таблице умножения. Автор: А.Маянц.
4. <http://animashky.ru>