


**СОВМЕСТНОЕ
ВЫПОЛНЕНИЕ
ДЕЙСТВИЙ НАД
НАТУРАЛЬНЫ
МИ
ЧИСЛАМИ**



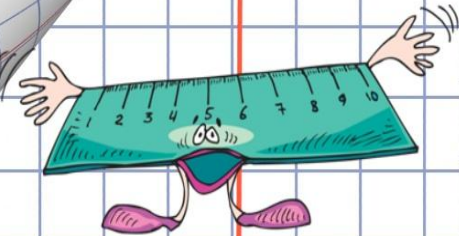
ВЫЧИСЛИТЬ
УСТНО

$$48+15+13+52=$$

$$103+0+9+67+91=$$

$$547+(153+309)=$$

$$628+285+115=$$



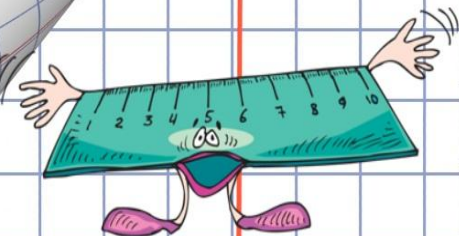
В ТЕТРАДЯХ

НАЙДИТЕ ЗНАЧЕНИЕ
ВЫРАЖЕНИЯ:

$$37 * 14 + 37 + 12 - 6 * 37 =$$

$$432 * 0 + 23 * (568 - 13 * 21) =$$

$$1965120 : 160 + 509 * 160 - 722 =$$



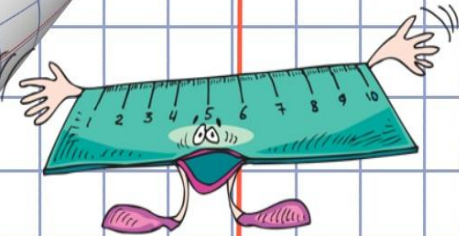
РЕШИТЬ

(~~x+128~~)-28=1 000-567

(234-

x)+86=203-99

500-(120-x)=479-99



ЗАДАЧ

И
Длина

прямоугольника

равна 8 см, а ширина


5 см. найдите

площадь



прямоугольника.

Составьте и решите

две обратные задачи



Одно число в 2
раза больше
другого, а их
сумма равна 93.
найдите эти
числа.



Известно, что
разность двух
чисел равна 84 и
одно число в 5
раз меньше
другого. Найдите
эти числа.

