

Тиличикская специальная школа-интернат

*Неделя  
математики*



*«Умницы и  
умники 2013»*

# Конкурс красноречия


- Домашнее задание:

Для чего нужна математика?

Конкурс оценивается в 5 баллов

# Конкурс красноречия


5 б.



Три сороки, три трещотки потеряли по три щетки:  
Три – сегодня, три – вчера, три еще позавчера.



Шестнадцать шли мышей, нашли сорок грошей,  
Две мыши попроче нашли по две гроши.



Четыре черненьких чумазеньких чертенка,  
Чертили черными чернилами чертеж.

ТЕМЫ	7 класс ▲			8 класс ■			9 класс ●		
Пословицы и поговорки	10 ▶	20 ▶	30 ▶	10 ▶	20 ▶	30 ▶	10 ▶	20 ▶	30 ▶
Загадки - задачи	10 ▶	20 ▶	30 ▶	10 ▶	20 ▶	30 ▶	10 ▶	20 ▶	30 ▶
Переставь буквы	10 ▶	20 ▶	1 ▶	10 ▶	20 ▶	1 ▶	10 ▶	20 ▶	1 ▶
Подумай и реши	10 ▶	20 ▶	30 ▶	10 ▶	20 ▶	30 ▶	10 ▶	20 ▶	30 ▶

10



не имей сто рублей, а ....



20



Лучше один раз увидеть,  
чем ....



30



объясни:

**Правда в огне не горит и в воде не тонет.**



10




- без труда не...






20



- Трус умирает сто раз, а ...



30



Объясни:

Пуганая ворона куста  
боится.





10



Без четырёх углов ...




20



Худой мир, лучше ...



30



Объясни:

Слово – серебро, а  
молчание – золото.



10



Тебе дано, а люди  
пользуются.




20



Входит слепой, а выходит  
зрячий?



30



Поставь между цифрами  
арифметические знаки

$$3\ 3\ 3\ 3 = 4$$





10




Хорошо видит, а слепой.



20

Если в 12



чи идёт




ДОЖДЬ,

ТО МОЖНО ЛИ ОЖИДАТЬ, ЧТО ЧЕРЕЗ  
24 ЧАСА БУДЕТ СОЛНЕЧНАЯ  
ПОГОДА?



30




Поставь между цифрами  
знак

$$5\ 5\ 5\ 5 = 100$$



10



Шла старушка в Москву ,  
а навстречу ей три старика.  
Сколько человек шло в  
Москву?



20





Как называлась  
отрубленная часть  
серебряного бруска?



загадки

30




Поставь между цифрами  
знак

$$5\ 5\ 5\ 5 = 100$$



10



?

Переставь буквы так, чтобы  
получилось слово-число:

**дтанцевать**



20




Поставь ударение в словах:  
**сантиметр, километр,  
килограмм.**






1



На каждый шаг назвать  
математическое слово:  
-Треугольник, ...



10



?

переставь буквы так, чтобы  
получилось слово-число:

**сядетсемь**




20



Поставь ударение в словах:  
**сантиметр, километр,  
килограмм.**



1



?

На каждый шаг назвать  
математическое слово:

-Треугольник,...





переставь буквы так, чтобы  
получилось слово-число:

цтвadfдфдъ



20




Поставь ударение в словах:  
**сантиметр, километр,  
килограмм .**



СЛОВО

1




На каждый шаг назвать  
математическое слово:

**Треугольник,...**



10



Богатырь Микула поклялся  
ежегодно совершать 29 подвигов.  
Сколько подвигов он совершил за 63  
года?





20



$$\begin{array}{r} 1**6 \\ + \quad 7*9 \\ \hline 2*6* \end{array}$$



предложение

30



**Дать определение квадрата.**



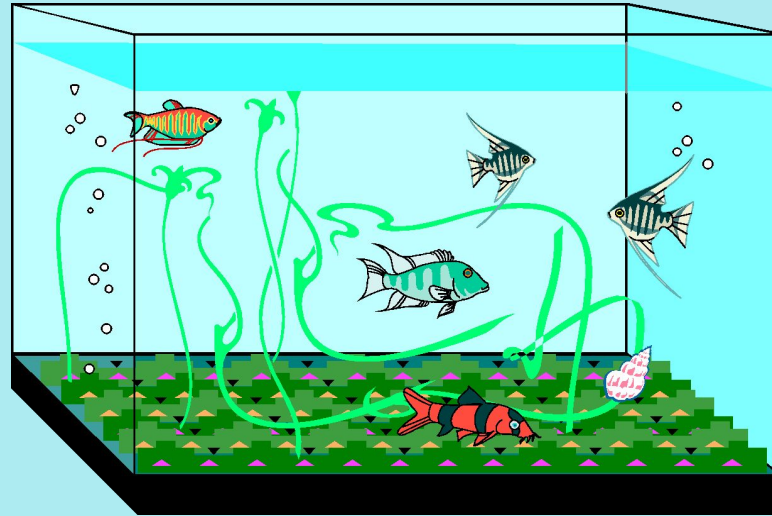
10



- Царь- Султан хранил своё богатство в 38 кованых сундуках, в каждом из которых было 12 кг золота и 25 кг драгоценных камней. Сколько всего тонн и килограммов драгоценностей было у царя?



20



$$7 * 4 *$$

—


$$2 * * 6$$

—————

$$4 * * 4$$



30



Чему равна сумма углов треугольника?



10



- Комната Аладдина в которой он любил встречаться с друзьями имела длину 15м, ширину 9метров, а высоту 5 метра. Всего отдыхало 15 чел. Сколько куб.м воздуха приходится на одного человека ?



20



$$\begin{array}{r} 9*8* \\ - \\ *388 \\ \hline 1*98 \end{array}$$



30



Дать определение ,  
озвучить формулу  
параллелепипеда.





**Молодцы!**

**Спасибо за**

**участие!**

