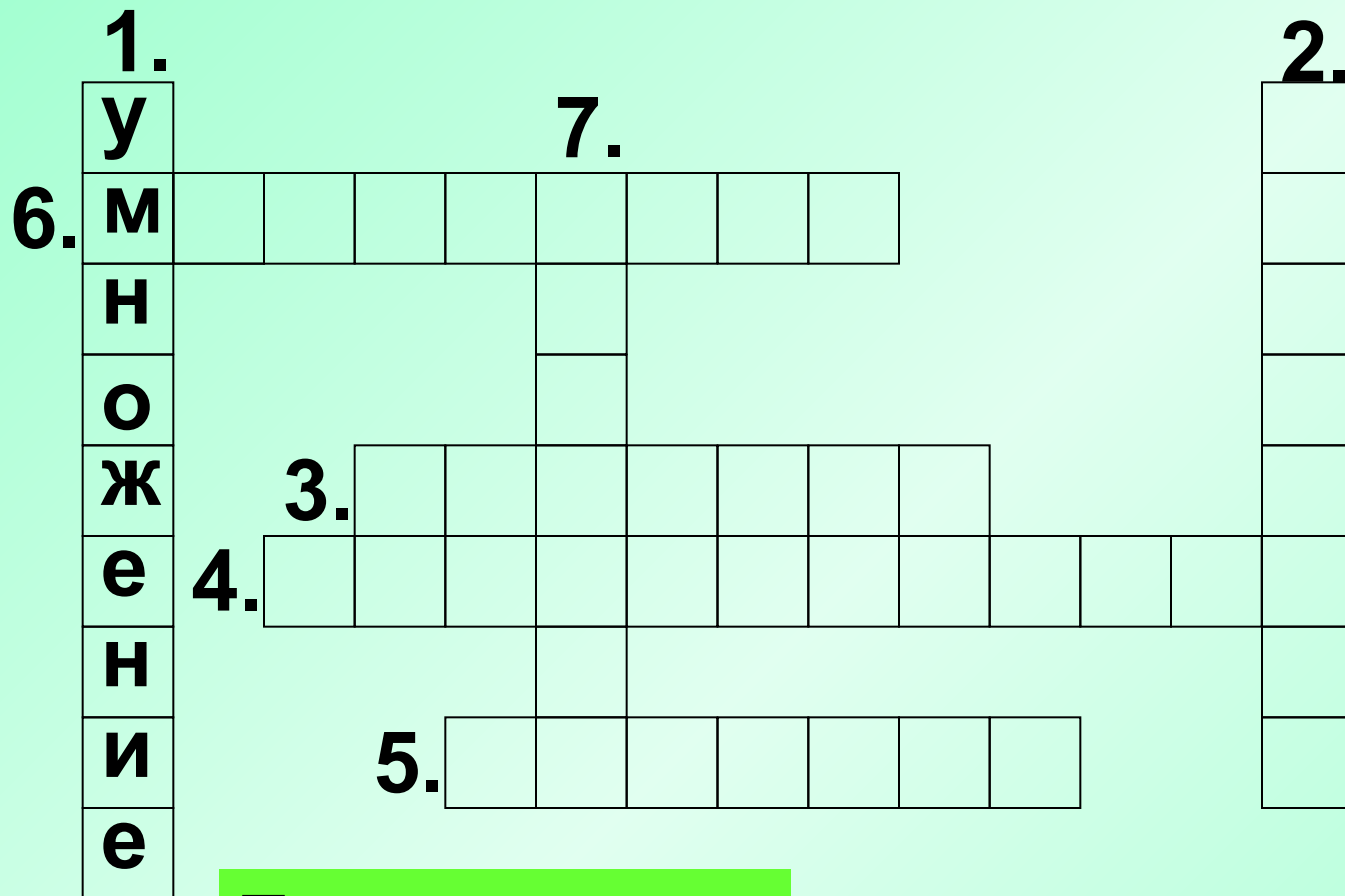


Таблица умножения

Таблица умножения



По вертикали:

1. Действие, которым можно заменить сумму одинаковых слагаемых.

1.	у				7.											2.
6.	м															д
	н															е
	о															л
	ж	3.														и
	е	4.														т
	н															е
	и															л
	е															ь

По вертикали:

2. Число, на которое делят.

1.	у				7.							2.
6.	м											д
	н											е
	о											л
	ж	3.	д	е	л	и	м	о	е			т
	е	4.										е
	н											л
	и		5.									ь
	е											

По горизонтали:

3. Число, которое делят.

1.	у				7.							2.		
6.	м											д		
	н											е		
	о											л		
	ж	3.	д	е	л	и	м	о	е			т		
	е	4.	п	р	о	и	з	в	е	д	е	н	и	е
	н											л		
	и	5.										ь		
	е													

По горизонтали:

4. Результат действия при умножении.

1.	у				7.							2.		
6.	м											д		
	н											е		
	о											л		
	ж	3.	д	е	л	и	м	о	е			т		
	е	4.	п	р	о	и	з	в	е	д	е	н	и	е
	н											л		
	и	5.	ч	а	с	т	н	о	е			ь		
	е													

По горизонтали:

5. Результат действия при делении.

1.	у				7.							2.		
6.	м	н	о	ж	и	т	е	л	ь			д		
	н											е		
	о											л		
	ж	3.	д	е	л	и	м	о	е			т		
	е	4.	п	р	о	и	з	в	е	д	е	н	и	е
	н											л		
	и		5.	ч	а	с	т	н	о	е		ь		
	е													

По горизонтали:

6. Компонент действия умножения.

1.	у				7.							2.	д	
6.	м	н	о	ж	и	т	е	л	ь				е	
	н				а								л	
	о				б								и	
	ж		3.	д	е	л	и	м	о	е			т	
	е	4.	п	р	о	и	з	в	е	д	е	н	и	е
	н				ц								л	
	и		5.	ч	а	с	т	н	о	е			ь	
	е													

По вертикали:

7. Какое слово спряталось?

Тема урока:



Закрепление


Найди числа, которые не делятся на 2.
Щёлкни по ним мышкой.

2	3	4	5
6	7	8	9
10	11	12	13
14	15	16	17

Щёлкните мышкой по числу, которое не делится на 3.



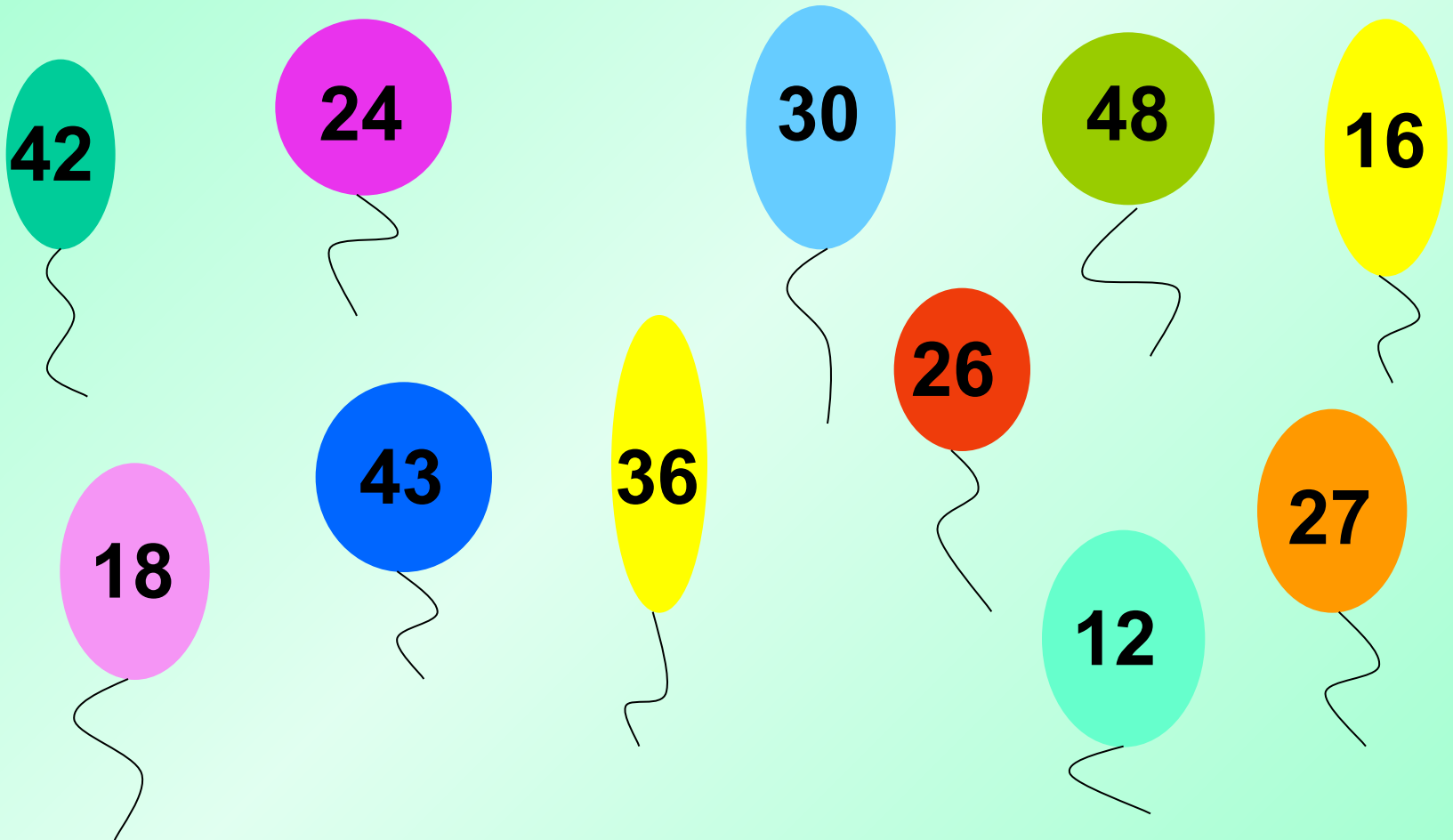
Каких ответов нет в
таблице умножения 4?
Щёлкни по ним мышкой.



Какие числа не делятся на 5?
Щёлкни по ним мышкой.




Найди шарики с числами, которые не делятся на 6. Щёлкни по ним мышкой.



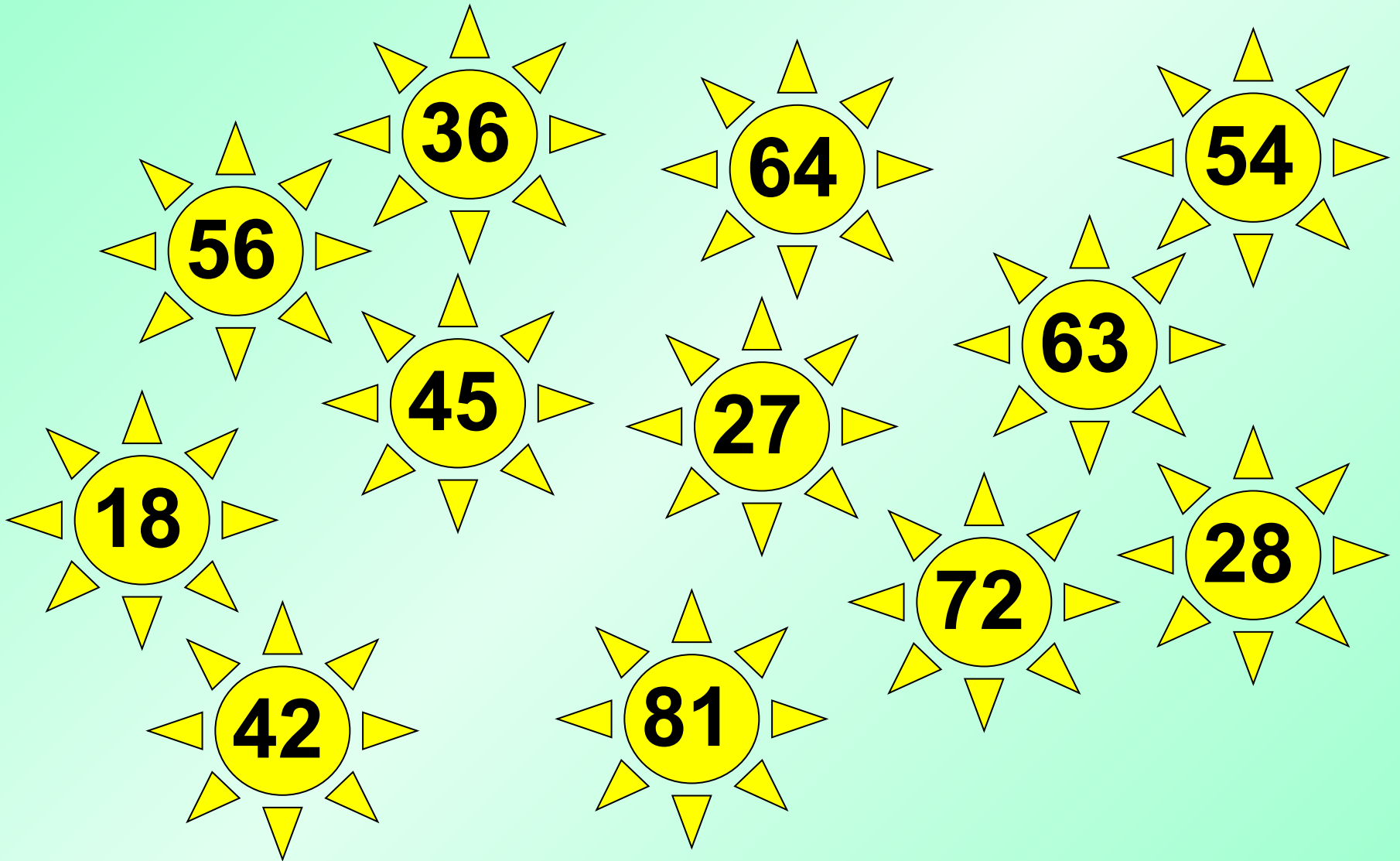
Каких ответов нет
в таблице умножения 7?



Украсьте ёлочки только ответами таблицы
умножения 8.



Какие числа не делятся на 9?



Молодцы!