


Математическая викторина «В гостях у мудрой совы» 2 класс

Источник
и





Меню викторины

- конкурс «Разминка»
- конкурс «Острый глаз»
- конкурс «Логический»
- конкурс «Отгадай ребус»
- конкурс «Математические бусы»
- конкурс «Сказочный»




Разминка


● Около столовой, где стояли лыжники, пришедшие из похода, лежало 20 лыж, а в снег было воткнуто 26 палочек. Сколько лыжников ходило в поход? **10 лыжников**



● Десять ребят привели в школу петушка, утку, кошку и мышку. Сколько глаз у животных? **12 глаз**



● Бабушка вяжет своим внукам варежки и перчатки. Всего она связала 6 варежек. Сколько внуков у бабушки? **3 внука**






Острый глаз




Сколько
треугольников
нарисовано?

9 треугольников





Логический





Кто старше?

Три брата - Ваня, Саша, Коля - учились в разных классах. Ваня был не старше Коли, а Саша – не старше Вани. Назовите имена старшего, среднего и младшего братьев.

Коля

Ваня

Саша






Отгадай ребус



ЧИ



,

Число

О



~~Ж~~

Один

Д

„



Два



Математические бусы



Из разных цифр я сделал бусы,
А в тех кружках, где чисел нет,
Расставьте минусы и плюсы,
Чтоб данный получить ответ.

$$44 \circ 15 \circ 13 \circ 7 = 23$$

$$86 \circ 45 \circ 34 \circ 3 = 78$$



Сказочный

• Сколько коз
у многодетной



Семеро

• у



было

Сорок

• С
старик
Пуш
рыб



л старик со
Тридцать
в сказке Д.О.
о рыбаке три

ИСТОЧНИКИ

-
- http://prihodr.ucoz.ru/_ph/1/298532187.jpg
 - <http://animated-images.ru/photo/pticy/sova/20-0-359>
 - <http://s42.radikal.ru/i096/1105/4b/044335a1ea4d.jpg>
 - <http://www.chitalnya.ru/upload/785/1685789288021624.gif>
 - http://www.moova.ru/_nw/84/40857025.jpg
 - http://www.diafilmy.ru/uploads/posts/2011-05/1304707367_3.jpg
 - <http://okster.com.ua/wp-content/uploads/2009/07/1.jpg>

