

# Математика

(материалы для занятий с будущими первоклассниками)

Выполнила учитель  
начальных классов  
МБОУ СОШ №1  
ЗАТО Межгорье  
Республики Башкортостан  
Мотвиенко И.Ю.

ПОСЧИТАЙ ЦИФРЫ В ПРЯМОМ ПОРЯДКЕ.  
ПОСЧИТАЙ В ОБРАТНОМ ПОРЯДКЕ.  
НАЧНИ СЧИТАТЬ С НАЗВАННОГО ЧИСЛА.  
НАЗОВИ СОСЕДЕЙ ЧИСЛА...



ПЕРЕСЧИТАЙ КАРТИНКИ.

КАКИМ ПО СЧЕТУ СТОИТ ВЕРТОЛЕТ? АВТОБУС? ГРУЗОВИК?  
НА КАКОМ МЕСТЕ СТОИТ ВЕЛОСИПЕД? ПАРОХОД? ВОЗДУШНЫЙ ШАР?

1 2 3 4 5 6 7 8 9 10



ЧТО БУДЕТ, ЕСЛИ К ПЯТИ ПРИБАВИТЬ ОДИН?  
ЕСЛИ ОТ СЕМИ ОТНЯТЬ ОДИН?  
КАК ПОЛУЧИТЬ ЧИСЛО ВОСЕМЬ, ЕСЛИ ЕСТЬ ЧИСЛО ДЕВЯТЬ?

1 2 3 4 5 6 7 8 9 10



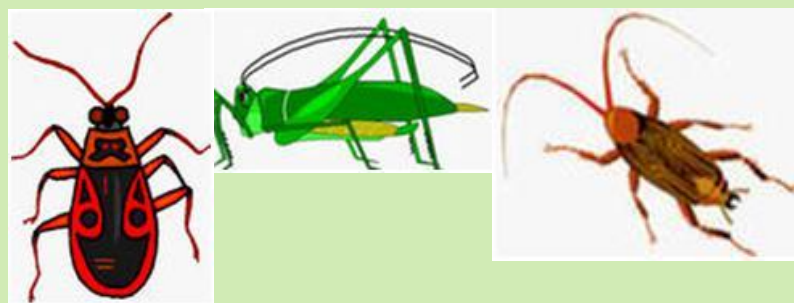

# СОСТАВЬ И РЕШИ ЗАДАЧУ



# СОСТАВЬ РЕШИ ЗАДАЧУ НА СЛОЖЕНИЕ

$$3+4=...$$

$$5+3=...$$



# СОСТАВЬ И РЕШИ ЗАДАЧУ НА ВЫЧИТАНИЕ

$$6-2= \dots$$



# СОСТАВЬ И РЕШИ ЗАДАЧУ НА ВЫЧИТАНИЕ

$$7-3= \dots$$





ВЫБЕРИ ЛЮБУЮ ЦИФРУ. НАЗОВИ ДЕНЬ НЕДЕЛИ, КОТОРЫЙ ЕЙ  
СООТВЕТСТВУЕТ

ЕСЛИ СЕГОДНЯ СРЕДА, КАКОЙ ДЕНЬ БУДЕТ ЗАВТРА?

СЕГОДНЯ ЧЕТВЕРГ, ЗНАЧИТ ВЧЕРА БЫЛ...







СЕГОДНЯ СУББОТА, А ПОЗАВЧЕРА БЫЛ...?



НАЗОВИ ГЕОМЕТРИЧЕСКИЕ ФИГУРЫ

КАКИЕ ФИГУРЫ ОТНОСЯТСЯ К МНОГОУГОЛЬНИКАМ? СКОЛЬКО  
ЗДЕСЬ МНОГОУГОЛЬНИКОВ?

ЧЕМ ОТЛИЧАЮТСЯ КРУГ И ОВАЛ? ЧЕМ ОНИ ПОХОЖИ?








КАКАЯ ФИГУРА РАСПОЛОЖЕНА В ЦЕНТРЕ?

ГДЕ НАХОДИТСЯ ТРЕУГОЛЬНИК?


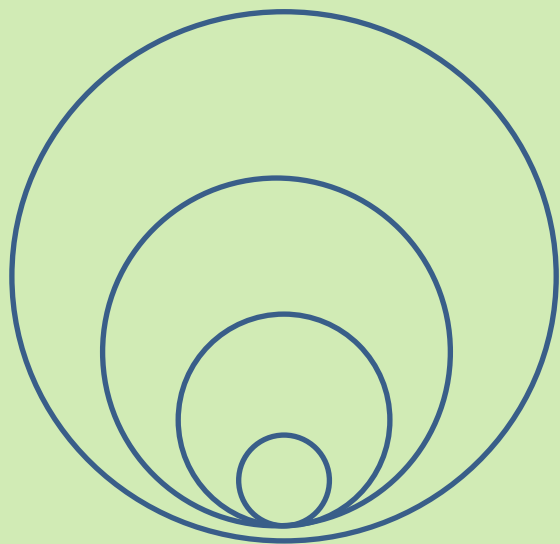
В ЛЕВОМ ВЕРХНЕМ УГЛУ НАХОДИТСЯ ...

ПЯТИУГОЛЬНИК РАСПОЛОЖЕН В ...

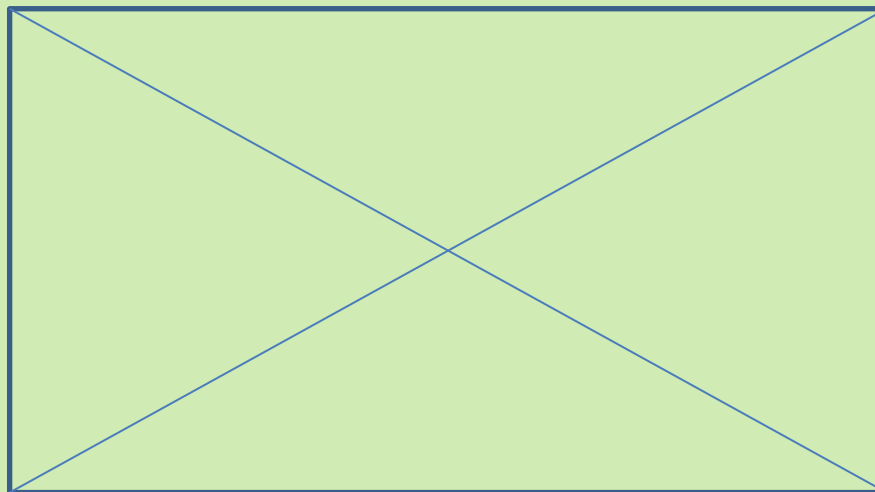
КАКОЙ ПРЯМОУГОЛЬНИК НАХОДИТСЯ ВНИЗУ?



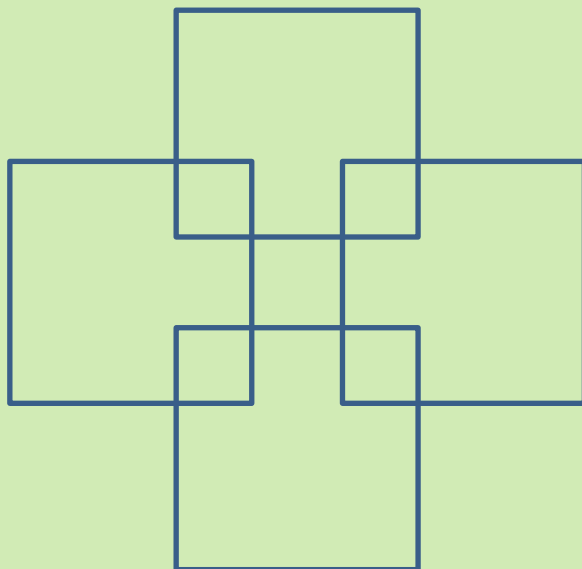
**ГДЕ КРУГОВ БОЛЬШЕ? СПРАВА ИЛИ СЛЕВА?**












ПОСЧИТАЙ, СКОЛЬКО ЗДЕСЬ ТРЕУГОЛЬНИКОВ?




**СКОЛЬКО ЗДЕСЬ КВАДРАТОВ?**



Заполни таблицу





Молодцы!