

«Если с другом вышел в путь»



Робинз
он
Крузо

Покупк
а

Кто
есть
кто?

Кто
определи
т
точнее?

Путешес
твие

Музыка

Постро
йка

Загада
лки

Кто
быстре
е?



Робинзон Крузо



Робинзон Крузо решил засеять просом участок земли прямоугольной формы. Сколько семян проса должен заготовить Робинзон Крузо, если по норме посева на 1 а требуется 150 г семян.



Покупка



У Гарфилда двухрублёвых монет столько же, сколько и пятирублёвых. Сколько яблок по цене 5 руб за штуку сможет он купить, если всего у Гарфилда 18 монет?



Кот есть кто?



Володя?



Серёжа?



Миша?



Коля?

Никита?



Пятеро друзей Миша, Коля, Никита, Серёжа и Владимир имели разный год рождения. Самый старший родился в 1989 г. Известно, что Володя старше Коли, но моложе Никиты. Серёжа старше Миши, а Коля старше Серёжи. В каком году родился каждый из мальчиков, если Миша родился в 1985 г?



Кто определит точнее?



- Начертите на бумаге отрезок длиной 1 дециметр.
- Возьми стакан с крупой. Какова его масса? Проверьте на весах.
- Назовите диаметр указки? Проверьте с помощью штангенциркуля.
- Кто точнее разведет руки на расстояние 1 метр?
- Какова величина вашего шага? Проверьте.
- Сколько конфет в вазе?
- Какова длина парты?



Путешествие




В 12.00 из деревни Коляново вышел коляновец со скоростью 4 км/ч. В тот же момент по той же дороге навстречу ему из деревни Дегтярёво вышел дегтярёвец со скоростью 6 км/ч. Они встретились, поговорили 5 мин и пошли дальше. Каждый дошёл до другой деревни, побыл там 15 мин и пошёл обратно. На обратном пути они снова встретились и, не останавливаясь, пошли дальше, каждый в свою деревню. Расстояние между деревнями 12 км.

Задайте к этому тексту вопросы, какие сможете, и найдите на них ответы.



На постройке храма



Для отделки фасада храма привезли мрамор трех цветов: белый, розовый и голубой, в отношении 3:2:1, всего 6000 талантов. Сколько мрамора каждого вида привезли на постройку храма? На сколько талантов больше было белого мрамора, чем голубого?



Загадки

1. Ничего не стоящий, не значащий человек.
Ничего, ничто.

2. Чертежный инструмент.
Сговорились две ноги делать дуги и круги.



3. Детская игрушка.
Геометрическое тело – многогранник.

4. Это геометрическая фигура.
Она может быть спасательным...

5. Этим стреляют из ружья.
Ее выстукивают на барабанах.

6. Ими пользуются в магазине.
Простейший калькулятор.

7. Они доходят до нас от солнца.
Бывает координатным или числовым.



8. За это снижают отметки.
Отличники их делают редко.
На них учатся.



9. Запомнить их невозможно.
По ним считают.
Их полно в справочнике.



10. Она нужна, чтобы не говорить глупостей.
Когда одно вытекает из другого.
Бывает математическая, бывает и женская.

11. Обычно находится в центре города.
Выражается квадратным числом.
Длина на ширину.


12. Мы на нем живем.
Похож на арбуз.



13. Такое действие.
Есть такая таблица.



14. Есть в спектакле.
Бывают арифметические.



Определите скорость



850 км/ч

10000 км/ч

15 км/ч

5 км/ч




60 км/ч

80 км/ч


300 км/ч




110 км/ч



30 км/ч



Музыка



Занятия ребенка в музыкальной школе родители оплачивают в сбербанке, внося ежемесячно 250 рублей. Оплата должна производиться до 15 числа каждого месяца, после, чего за каждый просроченный день начисляется пеня в размере 4% от суммы оплаты занятий за один месяц.

Сколько придется заплатить родителям, если они просрочат оплату на неделю?

