




ПРОДУКТИВНЫЕ ЗАДАНИЯ

4 класс



*Автор работы:
учитель начальных классов
МАОУ «СОШ №15»
г. Губаха, Пермский край
Атаманова Юлия Юрьевна*


Математика

Базовый уровень

Длина тела обычного попугая 24 см, а самого большого попугая 1 м. На сколько см длина тела большого попугая больше, чем длина тела обычного? Выбери верное выражение для решения задачи.

- а) $100 - 24$ б) $24 - 1$ в) $100 + 24$ г) $24 + 1$

Умение: проверять правильность хода решения задачи



Критерии: правильно выбранный ход решения – 1 балл
Неверно выбранный – 0 баллов



Математика

Повышенный уровень

Ребята решили задачу:

Длина тела обычного попугая **24 см**, а самого большого попугая **1 м**. На сколько см длина тела большого попугая больше, чем длина тела обычного? **Объясни, какие ошибки допустили ребята в ходе решения задачи.**

Маша

$$1 \text{ м} = 100 \text{ см}$$

$$100 - 24$$

Ответ: на 76 см

Петя

$$1 - 24 =$$

Ответ: на 23 см

Вася

$$1 \text{ м} = 100 \text{ см}$$


$$100 + 24$$

Ответ: на 124 см

Критерии: За полный верный ответ – 2 балла, не полный ответ (не указали все ошибки) – 1 балл, за неверный ответ – 0 баллов



Русский язык



Базовый уровень


В третьем абзаце во **втором** предложении подчеркните главные и второстепенные члены предложения.

Попугаи долбят клювом твёрдые плоды.

Умение: определять главные и второстепенные члены предложения

Критерии: Правильно указаны все главные и второстепенные члены – 5 баллов, один указан не верно – 4 балла, 2 не верно – 3 балла, 3 не верно – 2 балла, 4 не верно – 1 балл, все не верно – 0 баллов.

Русский язык



Повышенный уровень

Из 3 абзаца выпишите все предложения которые соответствуют заданной схеме:



Критерии: за каждое верное предложение по 4 балла (всего 2 предложения).
Неверное предложение – 0 баллов.

Окружающий мир

Базовый уровень

Заполните пропуски:

1. Самым характерным признаком отряда является _____.
2. _____ на лапах повернуты назад, так что попугаи не только хорошо охватывают лапами ветки, но могут подносить лапой пищу к клюву.
3. Эти птицы преимущественно растительноядные, основной корм _____.
4. Гнездятся почти все попугаи в _____. Однако есть виды, которые делают это в _____.

Умение: поиск и выделение необходимой информации

Критерии: Заполнены все пропуски без ошибок – 5 баллов, 1 ошибка или пропуск – 4 балла, 2 ошибки – 3 балла, 3 ошибки – 2 балла, 4 ошибки – 1 балл, и все неверно – 0 баллов.



Окружающий мир

Повышенный уровень

Опираясь на текст заполните таблицу:

	Описание	Для чего
Клюв		
Лапы		
Окрас		
Хвост		



Критерии: за каждую правильно заполненную ячейку – 1 балл (максимальное количество баллов 8).

