

Угол. Виды углов

$$\begin{array}{r}
 + \quad \begin{array}{r} 7 \square \\ \square 5 \\ \hline 97 \end{array}
 \quad + \quad \begin{array}{r} \square 4 \\ 3 \square \\ \hline 59 \end{array}
 \end{array}$$

$$5 \square + 18 > \square 3 + 20$$

$$5 \text{ дм } 2 \text{ см} < \square \text{ см}$$

Как вы думаете, какую длину имеют эти животные:

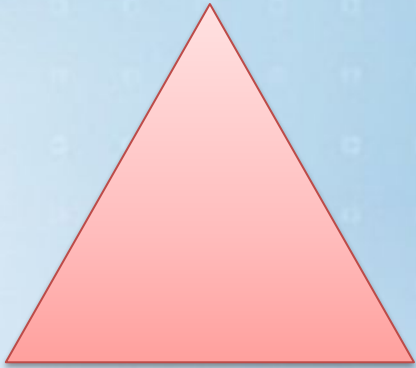


3 см 25 дм 1 дм




72 15 36 49 21 7 47 56 8
Г Р Е О Т Я М Е И

72 56 49 47 36 21 15 8 7
Г Е О М Е Т Р И Я



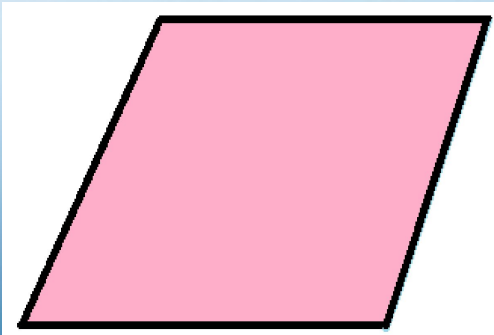
1




2



3



4



5

