

МКОУ Скатинская СОШ  
Учитель географии Леванова В.А.



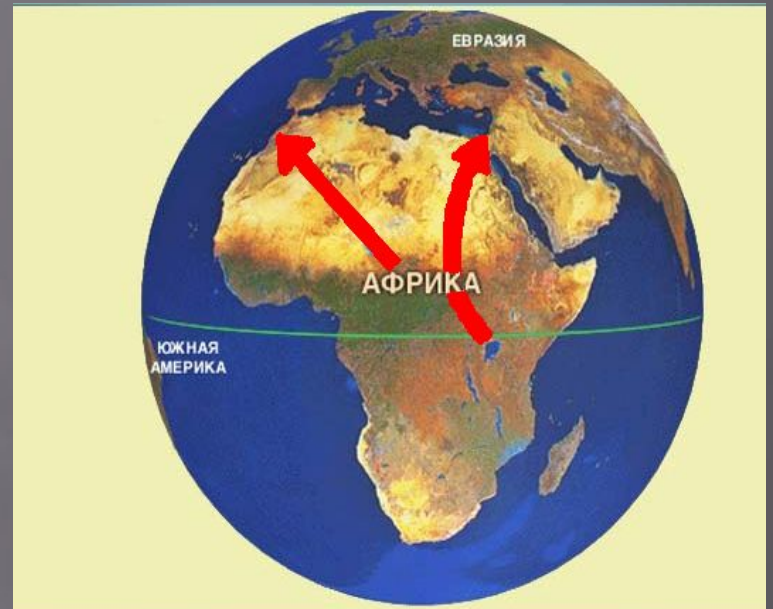
# Население Африки



- Цели урока: познакомить учащихся с особенностями коренного населения Африки, с расовым и этническим составом материка, выявить взаимосвязь природных зон и плотности населения, взаимосвязь рас и природных зон.

*Африка –  
прародина человека*

На территории современных  
*Эфиопии, Кении и Танзании*



были обнаружены останки  
человека  
и его орудия труда, возраст  
которых  
более **20** млн. лет.





- На какие основные расы делится население Земли?

# Расы

**Расы** - это исторически сложившиеся группы людей, связанные единством происхождения, имеющие сходные признаки, которые передаются по наследству

Темный цвет кожи, волос и глаз, спирально завитые или волнистые волосы, широкий нос, толстые губы

Кожа смуглая с желтоватым оттенком, волосы прямые черные, лицо крупное, узкий разрез глаз

Кожа от светлой до смуглой с розоватым или красноватым оттенком, волосы мягкие, волнистые или прямые

Чем отличаются представители каждой расы друг от друга?

**Признаки**

1. Представители каких рас проживают на материке Африка?

2. В какой части материка проживают представители европеоидной расы?

3. К какой расе относится большая часть населения Африки?





Приведите  
примеры  
народов для  
каждой расы





# Численность населения Африки составляет 1,1 млрд.

Человек





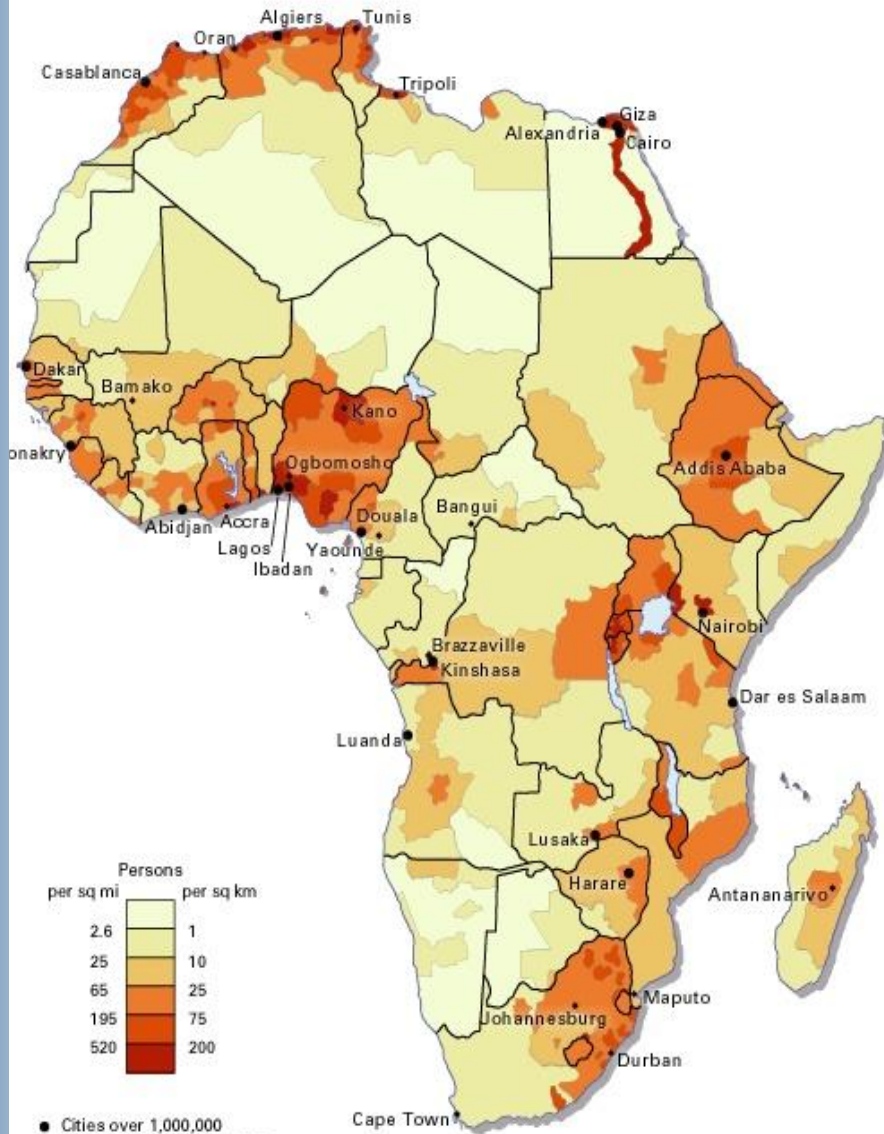


# Плотность населения

Средняя плотность населения

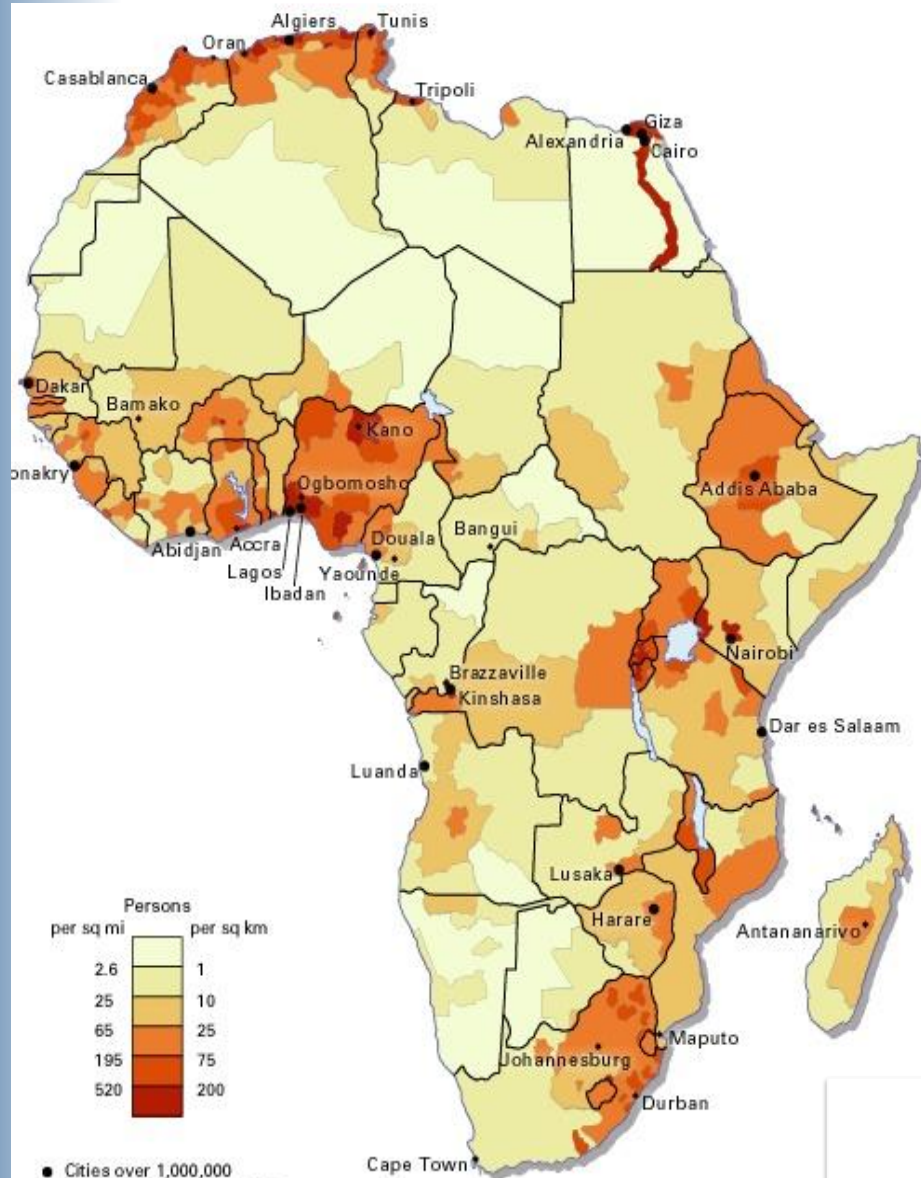
КОНТИНЕНТА –

ОКОЛО **30** чел./км<sup>2</sup>





# Размещение населения

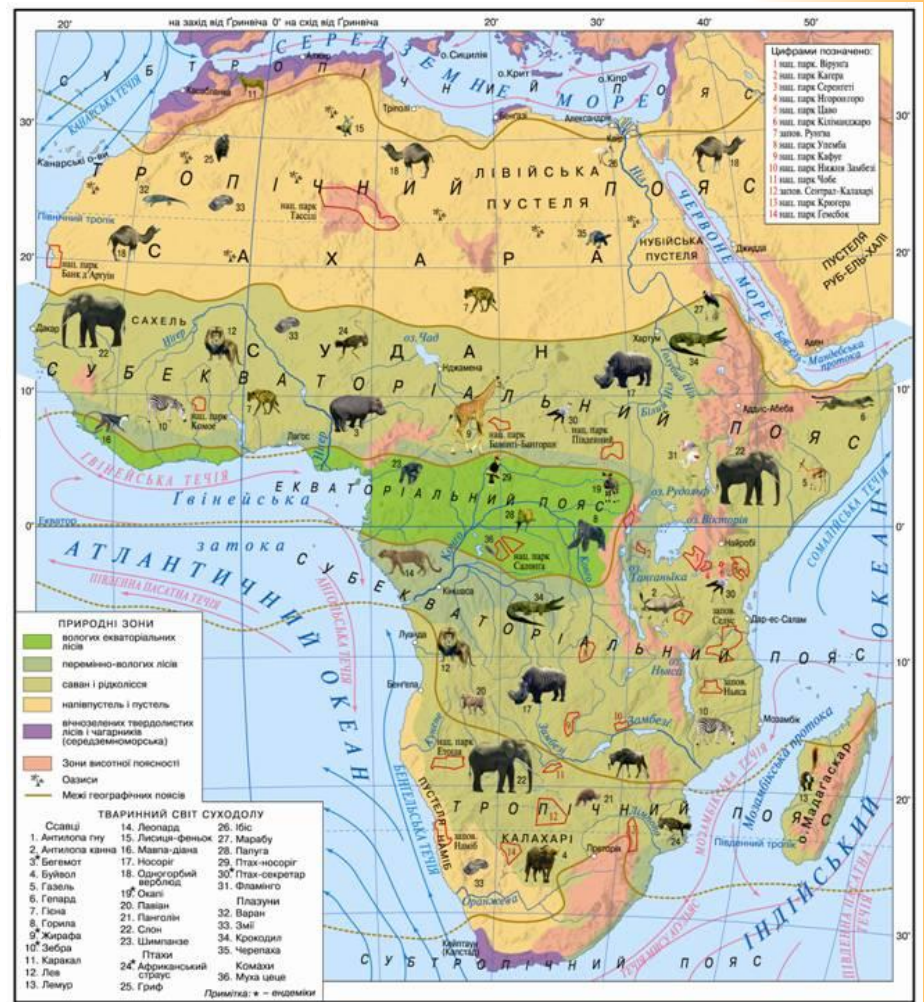
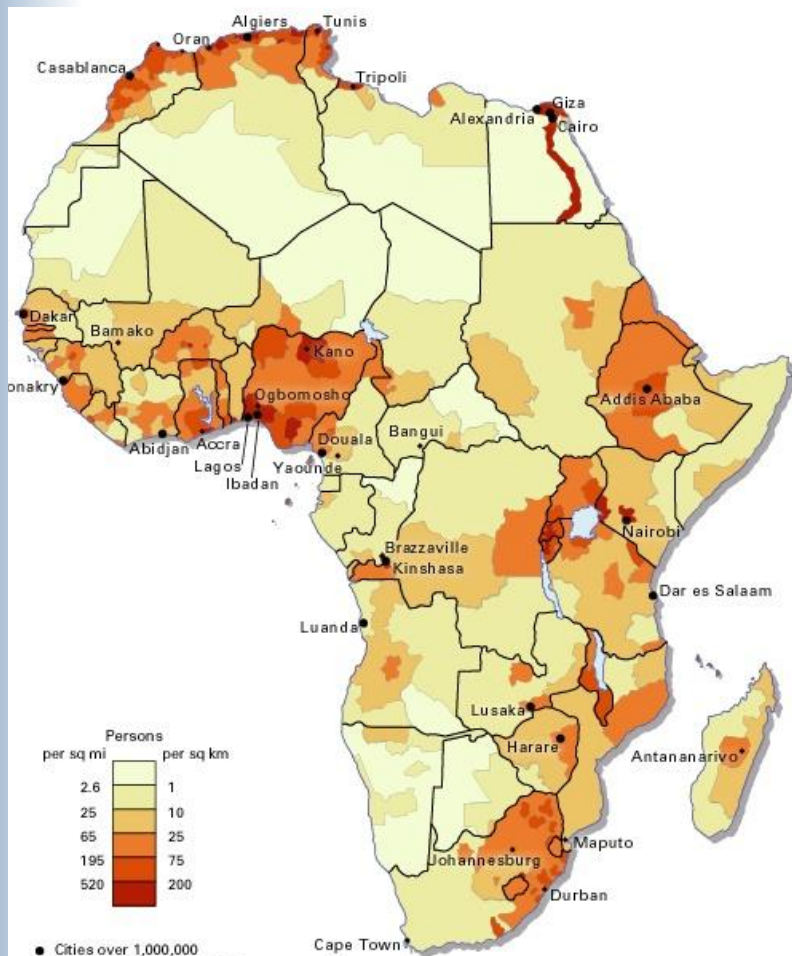


1. Каким способом на карте показано размещение населения?
2. Как изображаются на карте незаселенные территории?
3. Где на материке плотность населения более 100 человек на 1 км<sup>2</sup>?
4. Где на материке плотность населения менее 1 человек на 1 км<sup>2</sup>?
5. Какая плотность населения преобладает в бассейне реки Конго?
6. Какова плотность населения на востоке материка?

Карта в атласе - с.12-13



# Сравнить карты: природные зоны Африки и плотность населения. В каких природных зонах наибольшая плотность населения, наименьшая? Объяснить закономерность.





Для каких природных зон характерны данные жилища? Почему в постройках отсутствуют окна?




постройки в Мали



шатер пигмеев




дом жителей острова Мадагаскар



постройки жителей Камеруна



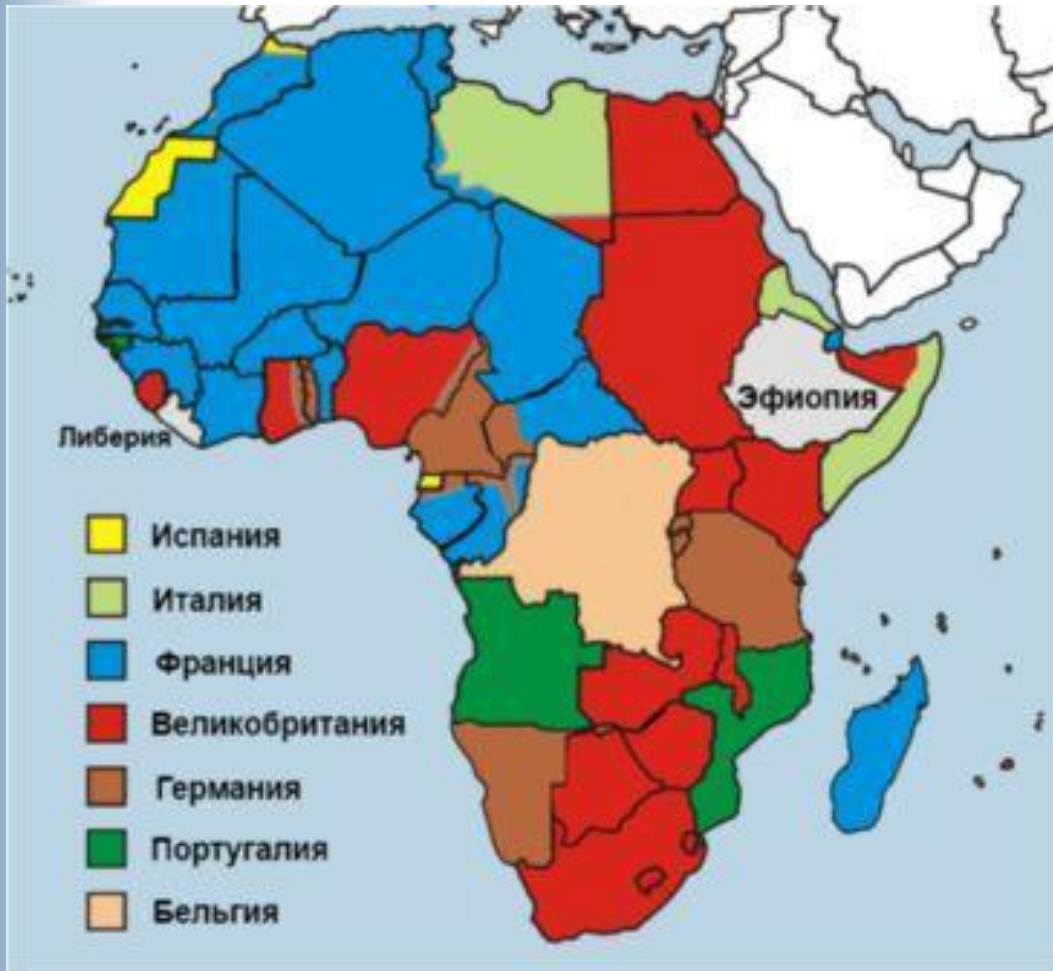
хижина жителей Замбии



шатер туарегов



# Колониальное прошлое



□ К началу XXв. – Африка превратилась в материк колоний стран Европы. (только Либерия и Эфиопия были свободными)

□ В середине XXв. Африка стала материком национально-освободительной борьбы

□ В конце XXв. Африка превратилась в материк независимых государств

**Колония** – это страна, лишенная политической и хозяйственной самостоятельности.



## Закрепление изученного материала

- 1.** Какой материк ученые считают прародиной современного человека?
- 2.** К какой расе относится большая часть населения Африки?
- 3.** Какие народы проживают в полупустынях и пустынях Южной Африки?
- 4.** Эти «лесные люди» отличаются желтоватым цветом кожи, очень широким носом, малым ростом? Кто это?
- 5.** Где в пределах материка проживает пришлое население европеоидной расы?
- 6.** Какова численность населения Африки? Чему равна средняя плотность населения материка?
- 7.** Как называется страна, лишенная политической и хозяйственной самостоятельности?



# Тест

1. В АФРИКЕ ПРОЖИВАЕТ ... ЧЕЛОВЕК.

а) менее 500 млн., б) 500 млн. - 850 млн., в) более 1 млрд.

2. В ЭКВАТОРИАЛЬНОЙ АФРИКЕ ПРЕОБЛАДАЕТ НАСЕЛЕНИЕ ... РАСЫ.

а) негроидной, б) европеоидной, в) монголоидной.

3. НАСЕЛЕНИЕ СЕВЕРНОЙ АФРИКИ:

а) малагасийцы, б) арабские народы, в) народы банту.

4. САМЫЕ НИЗКИЕ НАРОДЫ АФРИКИ НАЗЫВАЮТСЯ:

а) пигмеи, б) лилипуты, в) бушмены.

5. НАИБОЛЕЕ ДРЕВНИЕ ОСТАНКИ ЧЕЛОВЕКА БЫЛИ НАЙДЕНЫ В:

а) Египте, Ливии, Алжире, б) Нигерии, Габоне, Чаде,  
в) Танзании, Кении, Эфиопии.

6. ОДИН ИЗ САМЫХ ВЫСОКИХ НАРОДОВ АФРИКИ:

а) бушмены, б) масаи, в) арабы.

7. ПРИШЛОЕ НАСЕЛЕНИЕ АФРИКИ ПРОЖИВАЕТ:

а) на экваторе, б) на побережье Гвинейского залива,  
в) на северном и южном побережье материка.



# Тест

1. В АФРИКЕ ПРОЖИВАЕТ ... ЧЕЛОВЕК.

а) менее 500 млн., б) 500 млн. - 850 млн., **в) более 1 млрд.**

2. В ЭКВАТОРИАЛЬНОЙ АФРИКЕ ПРЕОБЛАДАЕТ НАСЕЛЕНИЕ ... РАСЫ.

**а) негроидной,** б) европеоидной, в) монголоидной.

3. НАСЕЛЕНИЕ СЕВЕРНОЙ АФРИКИ:

а) малагасийцы, **б) арабские народы,** в) народы банту.

4. САМЫЕ НИЗКИЕ НАРОДЫ АФРИКИ НАЗЫВАЮТСЯ:

**а) пигмеи,** б) лилипуты, в) бушмены.

5. НАИБОЛЕЕ ДРЕВНИЕ ОСТАНКИ ЧЕЛОВЕКА БЫЛИ НАЙДЕНЫ В:

а) Египте, Ливии, Алжире, б) Нигерии, Габоне, Чаде,  
**в) Танзании, Кении, Эфиопии.**

6. ОДИН ИЗ САМЫХ ВЫСОКИХ НАРОДОВ АФРИКИ:

а) бушмены, **б) масаи,** в) арабы.

7. ПРИШЛОЕ НАСЕЛЕНИЕ АФРИКИ ПРОЖИВАЕТ:

а) на экваторе, б) на побережье Гвинейского залива,  
**в) на северном и южном побережье материка.**

ПРАВИЛЬНЫЕ ОТВЕТЫ: 1.в 2.а 3.б 4.а 5.в 6.б 7.в





- 6 баллов- «5»
- 5 баллов – «4»
- 4 балла – «3»



# Домашнее задание.

- Параграф 30
- Составить кроссворд «Страны Африки»
- Составить презентацию об одной из стран Африки.