


Урок математики в 1 классе

Учитель: Голикова Лариса
Валентиновна

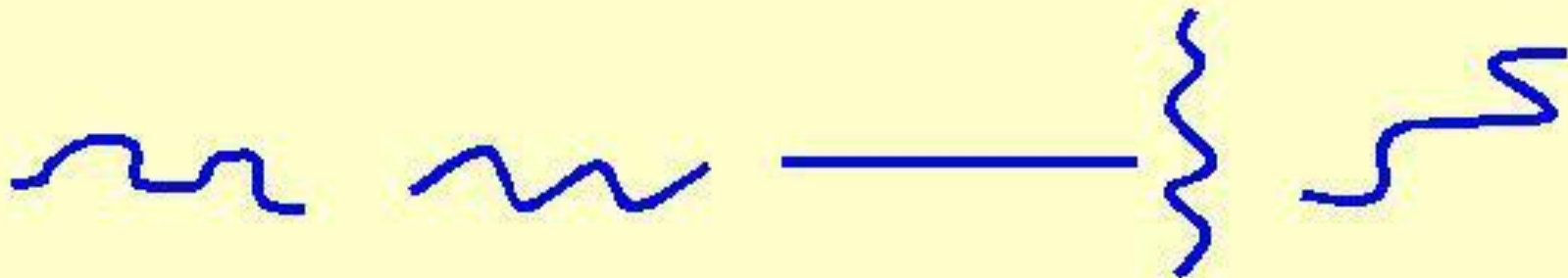
МБОУ СОШ №70 имени И. А.
Леонова

Найди лишнюю фигуру


1.



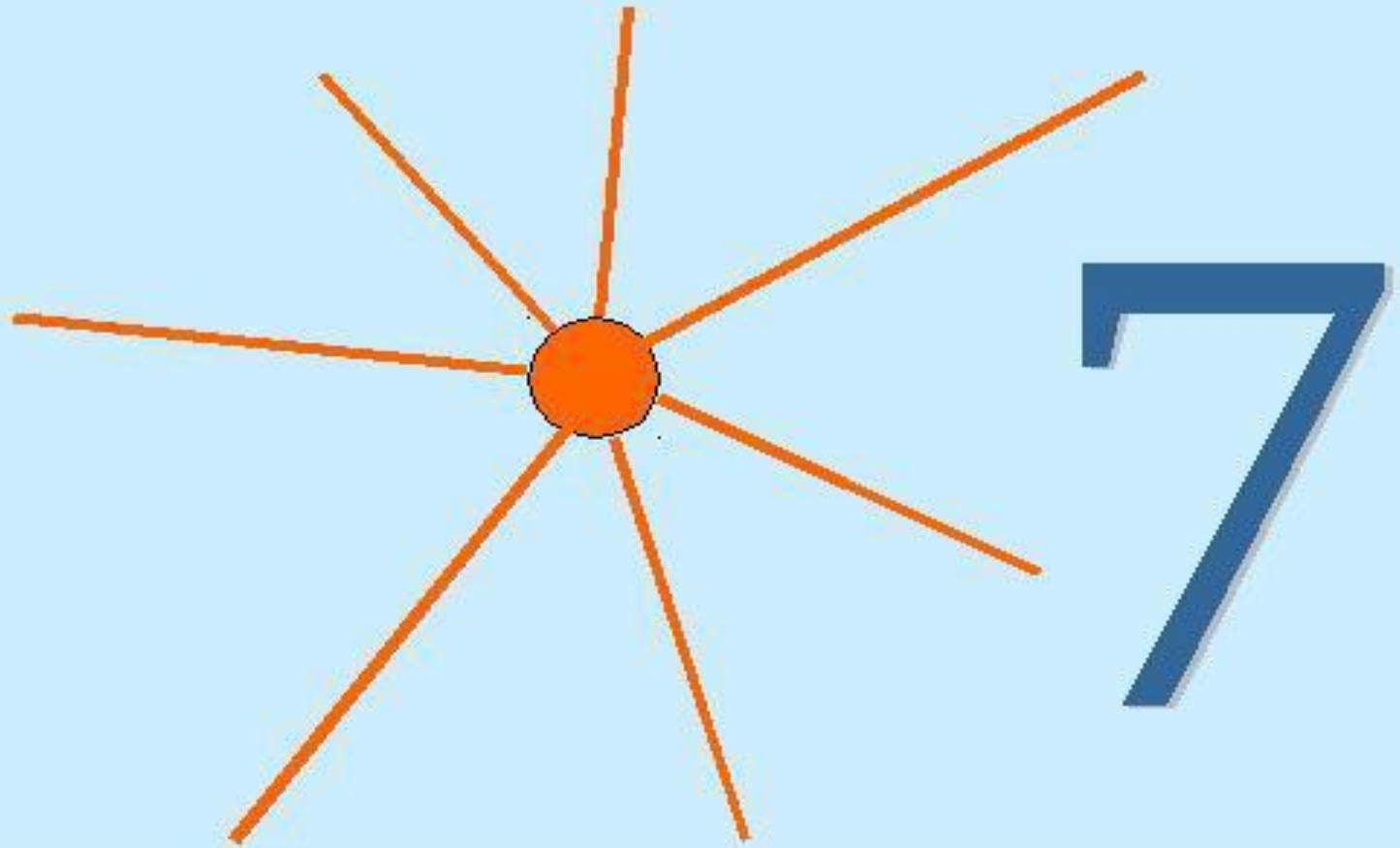
2.



3.



Сколько у солнышка лучей?



Какие числа пропущены?

9 2

3 9

Назови числа от большого к меньшему

8, 7, 3, 9, 1, 4, 6

Математический диктант

**Какое число стоит
перед числом 6?**

А) 8, 7, 3, 9

Б) 1, 5, 8, 4

**Какое число стоит
за числом 6?**

А) 8, 7, 3, 9

Б) 1, 5, 8, 4

**Какое число стоит
между числами 4 и 2?**

А) 8, 7, 3, 9

Б) 1, 5, 8, 4

**Какое число стоит
перед числом 2?**

А) 8, 7, 3, 9

Б) 1, 5, 8, 4

**Какое число стоит
за числом 3?**

А) 8, 7, 3, 9

Б) 1, 5, 8, 4

**Какое число стоит
между числами 7 и 9?**

А) 8, 7, 3, 9

Б) 1, 5, 8, 4

Назови соседей 5?

А) 8, 7, 3, 9

Б) 1, 6, 8, 4




$$6 + 2 = 8$$

слагаемое

слагаемое

сумма






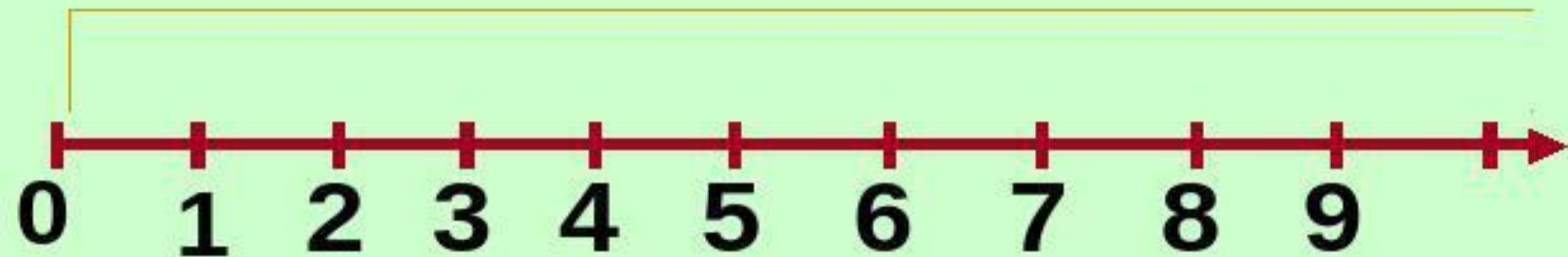
$$4 + 4 = 8$$

слагаемое

слагаемое

сумма






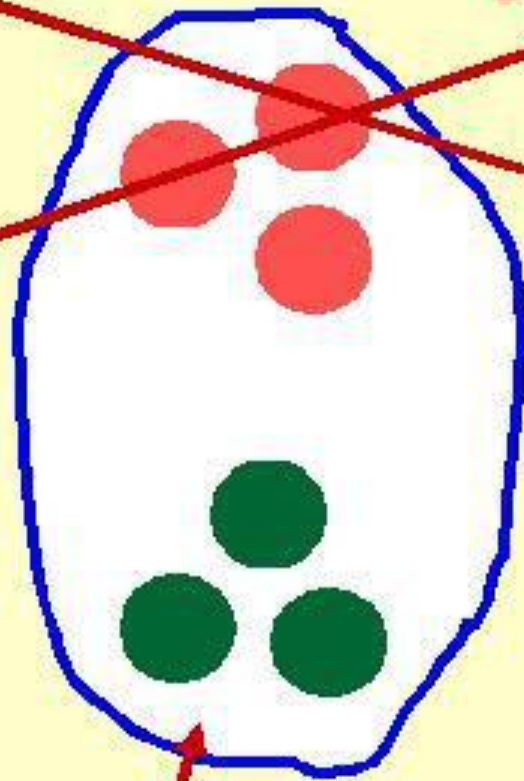

$$2 + 4 = 6$$

$$4 + 3 = 7$$

$$7 + 2 = 9$$

$$5 + 1 = 6$$

$$4 + 2 = 6$$



$$3 + 3 = 6$$