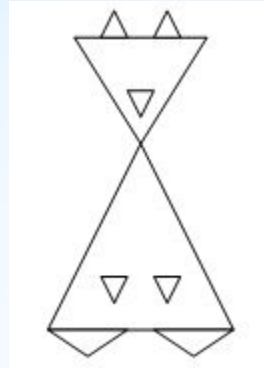


*Прямая и луч

2 класс. Урок18

* Рассмотрите фигуры в каждом ряду и найдите «лишнюю»



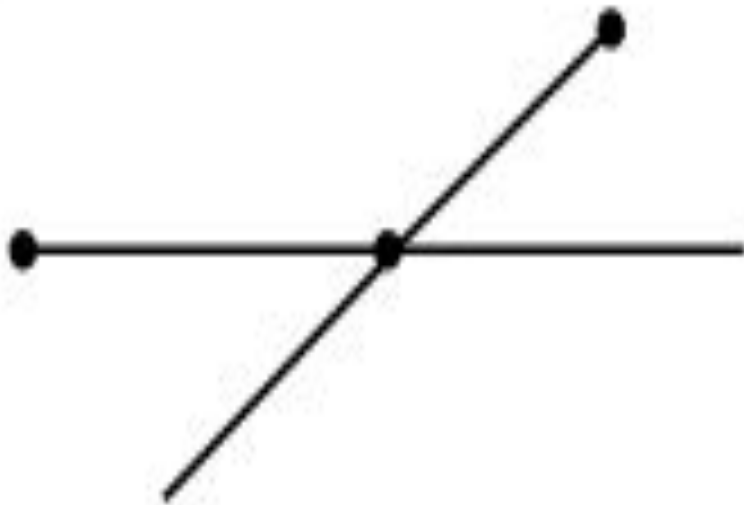


*** Какие фигуры и
СКОЛЬКО ВЫ насчитали?**

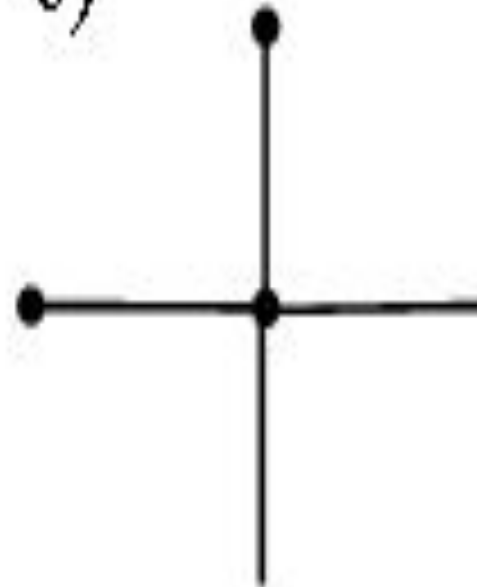


- * Начертите прямую. Отметьте на ней точку.
Начертите прямую. Отметьте на ней точку.

a)



б)

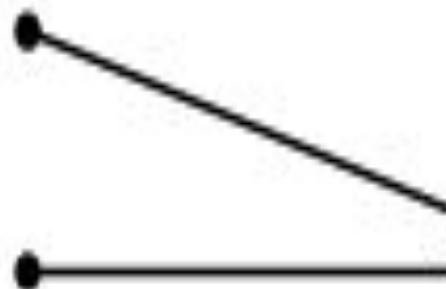


ЭТОМ ЖЕ ЛИСТЕ.

а)



б)



**которых находится за пределами
этого листа.**

a)



b)





не совпадает с его началом. Покажите
на этом чертеже новый луч с помощью
красного цвета.