

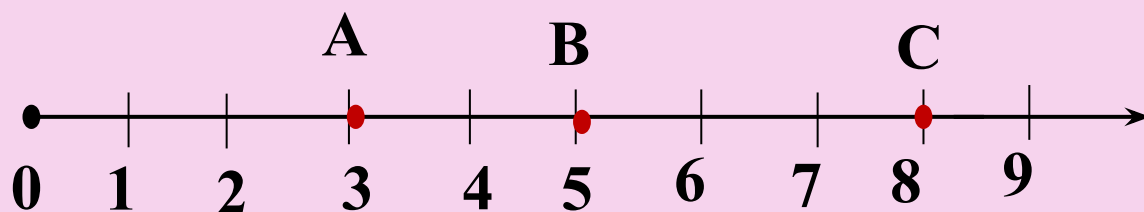
**Кто с детских лет занимается математикой, тот развивает внимание, тренирует свой мозг, свою волю, воспитывает настойчивость и упорство в достижении цели.**

**А. Маркушевич**



**Представление натуральных чисел на координатном луче**

**Луч, который имеет направление и единичный отрезок, называется координатным лучом.**



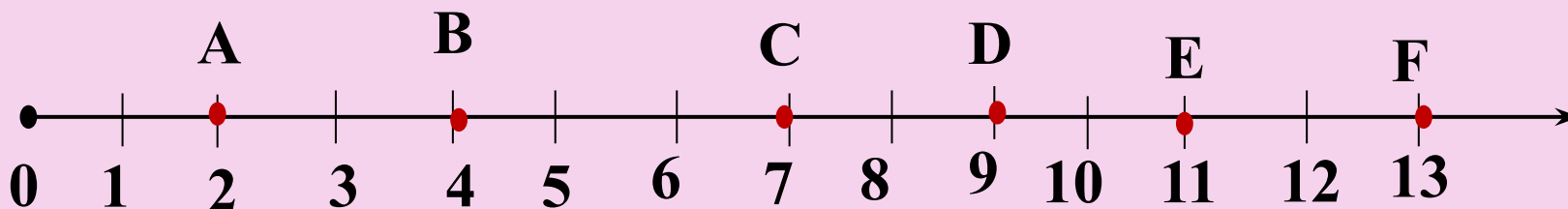
**Отрезок, длина которого равна единице, называется единичным отрезком.**

**Число, которое определяет положение точки на координатном луче, называется координатой точки.**

**A(3), B(5), C(8).**

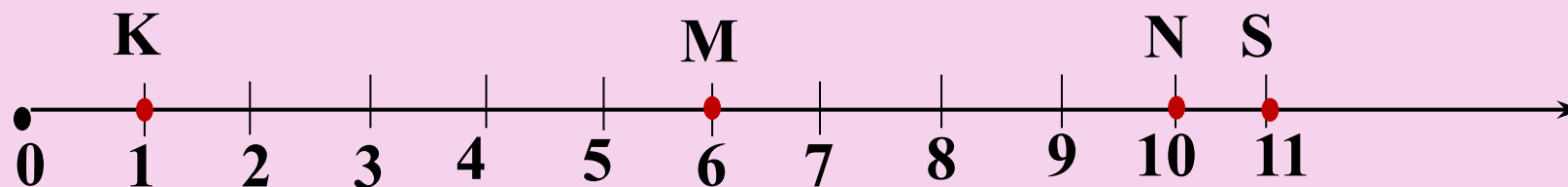
**Задание.**

**Запишите координаты точек, отмеченных на координатной прямой.**



**A(2), B(4), C(7), D(9), E(11), F(12).**

**Отметьте точки на координатной прямой.**



**K(1), M(6), N(10), S(11).**