

# Умеешь ли ты решать задачи?



**Глебова Г.А.**  
**Учитель начальных классов**  
**МОУ «Лицей г.Козьмодемьянска»**

# Необходимые умения

## 5

**5. Четко сформулировать пояснения и ответ**

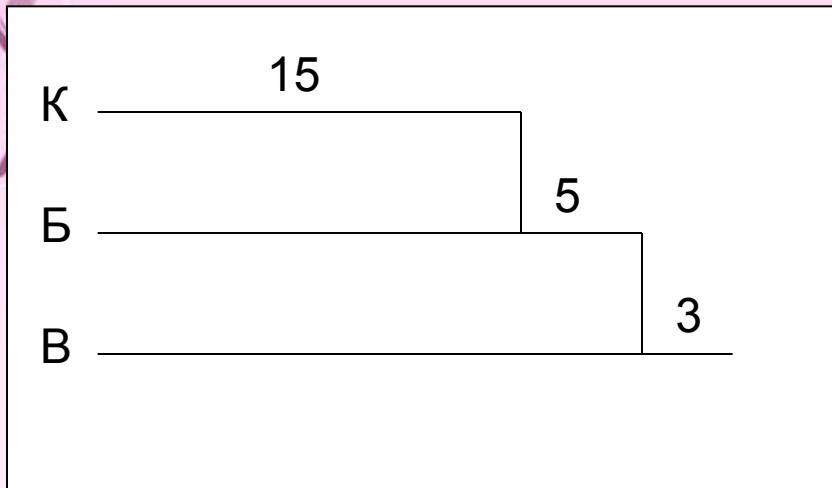
**4. Правильно произвести вычисления**

**3. Записать выражения соответствующие схеме**

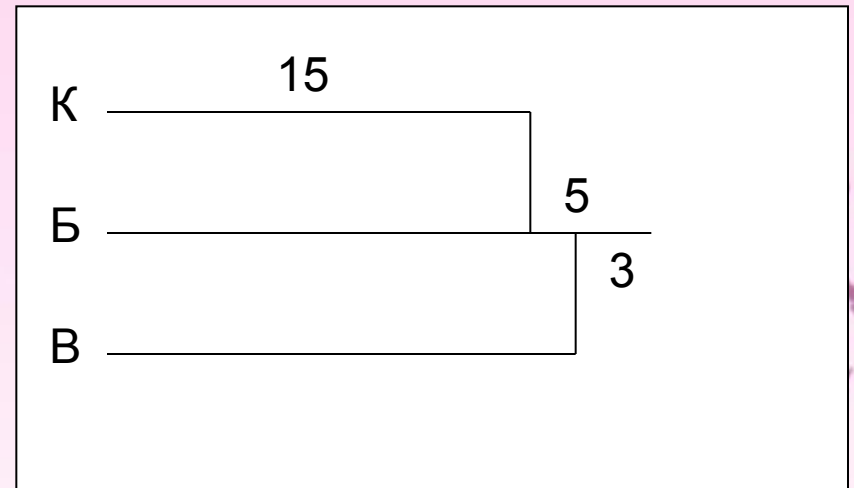
**2. Выполнить рисунок или начертить схему**

**1. Прочитать внимательно текст задачи**

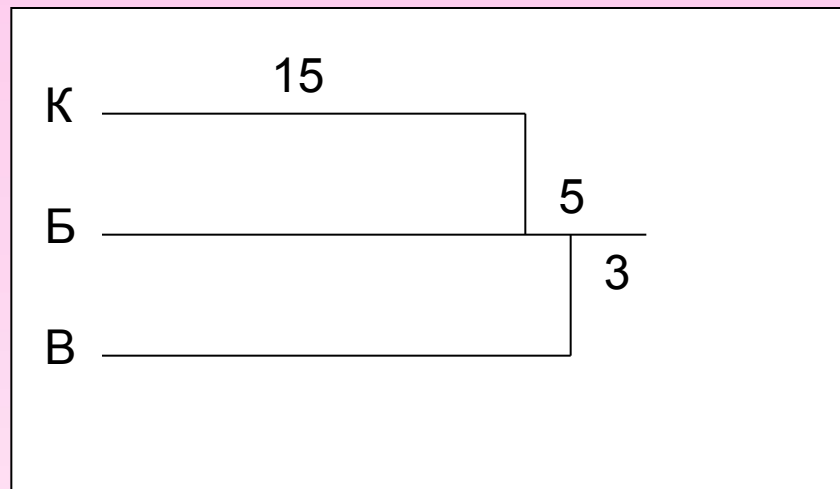
У Кости в коллекции 15 машинок,  
у Бори на 5 машинок больше чем у Кости.  
А у Вовы на 3 машинки меньше Чем у Бори.



Выбор

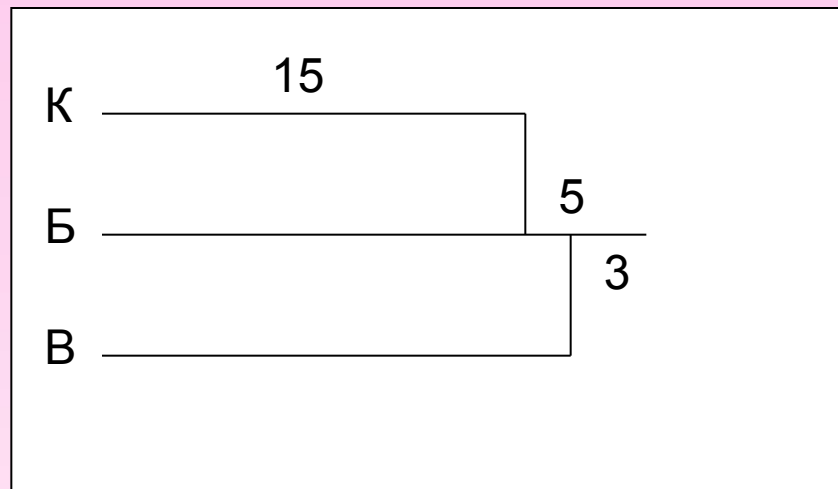


Выбор



**Сколько машинок у Бори?**

$$15+5=20 \text{ (м)}$$



**На сколько машинок больше у Вовы чем у Кости?**

**1 Способ:**

**$15+5=20(\text{м})$  – у Бори**

**$20-3=17(\text{м})$  – у Вовы**

**$17-15=2(\text{м})$  – больше**

**2 Способ:**

**$5-3=2(\text{м})$  – больше**

физминутка

















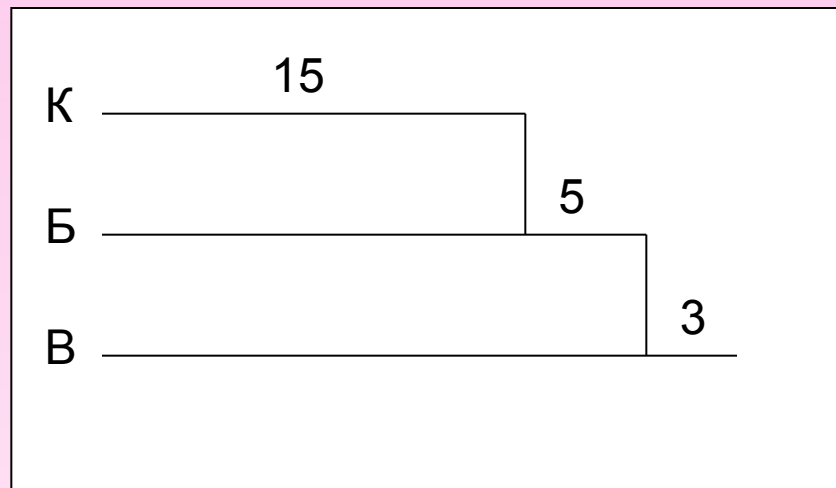












У Кости в коллекции \_\_\_\_\_ машинок,  
у Бори на \_\_\_\_\_ машинок \_\_\_\_\_ чем  
у Кости. А у Вовы на \_\_\_\_\_ машинки  
\_\_\_\_\_ чем у Бори.

1  
5

5

3

Больше

Меньше

The image features a light pink background with decorative floral and vine motifs in shades of purple and pink. These motifs are located in the top-left and bottom-right corners, framing the central text. The text itself is centered within a solid orange rectangular box.

**На гонки!!!**

# Тест

1. Когда Марина прочитала 5 из своих новых стихов, ей осталось прочитать ещё 6. Сколько всего новых стихов у Марины?

11 стихов

12 стихов

10 стихов

2. На ёлке было 12 шаров. После того как 3 шара разбились, купили ещё 5 шаров. Сколько шаров стало на ёлке?

17 шаров

20 шаров

14 шаров

# Тест

3. Тане 11 лет, а Ирине 8 лет. Через сколько лет Ирине Будет столько же, сколько сейчас Тане?

Через 11 лет

Через 3 года

Через 8 лет

4. В гирлянде 5 жёлтых лампочек, фиолетовых на 3 больше, а зелёных столько же, сколько жёлтых. Сколько всего лампочек в гирлянде?

18 лампочек

8 лампочек

16 лампочек

# Тест

5. На стол поставили 12 больших и маленьких тарелок. Сколько поставили маленьких тарелок, если больших 7?

7 тарелок

6 тарелок

5 тарелок

6. Продано 22 мешка ржаной муки, а пшеничной на 8 мешков больше. Сколько всего мешков муки продано?

25 мешков

30 мешков

52 мешка



# Домашнее задание

**Учебник**

**с 171 №559 и №560**

