

**Урок – игра
«Путешествие в
страну карт».**

6 класс

Дорогие ребята!

Выполните задания из презентации, начиная с 1 по 3 в любом порядке, лишь проставляйте номер задания.

**Задание №4 – по желанию.
Написать ответы на листочках и сдать учителю на проверку во вторник, 18 декабря.**

С уважением ваша Алла

~~000!!!~~ (вместо разминки)

В океане найдена бутылка, в которой обнаружена записка с указанием места нахождения клада. Попавшая в бутылку вода уничтожила некоторые буквы и цифры. Вместо точного указания места сохранились только следующие обрывки « 24 °... ш. и ... в.д. на остр... ... айва...».

**1/. Напишите название
географического объекта
(острова), координаты
которого равны:**



20° ю.ш. и 46° в.д.

42° ю.ш. и 147° в.д.

70° с.ш. и 40° з.д.

35° с.ш. и 136° в.д.

**2/. Напишите названия гор,
одна из точек которых имеет
координаты:**

15° ю.ш. и 70° з.

д.


40° с.ш. и

110° з.д.

43° с.ш. и 80° в.

д.

30° с.ш. и 80° в.




**3/. Определите
географические координаты:**

53°С.Ш. и 14°В.Д.

35°С.Ш. и 140°В.Д.


40°С.Ш. и 117°В.Д.

48°С.Ш. и 1°В.Д.


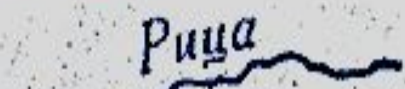


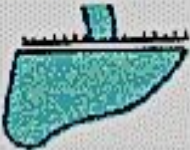
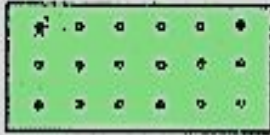
4/. «Расшифруй текст»

От  путь к нашему лагерю проходил через  , который

постепенно превратился в  . Чтобы сократить дорогу, мы пошли по

 , МИМО  , по  2, МИ-

МО  3. Через 15 минут мы вышли к  **Рица** , которую

перешли по  . От нее мы подошли к  , который окружал

наш лагерь.