

ПРОВЕРКА ЗНАНИЙ



Африка



1. Площадь материка Африка составляет:

- 1) 50 млн. кв. км.
- 2) 30,3 млн. кв. км.
- 3) 30,3 тыс. кв. км.

2. Самая высокая точка материка Африка:


- 1) г. Килиманджаро
- 2) Эфиопское нагорье
- 3) оз. Ассаль



3. Крайняя западная точка материка:

- 1) мыс Рас- Хафун
- 2) мыс Игольный
- 3) мыс Альмади

4. Протяженность материка Африка с запада на восток по сравнению с протяженностью с севера на юг:

- 1) меньше
 - 2) больше
 - 3) одинаковое
- 

5. Экватор пересекает Африку:

- 1) на западе
- 2) на севере
- 3) почти посередине

6. Африку от Европы отделяет:


- 1) Гибралтарский пролив
- 2) Средиземное море
- 3) Гвинейский залив



7. В середине 19 века несколько путешествий в глубь континента Африка совершил:

- 1) Васко да Гама
- 2) Н.И.Вавилов
- 3) Д. Ливингстон

8. Низменности в Африке распложены:

- 1) в центральной части
 - 2) вдоль побережий океанов и морей
 - 3) в южной части
- 

9. В основе материка залегает:

- 1) древнейшая платформа
- 2) молодая платформа
- 3) складчатая область

10. На северо-западе материка находятся горы:

- 1) Капские горы
- 2) Драконовы горы
- 3) горы Атлас



11. В Африке добывается самое большое в мире количество:

- 1) угля
- 2) алмазов
- 2) железной руды

12. Самая высокая температура на Земле зарегистрирована в Африке и составляет:

- 1) 60 градусов
- 2) 48 градусов
- 3) 58 градусов



13. Больше всего осадков выпадает:

- 1) В бассейне реки Конго
- 2) в Драконовых горах
- 3) в Капских горах

14. Одна из самых длинных рек мира, протекающая в Африке:

- 1) Замбези
- 2) Конго
- 3) Нил



15. Длина реки Конго составляет:

- 1) 6671 км.
- 2) 4320 км.
- 3) 5320 км.

16. Самое длинное из всех пресноводных озер мира, расположенное в Африке:

- 1) Виктория
- 2) Танганьика
- 3) Чад



17. В бассейне реки Конго и вдоль Гвинейского залива расположена природная зона:

- 1) саванн
- 2) экваториальных лесов
- 3) пустынь

18. Почвы в экваториальных лесах относят:

- 1) к плодородным
- 2) не плодородным



19. Окапи, леопард, обезьяны обитают:

- 1) в саваннах
- 2) в экваториальных лесах
- 3) в пустынях

20. Саванны занимают около:

- 1) 50% материка
- 2) 40% материка
- 3) 35% материка



21. Саванну можно назвать:

- 1) тропической пустыней
- 2) тропической лесостепью
- 3) тропической полупустыней

22. Бегемоты, страус, лев, зебра и носороги обитают:

- 1) в пустынях
- 2) в саваннах
- 3) в экваториальных лесах



23. Удивительное растение- вельвичия произрастает:

- 1) в пустыне Намиб
- 2) в пустыне Сахара
- 3) в пустыне Калахари

24) Гиены, ящерицы, шакалы, лисицы, змеи, скорпионы обитают:


- 1) в пустыне
- 2) в экваториальных лесах
- 3) в саваннах

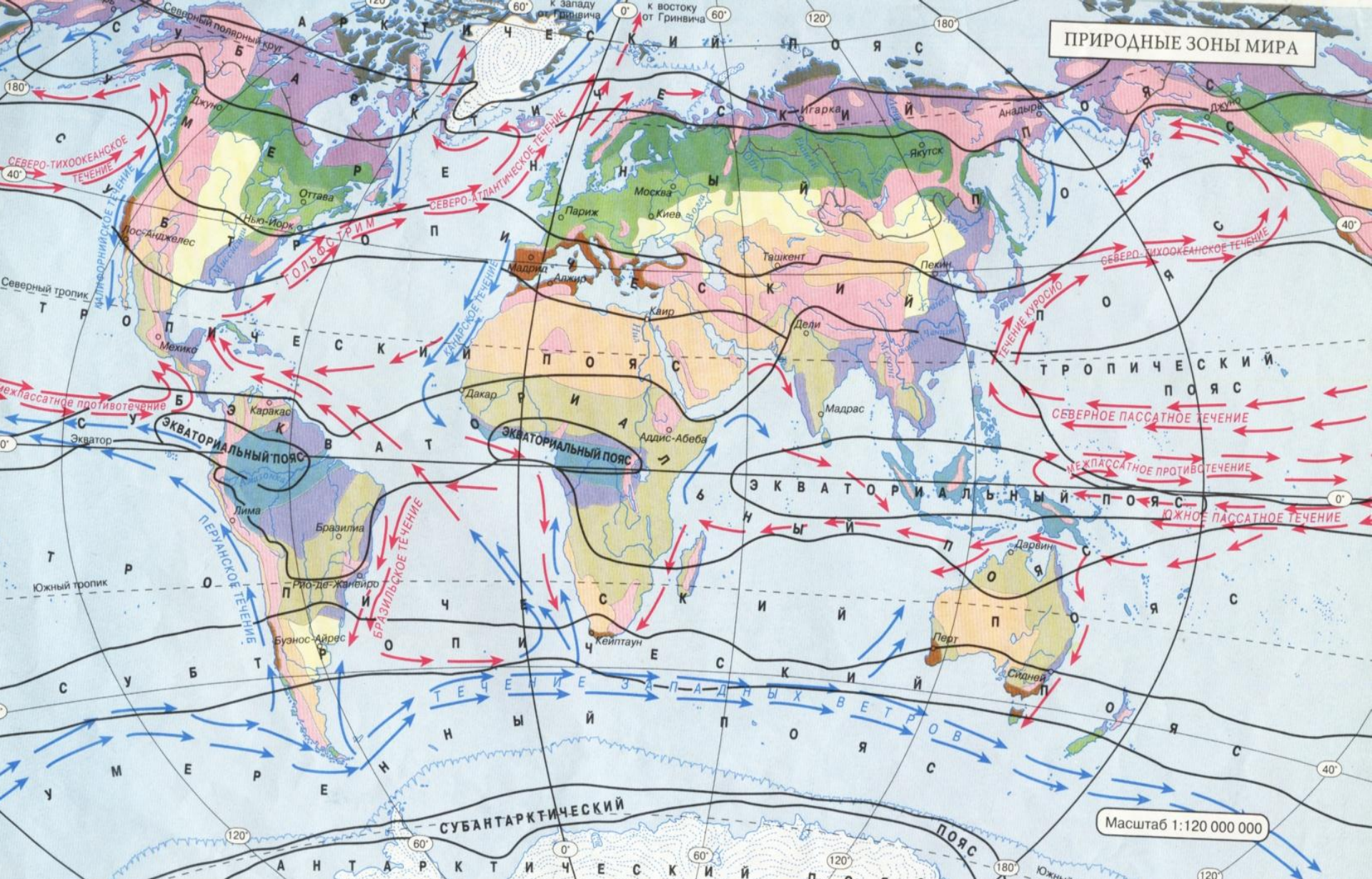


25) Площадь Сахары за последние полвека увеличилась:

- 1) на 600 тыс.кв.км.
- 2) 650 тыс.кв.км.
- 3) 650 кв.км.

Почему высшая точка Африки – вулкан Килиманджаро – находится в пределах платформы, а не складчатой области, как на других платформах?

- Высшая точка Африки находится на платформе, но это активизировавшийся участок земной коры, здесь проходит зона Великих Африканских разломов. С этим связаны явления вулканизма. Килиманджаро – самый высокий из африканских вулканов
- 



Климатические пояса.

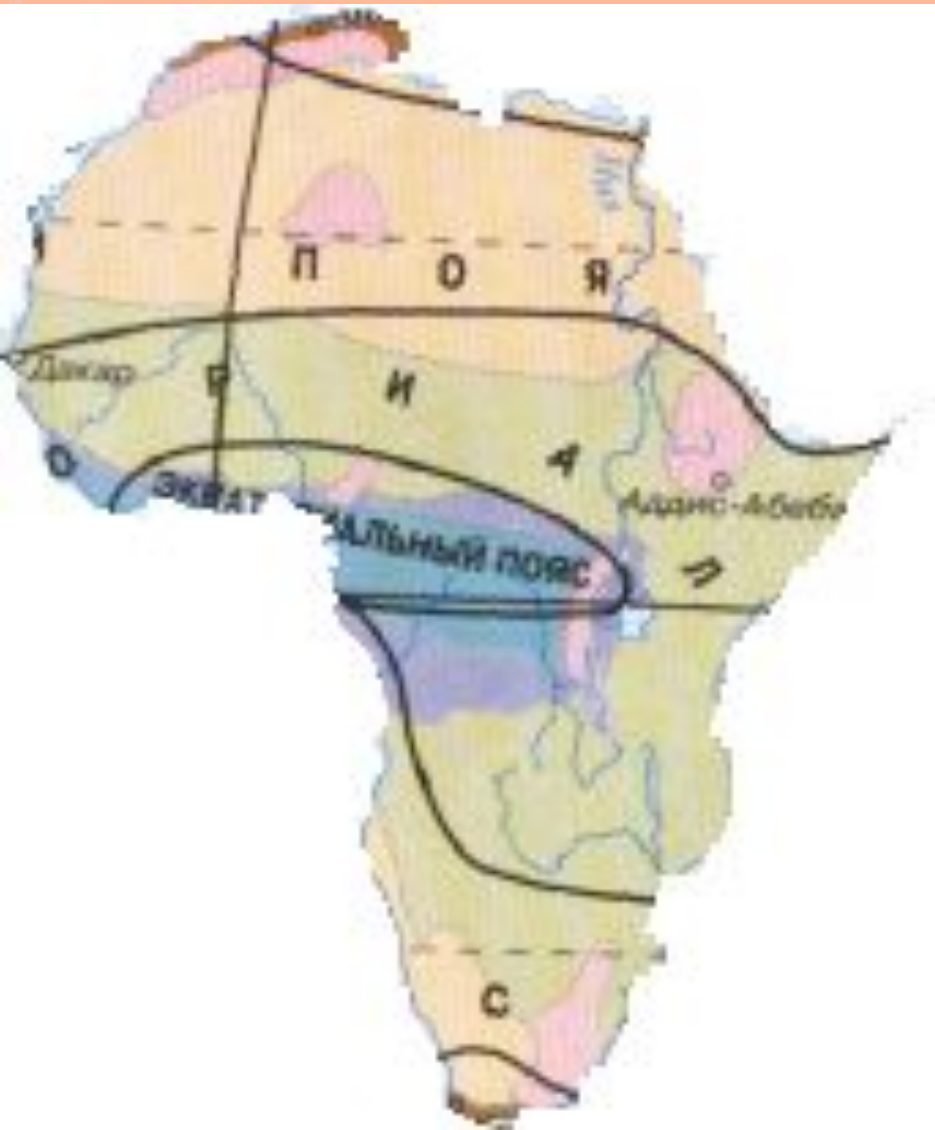
В каком направлении сменяются природные зоны на территории материка? Какую географическую зависимость подтверждает распределение природных зон?



- ▣ **Природные зоны сменяются в направлении с севера на юг. Это подтверждает географическую зависимость распределения природных зон от поступающего тепла, т.е. зависит от угла падения солнечных лучей и количества влаги, поступающего на земную поверхность**



2. В каких климатических поясах располагается Африка? Почему при значительной протяженности материка с севера на юг Африка имеет небольшой набор климатических поясов?



Африка расположена всего в 4 климатических поясах: Экваториальном, субэкваториальном, Тропическом и самый юг и север занимает субтропический пояс. Это объясняется тем, что в Африке экватор проходит почти По-середине, поэтому каждый климатический пояс повторяется дважды.

