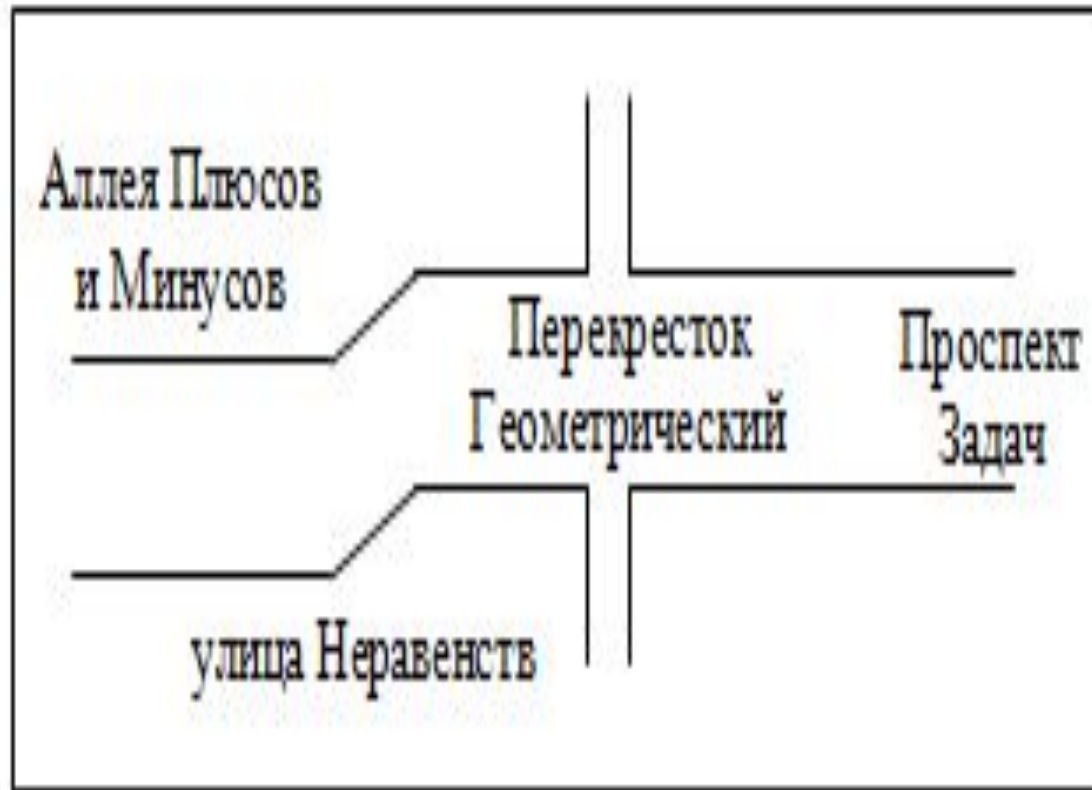



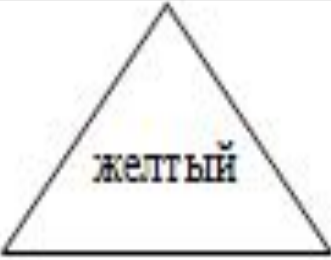



**ПУТЕШЕСТВИЕ ПО ГОРОДУ
МАТЕМАТИКЕ.
ТАБЛИЦА СЛОЖЕНИЯ ОДНОЗНАЧНЫХ
ЧИСЕЛ**

2 класс. Урок 1.

Карта города Математики.



Определите закономерность и
заполните пропуски.

 <p>крас- ный</p>		 <p>желтый</p>
 <p>крас- ный</p>		
	 <p>синий</p>	 <p>жел- тый</p>

Расставь знаки действия

$1 \dots 6 = 7$

$9 \dots 2 = 7$

$7 \dots 1 = 8$

$5 \dots 2 = 7$

$6 \dots 2 = 4$

$7 \dots 4 = 3$

$5 \dots 5 = 10$

$3 \dots 6 = 9$

$5 \dots 2 = 3$

$7 \dots 4 = 3$

Больше, меньше или равно?



$1+2 \dots 2+2$ $6 \dots 5$ $7-2 \dots 4$ $8 \dots 4$ $5-2 \dots 5+2$

улица Неравенств



$8-3 \dots 7-1$ $6 \dots 9$ $6+2 \dots 8-1$ $7 \dots 8$ $9 \dots 5+3$

Составь из ответов слово

Вот один самолет поднялся уж в полет.

А рядышком два догоняют облака.

Посчитайте, друзья, сколько самолетов у
меня.

- а) 3 – ум
- б) 4 – хо
- в) 5 – пло

Составь из ответов слово

Пять ворон на крышу сели,
Две еще к ним прилетели.
Отвечайте быстро, смело,
Сколько всех их прилетело?

- а) 9 – хо
- б) 7 – ни
- в) 9 – ро

Составь из ответов слово

Пять щенят плюс мама-лайка.
Сколько будет? Сосчитай-ка!

- а) 6 – ки
- б) 4 – шо
- в) 5 – ны

Проверим задание 5

$$1) 11 + (11 - 2) = 11 + 9 = 20 \text{ (п.)}$$

Ответ: 20 писем

Домашнее задание

Составьте задачу по
выражению

$$9 + (4 - 2)$$