

К

КОНТРОЛЬНО й работе

Учитель: Харчевникова Марина Андреевна

№1 Реши задачу.



Из гаража уехали 18 грузовых машин, а легковых – на 10 меньше. Сколько всего легковых и грузовых машин уехало из гаража?



№2 Вычисли столбиком.

$$36 + 24 =$$


$$42 + 37 =$$

$$97 - 46 =$$

$$77 - 22 =$$

$$55 + 16 =$$

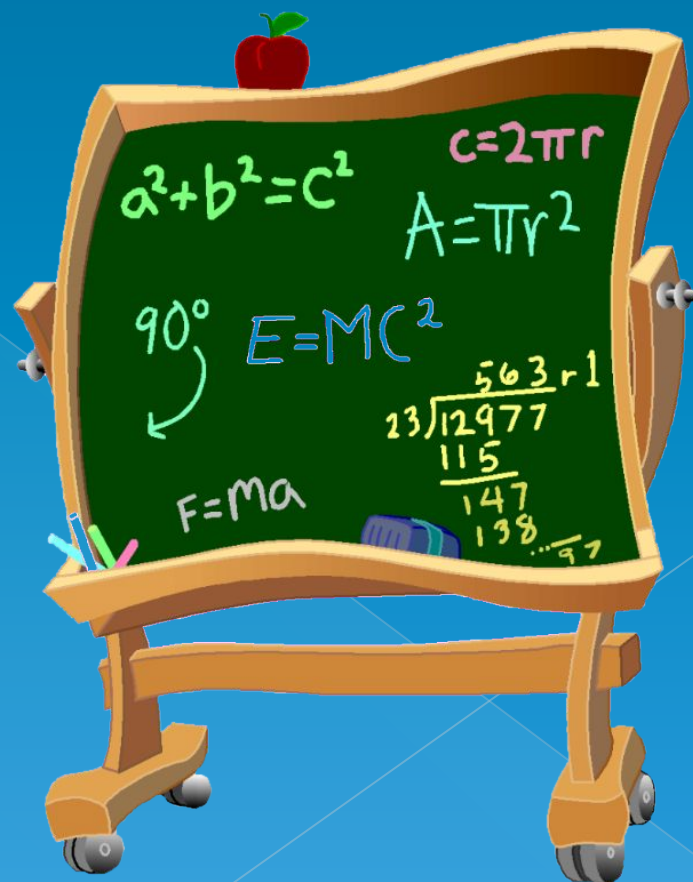
$$90 - 35 =$$



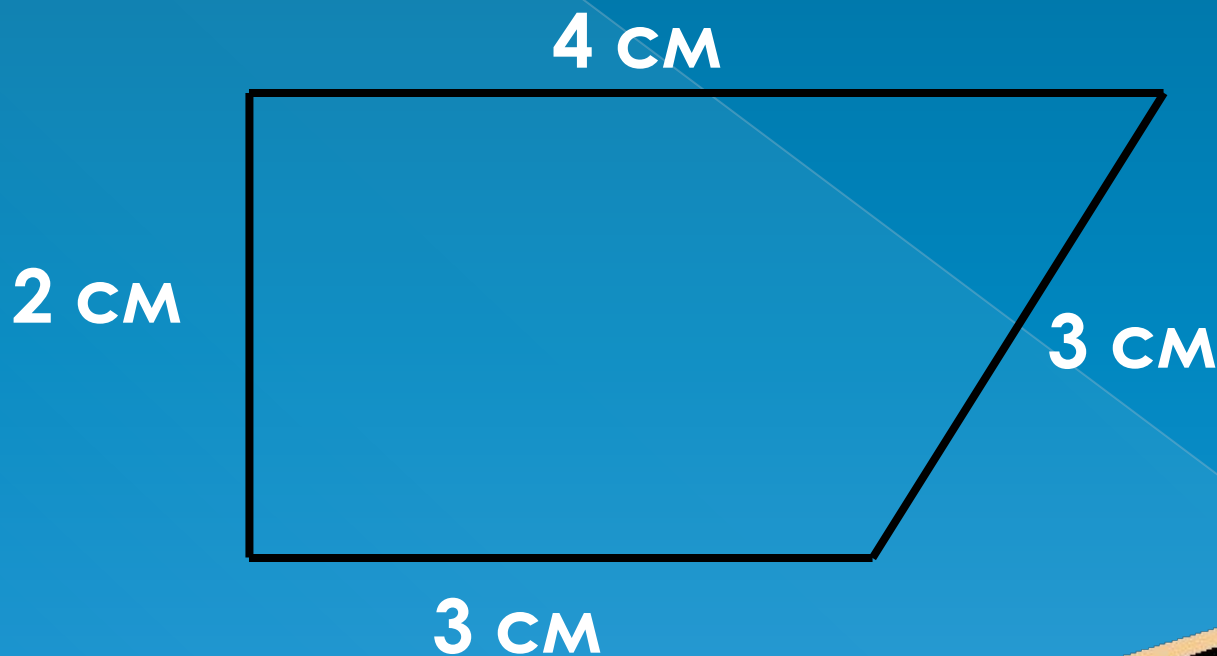
№3 Реши уравнения.

$$x + 15 = 37$$


$$54 - y = 33$$



№4 Найди периметр данной фигуры и вырази его в миллиметрах.



№5 Начерти прямой угол красным карандашом, тупой угол – зелёным, острый угол – синим.



№6* Заполни пропуски.

$$\begin{array}{r} 3. \\ + \\ \hline .7 \\ \hline 58 \end{array}$$

$$\begin{array}{r} 4. \\ + \\ \hline .5 \\ \hline 80 \end{array}$$

$$\begin{array}{r} 5. \\ - \\ \hline .4 \\ \hline 32 \end{array}$$

$$\begin{array}{r} 9. \\ - \\ \hline .7 \\ \hline 53 \end{array}$$