


Муниципальное казённое общеобразовательное учреждение
«Средняя общеобразовательная школа № 3»,
г.Козельск Козельского района Калужской области

Урок математики
1 класс

**ТЕМА: Общие приемы табличного сложения
с переходом через десяток. Закрепление.**

Разработала:
Зима Валентина Владимировна-
учитель начальных классов.



ОЛЯ



НАДЯ



КАТЯ

Нашему Алёше 7 лет, а его
сестренка младше.
Сколько лет Алеше и его
сестренке вместе?

**В пакете 1 литр сока.
Это 5 стаканов. Ваня
утром выпил 2 стакана и
вечером еще несколько
стаканов. Сколько
стаканов сока осталось
в пакете?**

Искатели клада взяли с собой 7 банок тушенки, а сгущенки – на несколько банок меньше. Сколько всего банок консервы взяли кладоискатели?

1 РЯД

2 РЯД

3 РЯД

$$13 - 0 = 13$$

$$9 + 5 = 14$$

$$6 + 9 = 15$$

$$4 + 8 = 12$$

$$7 + 6 = 13$$

$$8 + 7 = 15$$

$$18 + 0 = 18$$

$$9 + 4 = 13$$


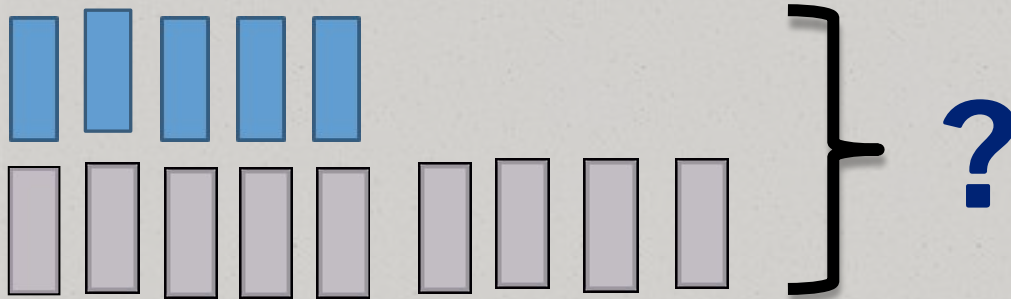
$$5 + 6 = 11$$

$$7 + 7 = 14$$

$$9 + 9 = 18$$

$$11 + 0 = 11$$

0 На полке стояло 5 банок с липовым мёдом, а с гречишным на 4 банки больше. Сколько всего банок мёда стояло на полке?



$$5 + 4 = 9(\text{б.})$$

Ответ: всего 9 банок.



3
Я

1
3

17
Н

5
И

1
0
А

1
9
3

Н

