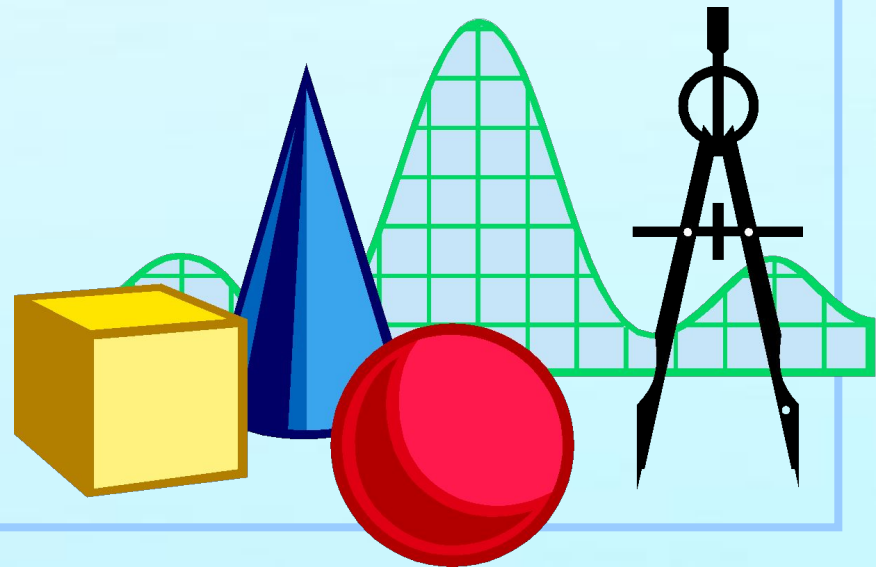


Математика

2 класс



Мевзу:
Эки кыыйметли
сайыларны язы
шеклинде кыошув

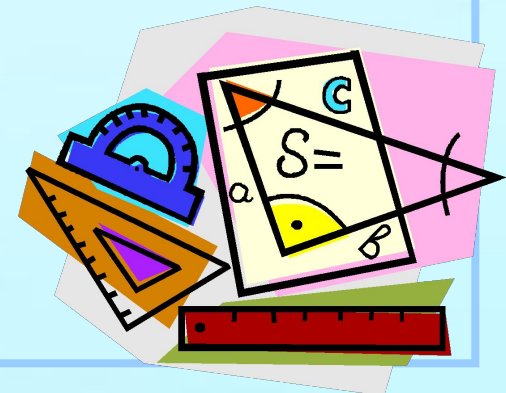
$$2 \times 2 = 4$$

$$3 \times 3 = ?$$





АГЪЗАВИЙ САЙЫ




В каждом вашем доме

Среди любых земель

Добивайтесь цели,

Попадайте в цель!






$$26+12$$

$$38-15$$

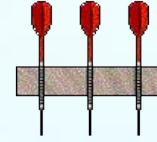
$$24-12$$



$$38+11$$

$$13+25$$

$$26-14$$




$$45+14$$

$$36-23$$

$$21+12$$



Мустакъиль иш




Къызлар

$$(45+5)-7=44$$

$$70-(20+45)=9$$

$$15+15+15=45$$

43, 5, 45



Огъланлар

$$(54+6)-8=54$$

$$90-(55+20)=15$$

$$13+13+13=40$$

52, 15, 39


Тешкерюв

Задача № 1

Может ли петух
назвать себя птицей?



смотри
правильный
ответ



Нет (Хораз)



Петух не умеет
ГОВОРИТЬ!

Задача №2

По чему собака
бегает?



Смотри [правильный_ответ](#)

Собака бегаёт по земле. (Копек)



Задача № 3

За чем вода в
бутылке?

СМОТРИ



ВОДА В БУТЫЛКЕ ЗА СТЕКЛОМ.

(ШИШЕ)



Задача № 6

У чего есть шапка без
головой,
нога без сапога?




Смотри ответ

Мантар





Бар эди - 23 къяпыста
Кесип алдылар - 3 къ.
Къалды-?къ.



10



? 7 гуль зияде

АНЪЛАТУВ

42

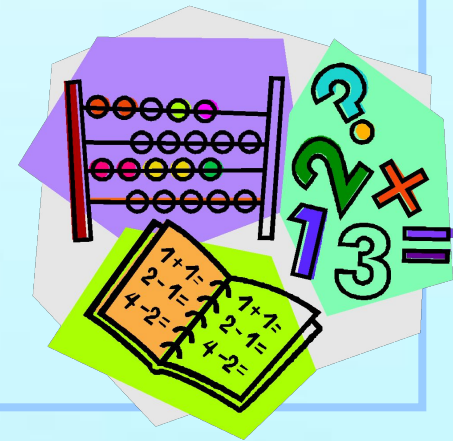
$$\begin{array}{r} + \\ \hline 36 \end{array}$$

54

$$\begin{array}{r} \hline 45 \end{array}$$


67

$$\begin{array}{r} \hline 32 \end{array}$$



Ярдым бер!


$$\begin{array}{r} 37 \\ + 48 \\ \hline \end{array}$$





Раатланайыкъ!

Эв вазифеси





Машалла!