


Урок-путешествие

Наш девиз: «Имей знания отличные
по теме «Дробь десятичные»»



Мы отправляемся!

Между какими натуральными числами лежит число 25,353?

A world map with a grid overlay, showing the continents in light blue. Three callout bubbles are placed over the map: one over South America, one over Europe, and one over Australia. Each bubble contains a pair of natural numbers.

25 и
35

24 и
26

25 и
26

Австралия



Столица Австралии

(запишите дроби в порядке возрастания)

а
р
е
к
р
б
н
а

7,4
4,5
1,2
0,075
4,501
1,09
0,75
0,3

К
А
Н
Б
Е
Р
Р
А

Достопримечательности Австралии

3,7; 2,03; 1,007; 5,032;

Запишите и подчеркните:

В первой дроби - единицы;

во второй – десятые;

в третьей- тысячные;

в четвертой – сотые.



Опера Хаус

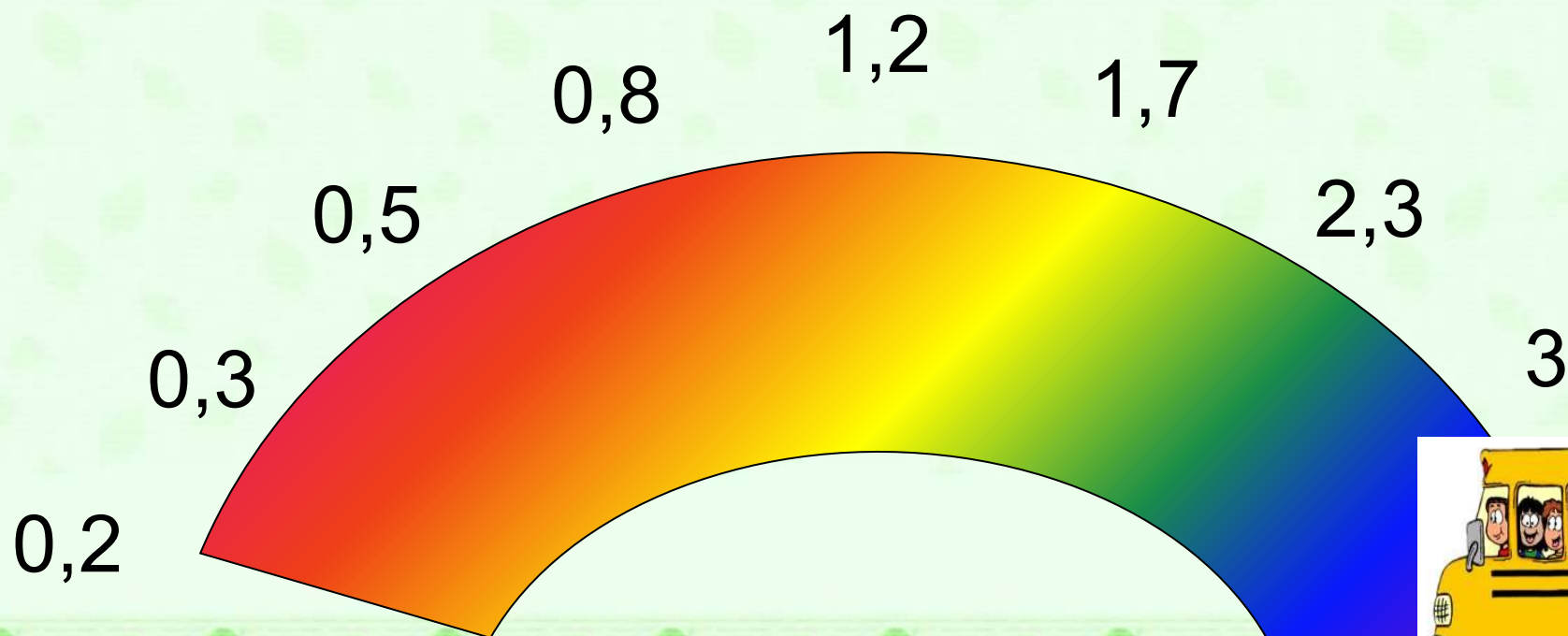
Построен в 1973 году

Корабль под парусами



Достопримечательности Австралии

Найдите закономерность и продолжите ряд:



Мост Харбор Бридж



Достопримечательности Австралии

Найдите среднее арифметическое чисел 4,7; 3; 0,1:

1,7 3,9 2,55 2,6



Голубые горы



Фауна Австралии

Среди приведенных дробей найдите дроби,
равные $3,15$.

Из соответствующих им букв составьте название
животного, обитающего в Австралии

П- $3,015$ К- $3,1500$ Л- $03,15$ О- $03,1500$ Б- $30,15$
А- $3,150$ У- $3,0015$ Т- $31,50$ Р- $3,1050$ А- $003,15$

КОАЛА



Растения Австралии

1. Выполните действие:

$$35,85 + 4,971 = \dots \quad \underline{40,821}$$

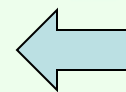
$$125,19 - 78,5 = \dots \quad \underline{46,69}$$

2. Решить уравнение:

$$x - 0,07 = 1,5 \quad \underline{x = 1,57}$$

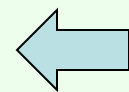
Растения Австралии

Непентес Аттенборо



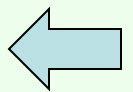
Растения Австралии

ДЖАКАРАНДА



Растения Австралии

Аморфофаллус



Путешествие подошло к концу!

Спасибо за внимание!

