

**Число 0.**

**Учитель начальных классов**

**Высшая категория**

**ГБОУ №1770**

**Травкина Юлия Александровна**



Я

СМОГУ...



10

1

9

2

8

3

7

4

6

5

5

6

4

7

3

8

2

9


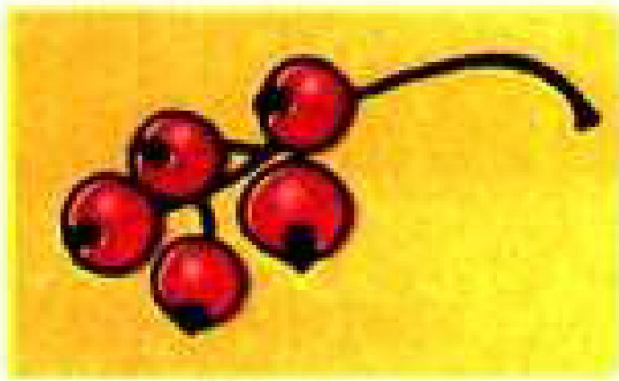
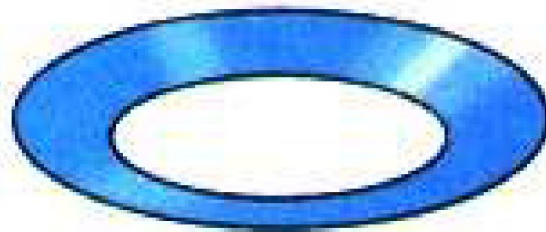

1

$3-1=2$



# Помоги белочке посчитать грибы в корзине.







$$3-1=2$$




0



0 1 2 3 4 5 6 7 8 9 10



3



$3 - 1 = 2$   
2 ○ 3




$2 - 1 = 1$   
1 ○ 2



$1 - 1 = 0$   
0 ○ 1



Перед обедом



После обеда



Составь по рисунку рассказ и выполни запись.

$$\square \bigcirc \square = \square$$

$$3 + 2 = 5$$

$$6 + 1 = 7$$

$$8 - 1 = \square$$

$$5 > 3$$

$$7 \bigcirc 6$$

$$\square \bigcirc \square$$

$$3 - 1 = 2$$



## Игра «Круговые примеры»

В круговых примерах ответ любого выбранного примера служит началом следующего, а ответ последнего — началом первого.

