

Тема:

Древнее  
Междуречье.

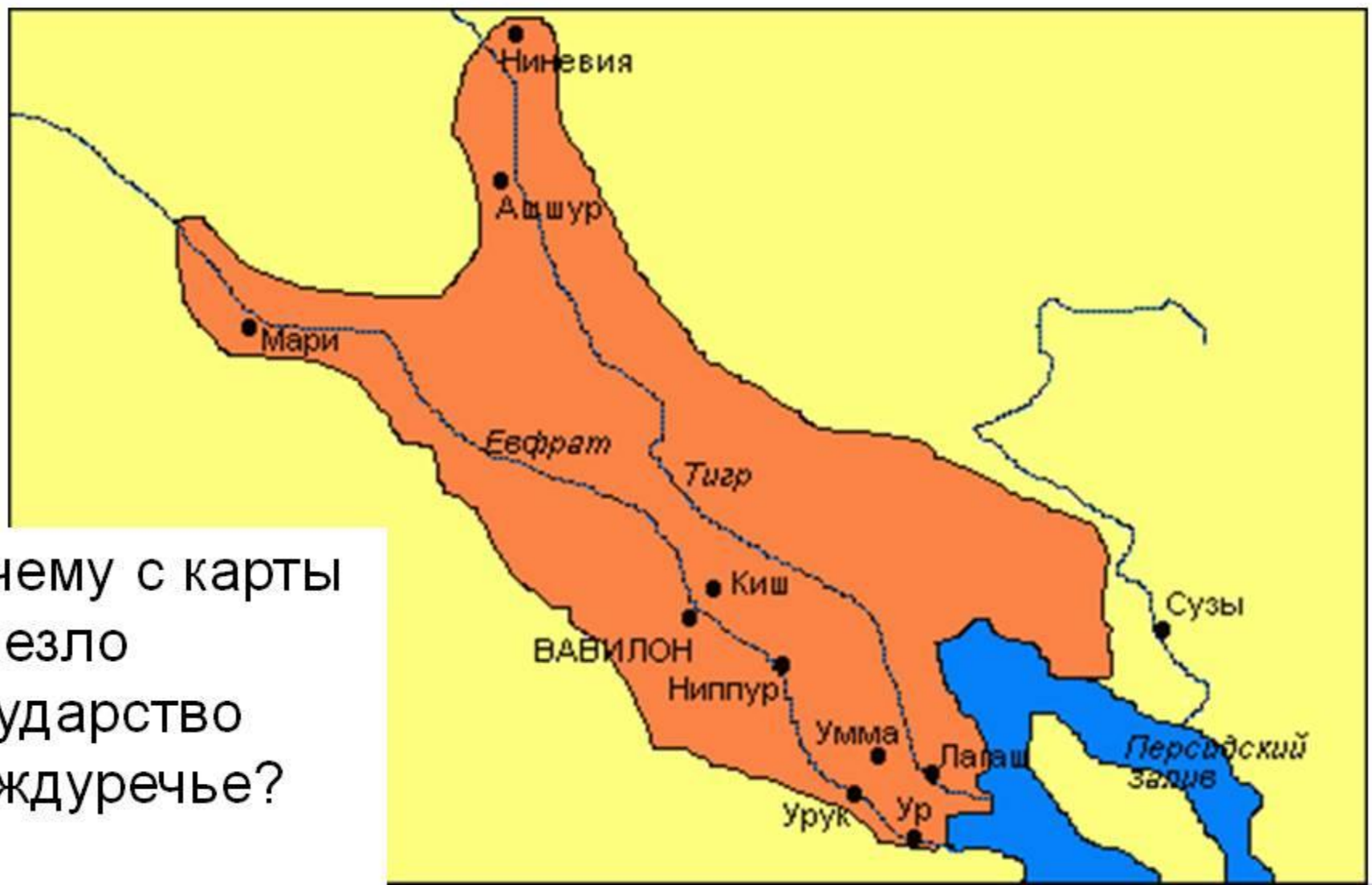
● Сегодня будем изучать:

-Страну между двух рек.

-Большие города Междуречья.

-Школы Междуречья.

# Междуречье



Почему с карты  
исчезло  
государство  
Междуречье?

В Междуречье много урожая, земля очень хорошая, растет много овощей, картофеля, хлеба.



ПРОЧИТАЙТЕ ВОПРОС :

- Когда возникли государства Междуречья?

Ответьте на него с помощью учебника  
страница 63.



ЗАПИШИТЕ ОТВЕТ В ТЕТРАДЬ:

Государства Междуречья возникли  
пять тысяч лет назад (очень давно).



ПРОЧИТАЙТЕ ВОПРОС:

- Как называются крупные (большие) реки?

Найдите ответ на странице 63.



ЗАПИШИТЕ ОТВЕТ В ТЕТРАДЬ:

Крупные реки Междуречья  
назывались Тигр и Ефрат.





# Междуречье



Почему с карты  
исчезло  
государство  
Междуречье?

Из маленьких деревень строились  
большие города.



Прочитайте вопрос:

Какие города были самыми крупными?

Найдите ответ на странице 63.

# Междуречье



Почему с карты  
исчезло  
государство  
Междуречье?

Запишите в тетрадь:

Большими городами  
Междуречья были Ур и  
Урук.



Эшнунна

Киш

Река Евфрат

Река Тигр

Урук

Лагаш

Ларса

Ур

ШУМЕР

Эреду


ПУСТЫНЯ

ПЕРСИДСКИЙ ЗАЛИВ

В междуречье мало деревьев, леса.  
Поэтому дома строили из глины.



# В городах Междуречья строили храмы.





Запишите в тетрадь:

**Храмы строили для богов.**

Вопрос:


Какие боги были в Междуречье?

Найдите ответ на странице 64.


Запишите в тетрадь.



Главный бог воды - Эа.



Богиня любви-  
Иштар



Бог луны- Син

Вопрос:


Кто мог подниматься в храмы? (дома богов).

Найдите ответ на странице 64.

Ответ:

Только жрец мог подняться  
наверх храма.

ЖРЕЦ



# Школа в Междуречье



# Школа в Междуречье



# Закрепление:

## Древнее Междуречье



- Территория какого государства изображена на карте?



# Домашнее задание:

- Выучить записи в тетради.