




Задачи на
кратное
сравнение

Логика





Самостоятельная работа



Повторение



Новая тема




Высший пилотаж



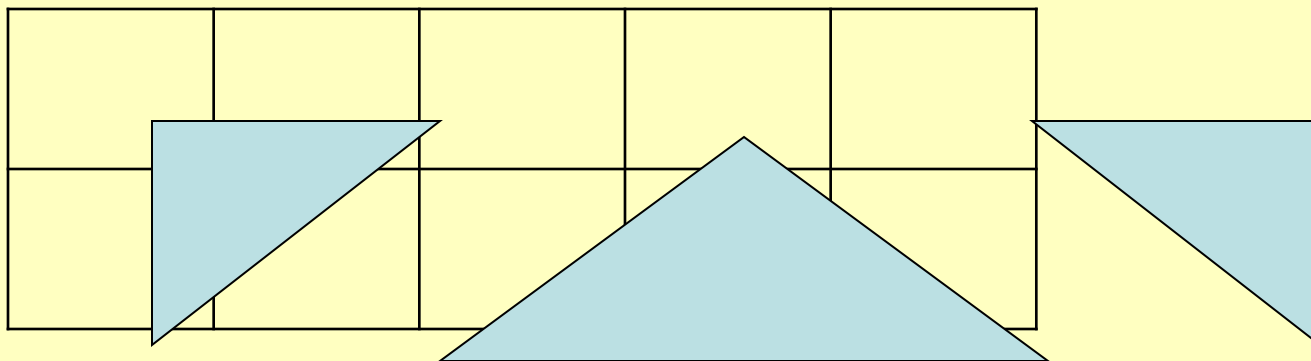
ИТОГ

Мони, Рон и Гарри участвуя в соревнованиях “Кто знает больше заклинаний”, заняли первые три места. Какое место занял каждый, если Мони заняла не 2 и 3 место, а Гарри – не 3 место?

От школы магии до спортивной площадки
ведут три дороги, а от спортивной площадки
до леса ведут две дороги. Сколькими
способами можно попасть от школы магии
к лесу?



Самостоятельная работа



У Рона и Гарри от страха иногда по спинам бегают мурашки. У Рона 27 мурашек, а у Гарри на 3 меньше. Сколько всего мурашек бегают иногда по спинам ребят?

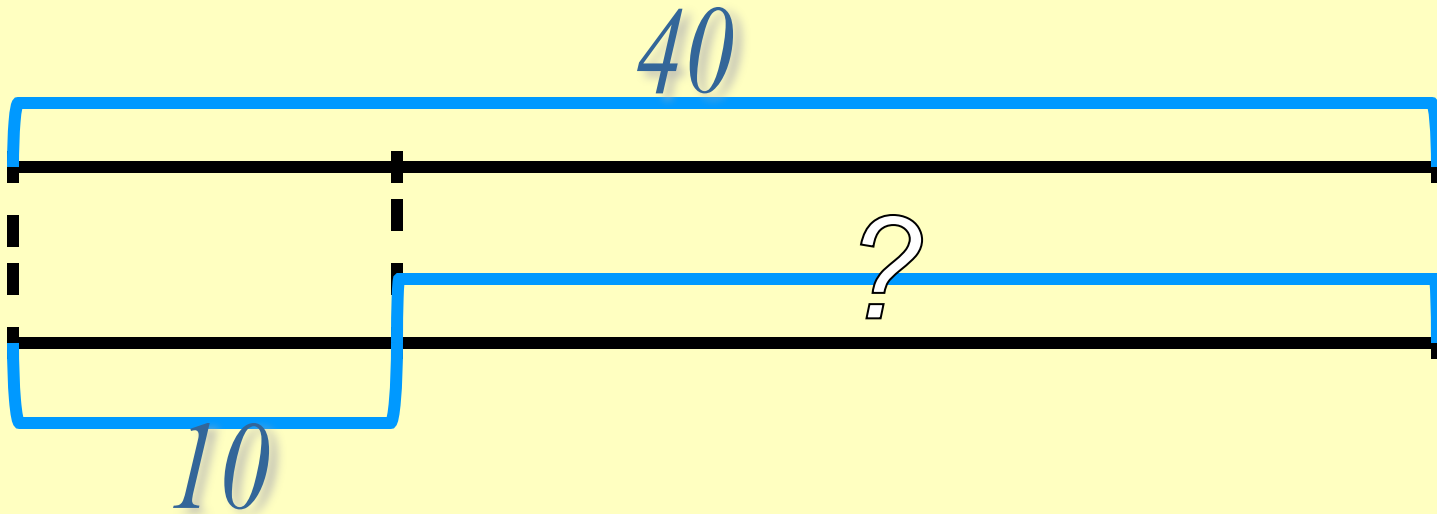
У Рона и Гарри от страха иногда по спинам бегают мурашки. У Рона 27 мурашек, а у Гарри в 3 раза меньше. Сколько всего мурашек бегают иногда по спинам ребят?



Новая тема

Профессору магии 40 лет. Гарри Поттеру – 10 лет.
На сколько лет Гарри младше профессора?

Профессору магии 40 лет. Гарри Поттеру – 10 лет.
Во сколько раз Гарри младше профессора?



A detailed illustration of a pirate ship's deck at night. The scene is dimly lit, with a glowing purple aura surrounding a ghostly figure of a captain in the center. The captain wears a black hat and a dark coat. The deck is cluttered with wooden barrels, a steering wheel, and various nautical equipment. The background shows the ship's rigging and sails against a dark, starry sky.

*Попробуй
решить*

Высший пилотаж





**Гарри поймал 32 золотых ореха,
а Мони – 8 золотых орехов.
Во сколько раз Гарри поймал
орехов больше, чем Мони?**

**На первом этаже 8 коридоров,
а на втором – 4 коридора.
Во сколько раз на втором этаже
меньше коридоров, чем на первом?**

**В буфет школы Магии и волшебства
привезли 10 кг конфет,
а пряников в 3 раза больше. На сколько
больше привезли кг пряников,
чем конфет?**

В сентябре в школу магии пришло 7 писем, а в октябре на 14 писем больше. Во сколько раз пришло больше писем в октябре, чем в сентябре?

Метла весит 8 кг, а волшебная палочка на 4 кг меньше. Во сколько раз метла тяжелее волшебной палочки?



ИТОГ