

Урок математики в 1 классе

"Сложение и вычитание в пределах 10"

Работа учителя
МОУ "Обманковская ООШ"
Комаровой С.В.

Я по коробу скребён,
По сусеку метён,
На сметане мешён,
На окошке стужён.



Вспоминай - ка!

10	
6	4
3	7
8	2
1	9

9	
3	6
7	2
4	5
1	8

8	
1	7
5	3
4	4
6	2

7	
2	5
6	1
4	3
2	5

Посчитай-ка!

$$8 + 2 = 10$$

$$5 + 4 = 9$$

$$9 - 3 = 6$$

$$3 + 2 = 5$$

$$10 - 3 = 7$$

$$6 + 2 = 8$$

$$10 - 9 = 1$$

$$8 - 4 = 4$$

$$6 - 3 = 3$$

$$7 - 5 = 2$$

Запишите все числа
в тетрадь по порядку.



1 2 3 4 5 6 7 8 9 10

C

2

3

4

5

6

7

8

9

10

C

M

3

4

5

6

7

8

9

10

C

M

E

4

5

6

7

8

9

10

C

M

E

Ш

5

6

7

8

9

10

СМЕШАА6 7 8 9 10

СМЕШАР 7 8 9 10

СМЕШШАРИ 8 9 10

СМЕШШАРВИК 9 10

СМЕШШАРВИКИ 10

СМЕШШАРПИКИ!





собрал 3 гриба,



собрал на 2 гриба
больше.

СКОЛЬКО.....?

$$3 + 2 = 5 \text{ (г.)}$$

Ответ: 5 грибов.



собрал 3 гриба,



собрал 5 грибов.

СКОЛЬКО.....?

$$3 + 5 = 8 \text{ (з.)}$$

Ответ: 8 грибов.

МОЛОДЦЫ

Решите примеры из учебника с.37

УПРАЖНЕНИЯ ДЛЯ ЗАКРЕПЛЕНИЯ.

- 1 Составь по 2 примера на сложение и вычитание, используя числа:

$10, 2, 8$ $9, 3, 6$ $10, 7, 3$

- 2 Составь 4 верных равенства и 4 верных неравенства, используя числа:

$7, 3, 4, 8, 9, 5, 2$

3

Уменьши на 2:				
10	8	6	4	2

Увеличь на 3:				
0	3	7	6	5

- 4
- | | | |
|--------------|-------------|-------------|
| $10 * 8 + 1$ | $6 + 2 * 6$ | $10 * 0$ |
| $10 * 9 + 1$ | $7 - 2 * 7$ | $0 * 6 - 6$ |

- 5 Запиши в каждом столбике ещё по одному примеру и выполни вычисления.

$9 - 4$	$10 - 7$	$2 + 5$	$6 + 4$
$9 - 5$	$10 - 8$	$2 + 6$	$7 + 3$
$9 - 6$	$10 - 9$	$2 + 7$	$8 + 2$
...

- 6 У Алёшиной собаки родились 7 щенков. Для 5 щенков он уже нашёл хороших хозяев. Сколько ещё щенков осталось?



- 7 Почтальон должен разнести 8 телеграмм. Он уже разнёс 6 телеграмм. Сколько телеграмм ему ещё надо разнести?

По рисункам узнай массу гуся и массу курицы.

РЕШИ
ПРИМЕРЫ.
РАЗБЕЙ
НА 2 ГРУППЫ.

$9 - 5$
 $5 + 4$
 $2 + 8$
 $10 - 2$
 $4 + 5$
 $8 + 2$
 $9 - 4$
 $10 - 8$

ЗАДАЧА
НА СМЕКАЛКУ



Проверьте!

$$9 - 5 = 4$$

$$5 + 4 = 9$$

$$10 - 2 = 8$$

$$2 + 8 = 10$$

$$9 - 4 = 5$$

$$4 + 5 = 9$$


$$10 - 8 = 2$$

$$8 + 2 = 10$$

8 см



6 см



Какая лента короче
и на сколько сантиметров?




$$8 - 6 = 2 \text{ (см)}$$

Ответ: на 2 см короче.


Домашнее задание

- с. 37, №№ 4, 5

Оцените урок



самочувствие



успехи