



МАТЕМАТИКА

1 КЛАСС

Актаныш муниципаль районы Чат
башлангыч мәктәбе укытучысы
Бәдертдинова З.Б.

1 дэн 10 га кадэр нэм
10 нан 1 гэдэ кадэр санийбыз





$$2+2 =$$





$$3 + 2 =$$





$$4 - 1 =$$





$$7 - 0 =$$

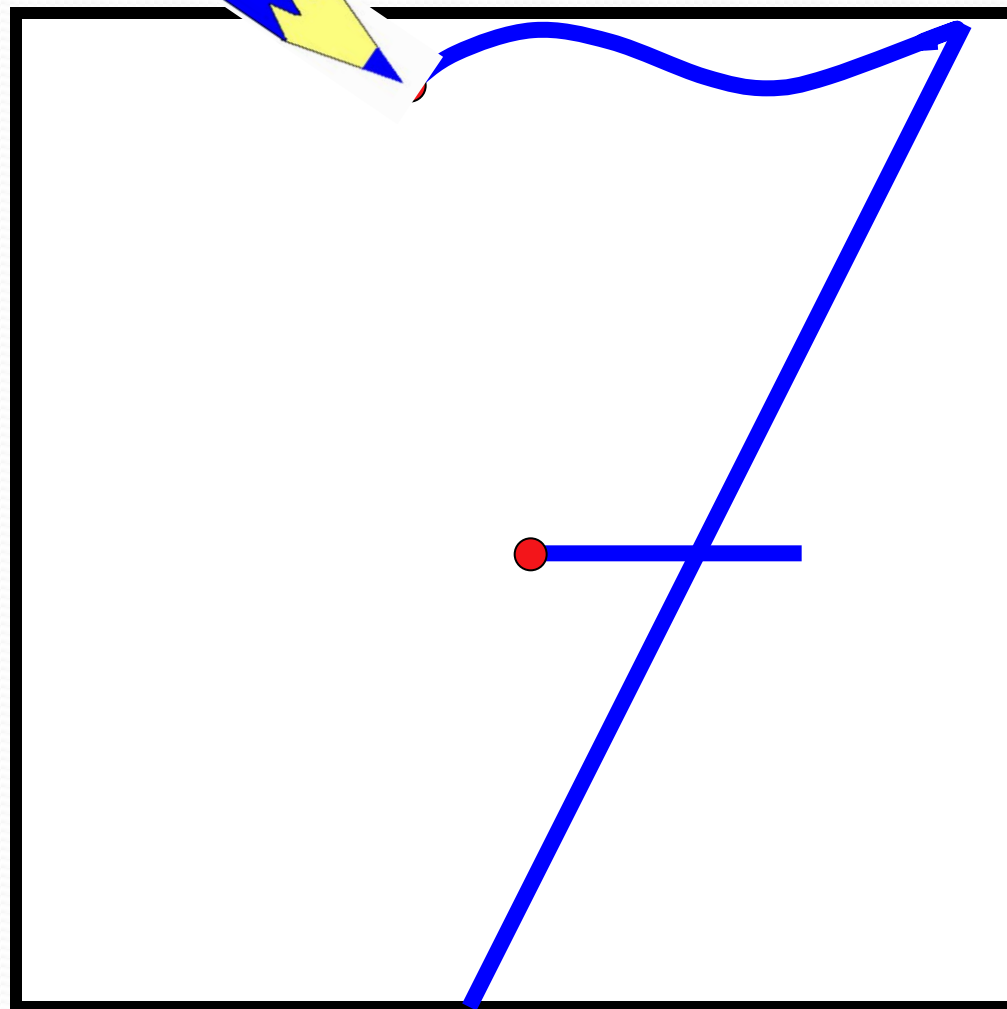


“Күңелле мәсьәлэләр”

- Тавыкның ничә аягы бар?
- Минем 1 сары карандашым бар иде, миңа тагын 1 яшел һәм 1 кызыл карандаш алдылар. Минем ничә карандашым булды?
- Ике тычканның ничә колагы бар?
- 6 аю баласы жыләк жыярга ашыга икән. Берсе арып артта калган. Ничә аю баласы алга чапкан?
- Ботакта 3 кызылтүш бар иде. Тагын 3 кызылтүш очып килде. Агачта барлыгы ничә кош булды?
- Кыр буйлап каз, этәч, песи чабып үткән. Кырда ничә тәпи чапты икән?
- Кош оясыннан 1 томшык күренеп тора. Ояда ничә кош?



7 саны. 7 цифрлары.





$$1+6=$$

7



$$2+5=$$

7



$$3+4=$$

7



$$4+3=$$

7



$$5+2=$$

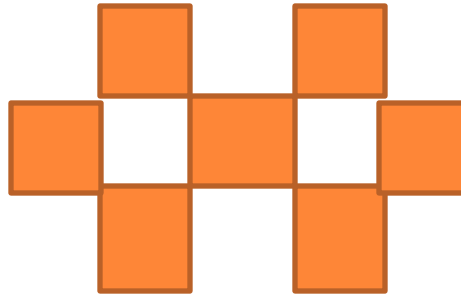
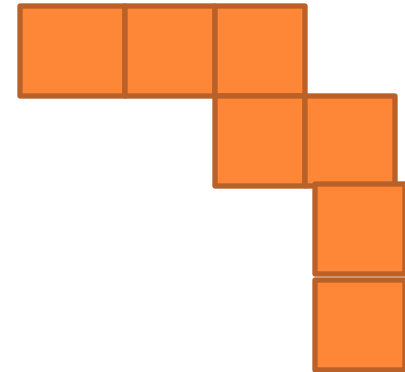

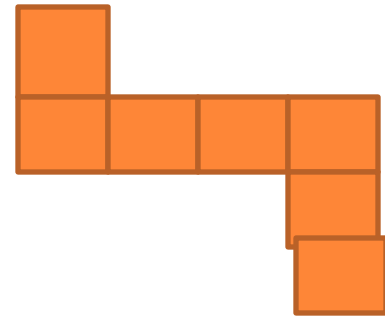

7





$$7 =$$





Уен: "Кайсы артык?"

КЫШ

ЯЗ


ЖҰЙ

КӨЗ

ЯКШӘМБЕ



«ЖҢЛӘК ЖҢЙ – АЮНЫ СЫЙЛА»



Булдырды
ГЫЗ!



$8-2$

$8-1$

$8-3$

$8-0$

Марат ясаган



Иптәше 2 корабль биргән.



Маратта ничә корабль булган?

**Нәрсә
билгеле?**

1. Марат 5 корабль ясаган.

2. Иптәше 2 корабль
биргән.

**Нәрсә белергә
кирәк?**

Маратта ничә корабль
булган?

Ясаган – 5 к.

Биргән – 2 к.

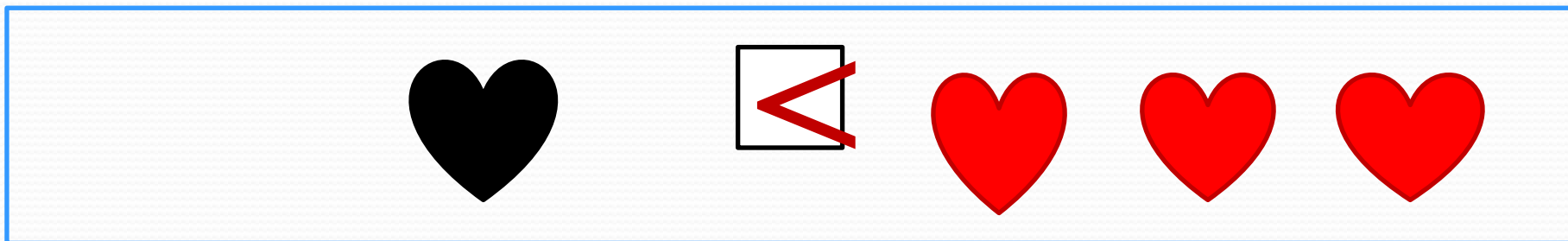
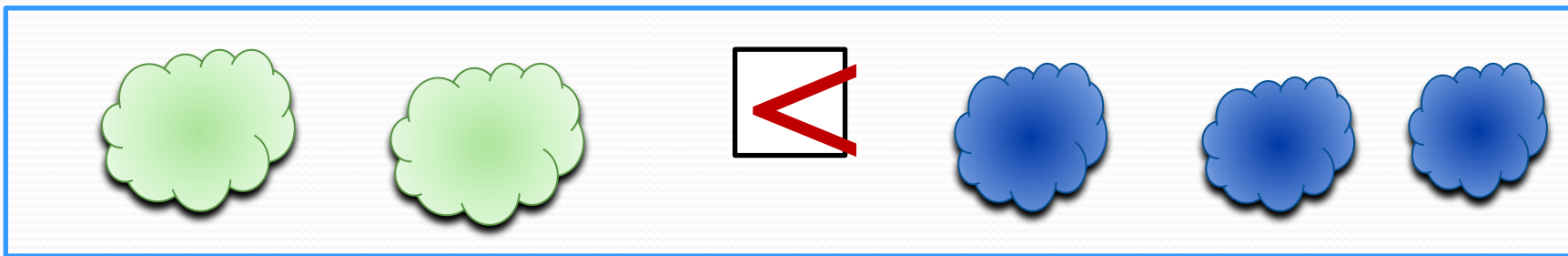


Булган – ? к.

$$5 + 2 = 7 \text{ (к.)}$$





Жавап: 7 корабль.



Чагыштырырга: $>$, $<$, $=$.



ТИЕШЛЕ ФИГУРАНЫ КУЙ



Источники:

Газета «Первое сентябр
<http://nsc.1september.ru/>