

2 класс.

Тема: «Сложение
двузначных чисел»

11 ноября
Классная работа
Здравствуй, Винни-Пух!



Продолжи

закономерность. 20 25 30

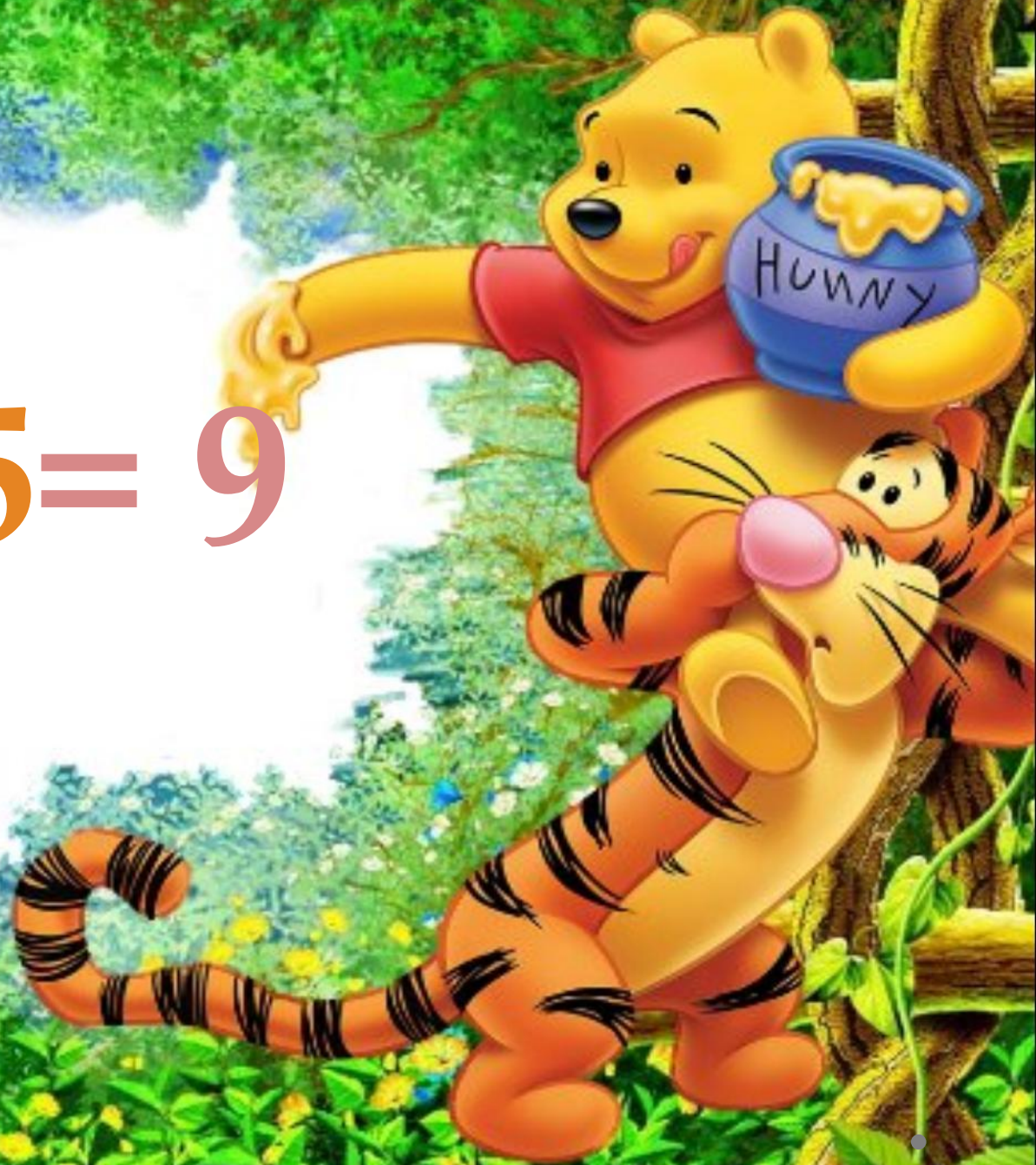
5, 10, 15, ...,,

Вычислите:

$$\begin{array}{ccccc} & & 14 & & \\ & 10 & | & 40 & \\ & \diagdown & + & \diagup & \\ 44 & - & 4 & - & 1 \\ & \diagup & & \diagdown & \\ & 4 & & 24 & 31 \end{array}$$




$$14 - 5 = 9$$



85

 $64 + 21$

 $33 + 52$

 $15 + 34$

 $12 + 11$

 $13 + 10$

 $14 + 71$

 $42 + 7$

 $33 + 16$

49

 $20 + 3$



17



14



13

Физ. минутка.



Выхожу из дома я,
Ждут меня уже друзья.
Вместе будет веселей,
Делай с нами все смелей.
С Пятачком – похлопаем,
Раз, два, три!

Ножками потопаем,
Раз, два, три!

С Тигрою – попрыгаем,
Раз, два, три!

С кенгуру – поприседаем,
Раз, два, три!

Дружно все за парты сядем,
Раз, два, три!

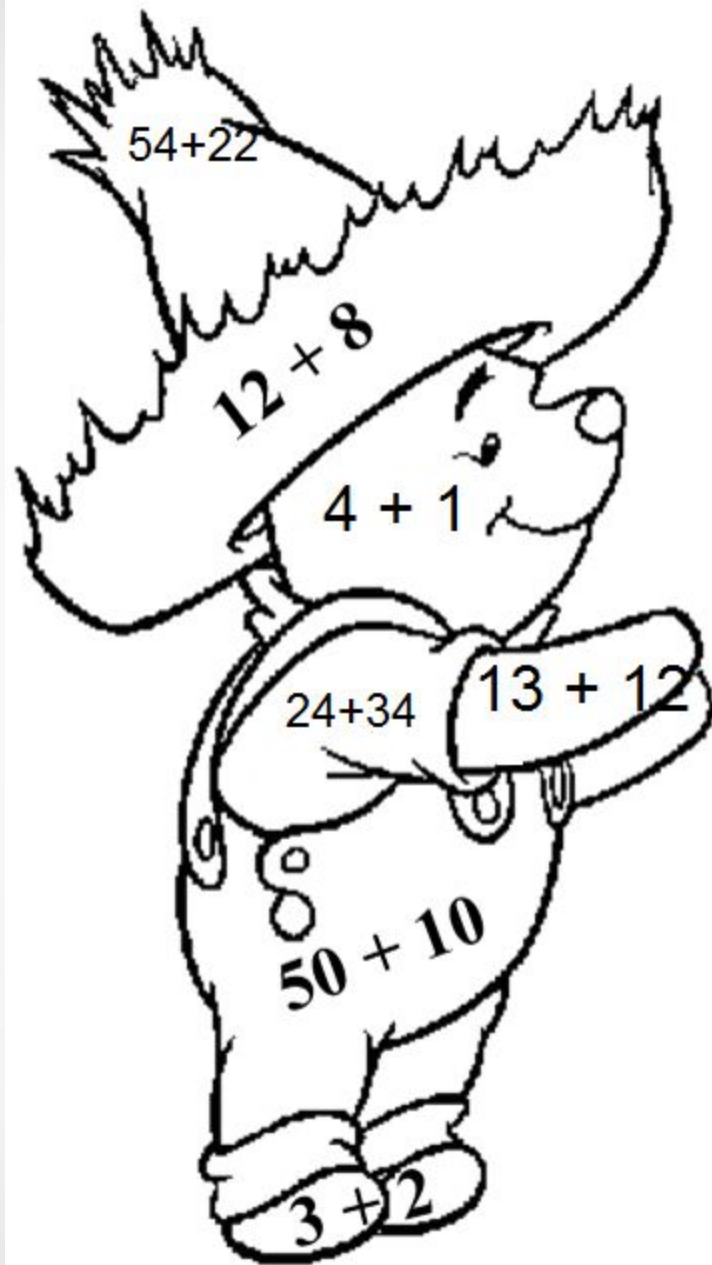




Задача.

Винни-Пух и
Тигра ловили
рыбку. Тигра
поймал 11 рыбок,
а Винни-Пух на
15 больше.
Сколько рыбок
поймал Винни-
Пух?





76, 60 – синий

20 – зеленый

58 – красный

5, 25 – желтый



Легко справлялся со
всеми заданиями



Испытывал некоторые
затруднения



Допустил много
ошибок

Спасибо за работу!

