

«Своя игра»
5 класс




Человек и компьютер	<u>10</u>	<u>20</u>	<u>30</u>	<u>50</u>	<u>70</u>	<u>100</u>
Устройства компьютера	<u>10</u>	<u>20</u>	<u>30</u>	<u>50</u>	<u>60</u>	<u>80</u>
Компьютерная графика	<u>10</u>	<u>20</u>	<u>30</u>	<u>50</u>	<u>60</u>	<u>70</u>
Занимательные задачи	<u>100</u>	<u>200</u>	<u>300</u>	<u>400</u>	<u>500</u>	<u>600</u>

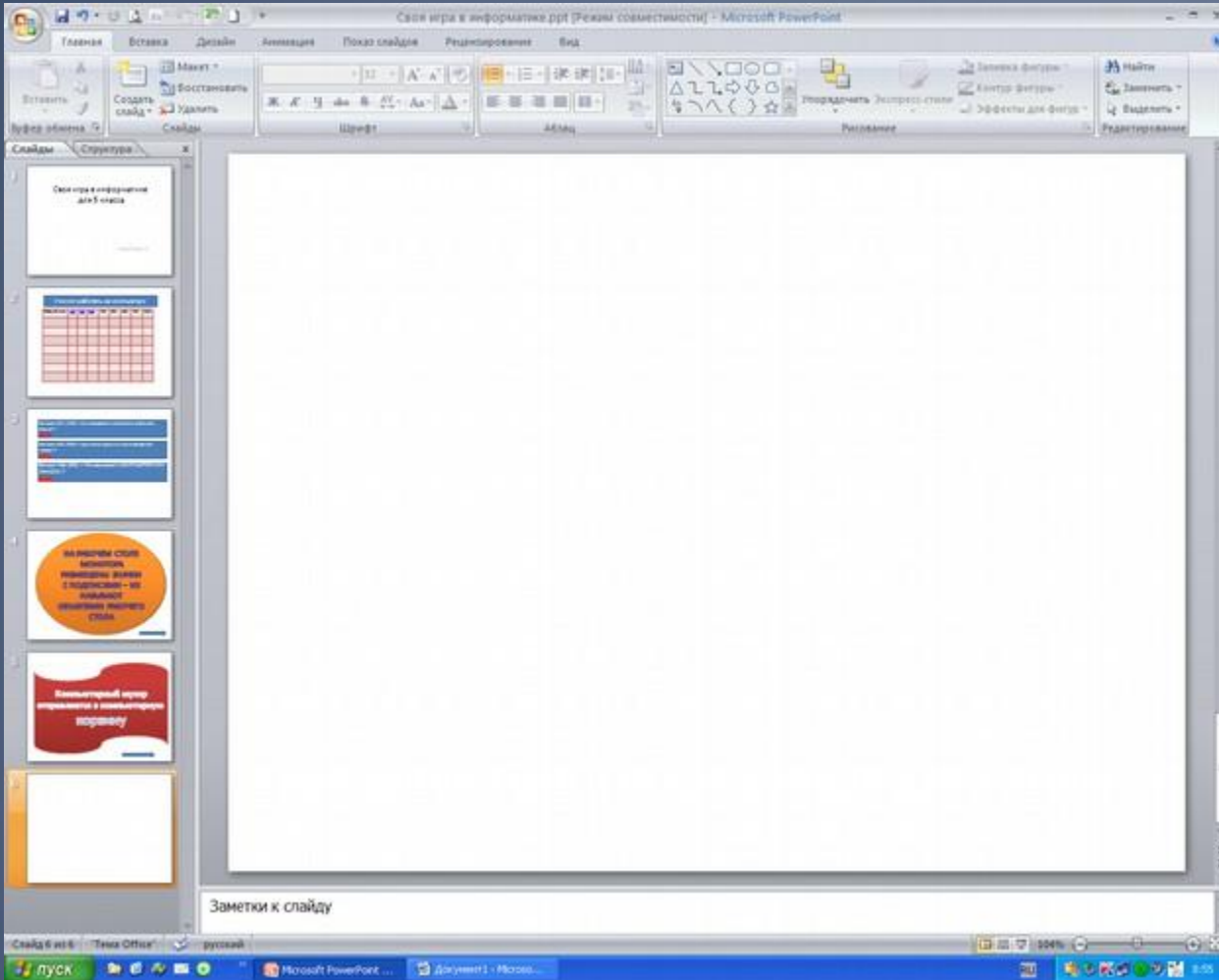
Вопрос №1 (10) – что называется
«объектами рабочего стола»?

ОТВЕТ

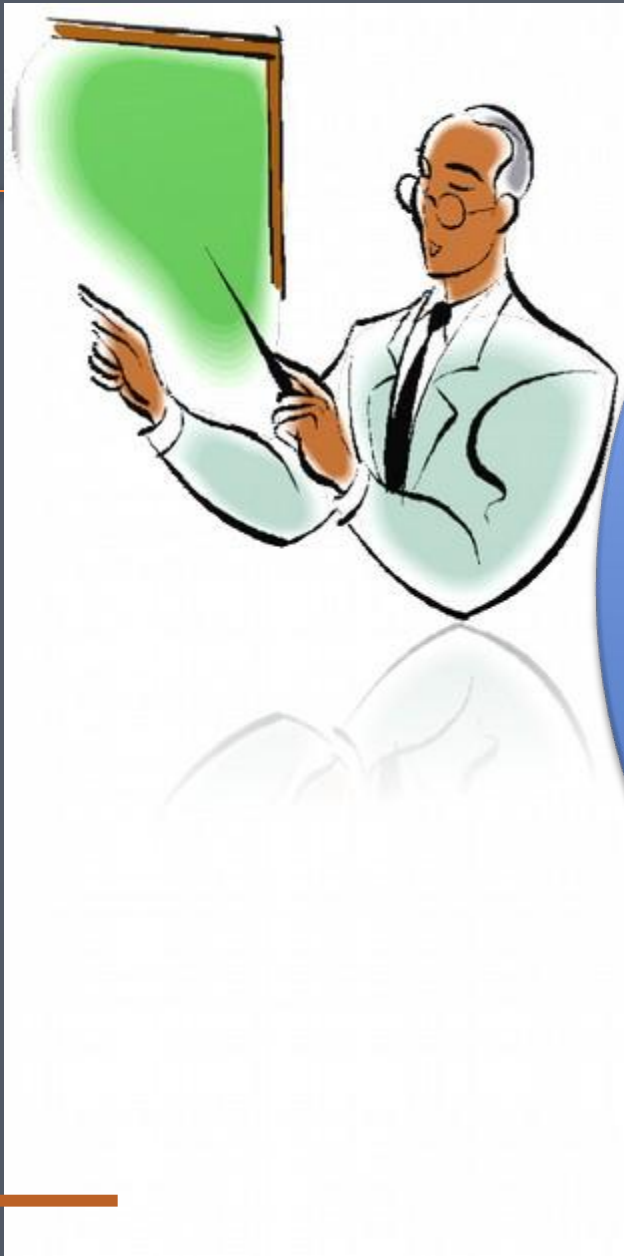
**НА РАБОЧЕМ СТОЛЕ
МОНИТОРА
РАЗМЕЩЕНЫ
ЗНАЧКИ С
ПОДПИСЯМИ – ИХ
НАЗЫВАЮТ
ОБЪЕКТАМИ
РАБОЧЕГО СТОЛА**

Компьютерный мусор
отправляется в
компьютерную **КОРЗИНУ**





Компьютерное окно – это ограниченная рамкой область экрана для размещения компьютерных объектов и выполнения действия над ними.



ИЗОБРАЖЕНИЯ,
СОЗДАННЫЕ ПРИ
ПОМОЩИ
КОМПЬЮТЕРА,
НАЗЫВАЮТСЯ
КОМПЬЮТЕРНОЙ
ГРАФИКОЙ



Программа
для
редактирова
ния
рисунков
называется
ГРАФИЧЕСКИ
М
РЕДАКТОРО
М

**Вопрос №4 (700) – назовите
некоторые правила приемов
работы с мышью**


ОТВЕТ


- 1. Значок выделенного объекта изменяет цвет**
- 2. Если в тексте задания не указано, какую именно кнопку мыши использовать – правую или левую, - значит речь идет о левой (основной) кнопке.**
- 3. Если указатель мыши принимает форму песочных часов, это означает, что компьютер занят выполнением какой-то операции и сто необходимо подождать, пока он освободиться.**

1. Строчные буквы, цифры и знаки - набираются простым нажатием клавиш.
2. Прописные буквы, знаки на цифровых клавишах набираются при нажатой клавише **SHIFT**.
3. Между словами ставится один пробел.
4. Знаки препинания в тексте (кроме тире) не отделяются пробелом от слова, за которым стоят.
5. Чтобы начать текст с новой строки, используется клавиша **ENTER**.



AVKMLMOH!!!






KOT P MALIŠKE!



Техника безопасности





Назовите причину
появления боли
в плечах и пояснице
во время длительной
работы за ПК.
Какие меры
профилактики.





Существуют определенные ограничения по времени при работе за компьютером. Сколько времени рекомендуется работать пользователю, если ему 6-10 лет.





Правила включения компьютера





Правила выключения компьютера





Продолжи фразу:

«При работе за
компьютером
необходимо

ПОМНИТЬ: _____»



Вопрос №2 (200) – где нужно
хранить «компьютерный мусор»?

ОТВЕТ

Вопрос №3 (300) – Что
называют «Компьютерным
ОКНОМ» ?

ответ

Вопрос №1 (10) – что называют
КОМПЬЮТЕРНОЙ ГРАФИКОЙ ?

ОТВЕТ

**Вопрос №5 (70) – перечислите
некоторые правила набора
текста**

ОТВЕТ

**Вопрос №2 (20) – что
называется ГРАФИЧЕСКИМ
РЕДАКТОРОМ?**

ОТВЕТ

**Серая полоска в
нижней части
Рабочего стола.
На ней размещаются
часы и индикатор
клавиатуры.**

ОТВЕТ

**Серой полоской в
нижней части
Рабочего стола
называют ПАНЕЛЬ
ЗАДАЧ**



Вопрос

**В каком устройстве
производится обработка
информации?**

ОТВЕТ

Процессор



Вопрос №2 (20)

Клавишное устройство,
предназначенное для управления
работой компьютера и ввода в него
информации.

ОТВЕТ



Клавиатура

Вопрос №3 (30) - Печатающее
устройство

ОТВЕТ

Принтер



Вопрос №4 (40)

**Устройство визуального
отображения информации
(в виде текста, таблиц,
рисунков, чертежей и т. д.)**

ОТВЕТ

Монитор






Вопрос №6 (80)

Используется
для длительного
хранения
информации



ОТВЕТ

Жесткий диск (ВИНЧЕСТЕР)





Компьютерную
графику применяют
представители самых
разных профессий.

Приведите
5 примеров,
прокомментируйте.





Какие периферийные
устройства
компьютера
используются для
ввода графической
информации.






Какие инструменты
графического
редактора Paint
применяют для
создания геометри-
ческих фигур.





KOT P MAIIKE!



Продолжи фразу:

«При работе за
компьютером
необходимо
ПОМНИТЬ: _____»



1

Три товарища – Аркаша, Дима, Вова – пошли в лес за грибами, причем каждый из них со своей сестрой. Девочек зовут Галя, Лена и Оля. Мальчики быстро наполнили грибами свои корзинки и стали помогать девочкам.

Назовите имя сестры каждого из мальчиков, если известно, что ни один из них не помогал своей сестре и что Дима несколько грибов положил в корзину Гали, а Аркаша – в корзинки Гали и Оли.





2

Когда Аня, Женя и Нина спросили, какие им поставлены оценки за контрольную работу по математике, учительница спросила: «Попробуйте догадаться сами, если я скажу, что в вашем классе двоек нет, а у вас троих оценки разные; причем у Ани - не 3, у Нины – не 3 и не 5».

Какую оценку получила каждая из учениц.



В бутылке, стакане, кувшине и банке находятся молоко, лимонад, квас и вода.

Известно, что: вода и молоко не в бутылке; в банке не лимонад и не вода; стакан стоит между банкой и сосудом с молоком.

В каком сосуде находится каждая из жидкостей?




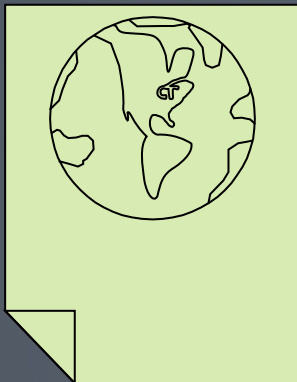
3





KOT P MAIIKE!





Животные также получают информацию с помощью своих органов чувств.

Какое, чувство является самым главным и

наиболее развитым у орла, волка, летучей мыши, дельфина, крота?

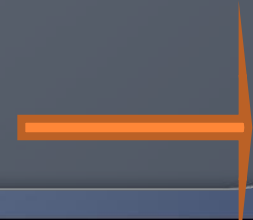


Вы знакомы с римскими цифрами. Первые три из них — I, V, X. Их легко изобразить, используя палочки или спички. Ниже написано несколько неверных равенств. Как можно получить из них верные равенства, если разрешается переложить с одного места на другое только одну спичку (палочку)?

- 1) VII — V = XI;
- 2) IX — V = VI;
- 3) VI — IX = III;
- 4) VIII — III = X.



4



Три поросенка. Жили-были три поросенка – Ниф-Ниф, Наф-Наф, Нуф-Нуф. Решили они построить на зиму домики: один – из соломы, другой – из веток, третий – из камня. Кто какой домик построил, если известно, что Ниф-Ниф построил домик не из веток и не из камня, Наф-Наф построил домик не из веток?



5

