

Тема:

**Сложение и
вычитание в
пределах 10.
Закрепление.**



2

4

6

8

10

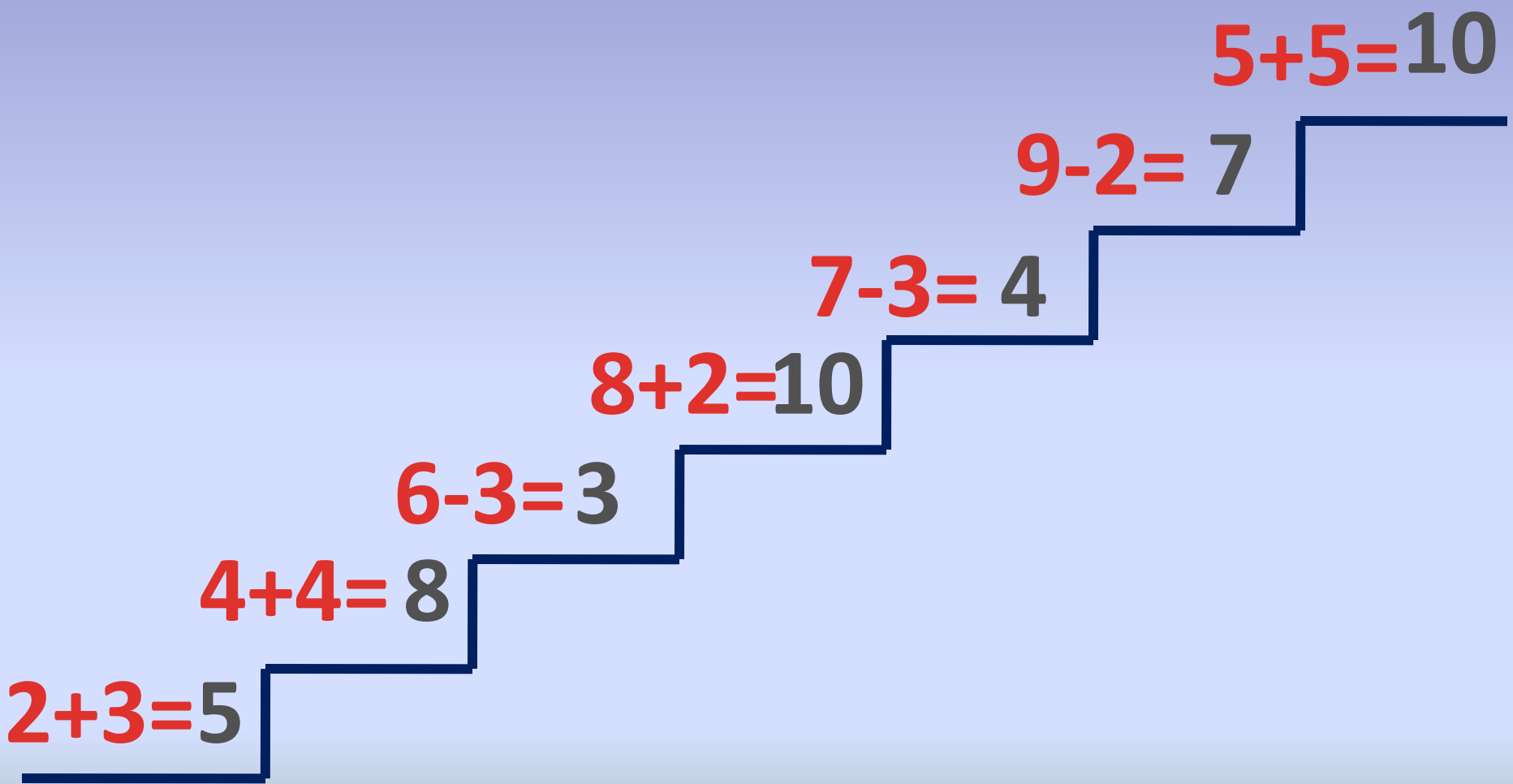
1

3

5

7

9



$2+3=5$

$4+4=8$

$6-3=3$

$8+2=10$

$7-3=4$

$9-2=7$

$5+5=10$

Лисички



100 Й

СТО

Й

Е
сн
а

вЕСН

О

опЯТ

5
Ь

100

СТО

Л
Л

С з


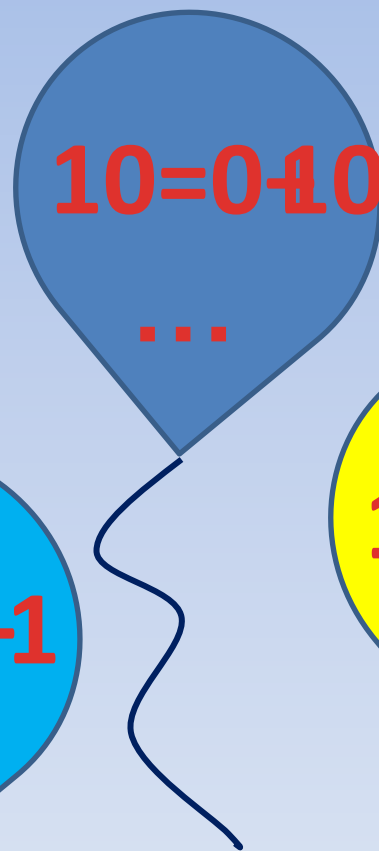

СТРИ

Ж

Ж



Белочки



Зайчики



**На тарелке было 7 груш.
3 груши съели. Сколько
груш осталось?**



Задача на смекалку

На столе стояло 3 стакана с малиной. Костя съел 1 стакан малины. Сколько стаканов осталось?



Работа в парах

$$10 - \dots 2 =$$

$$+ 8$$

$$7 + \dots 3 =$$


$$10$$

$$4 \quad 6 -$$



**Дорогие ребята, большое
спасибо за то, что вы сорвали
мои лепестки. Желаю вам
успехов в учебе.**

**А в награду дарю вам
новогоднюю елку.**



Рефлексия

Работал, но не
активно

Был пассивен,
но буду

ст



Активно
работал