




Урок математики во 2 «Г» классе



Учитель: Данилова И.И.





Математику, друзья,
Не любить никак нельзя.
Очень строгая наука,
Очень точная наука,
Интересная наука -
Это математика!

Минутка час бережёт.

Делу время – потехе час.


Век живи – век учись.

Два часа просыпался,

Два часа умывался,

Один час утирался,

Сутки одевался.

A blue-toned image featuring a globe with a clock face overlay. The clock hands are positioned at approximately 10:10. The globe shows the continents of North and South America. The background is a bright blue sky with white clouds. A semi-transparent blue banner is overlaid across the center of the image, containing white text.

Без ног и крыльев оно,
Быстро летит, не догонишь его.

Цель урока:

Закрепить ранее изученный материал по математике, расширить знания о времени, воспитать бережное отношение ко времени



14 мая.

Классная работа.



Напишите число, которое
находится между числами 879
и 881.



К 8 сотням прибавьте 4
единицы.



**НАПИШИТЕ ЧИСЛО, В
КОТОРОМ 6 ДЕСЯТКОВ И
3 ЕДИНИЦЫ.**



Число 140 увеличьте на 7.



Первое слагаемое 780, второе
слагаемое 2. Чему равна
сумма этих чисел?



Чему равно произведение, если первый множитель равен 7, а второй множитель - 8.

Проверяем:

880, 804, 63, 147, 782, 56

Проверяем:

56, 63, 147, 782, 804, 880.

Расположите единицы измерения по возрастанию:

метр

дециметр

километр

миллиметр

сантиметр


км

мм

см

дм


м



Длина

Учимся определять время по часам!

И УЧИМСЯ ИГРАЯ



Ура
гос госос



Секунда(с)

Минута(мин)

Час(ч)

Сутки(с)

Неделя(н)

Месяц(мес.)

Год(г)



Время

© ElenArt / Фотобанк Лори



lori.ru/2566

Расположите единицы измерения по возрастанию:

месяц

неделя

год

день

век

век

год

месяц

неделя

день





Физкультминутка

Тик – так! Тик – так!

Ходят часики вот так!

Влево – шаг! Вправо – шаг!

Тик - так! Тик – так!



Поставь вместо звёздочек числа, чтобы получились верные равенства.

$$3 \text{ нед.} = * \text{ Д}$$

$$2 \text{ мин} = * \text{ С}$$

$$2 \text{ ч} = * \text{ МИН}$$

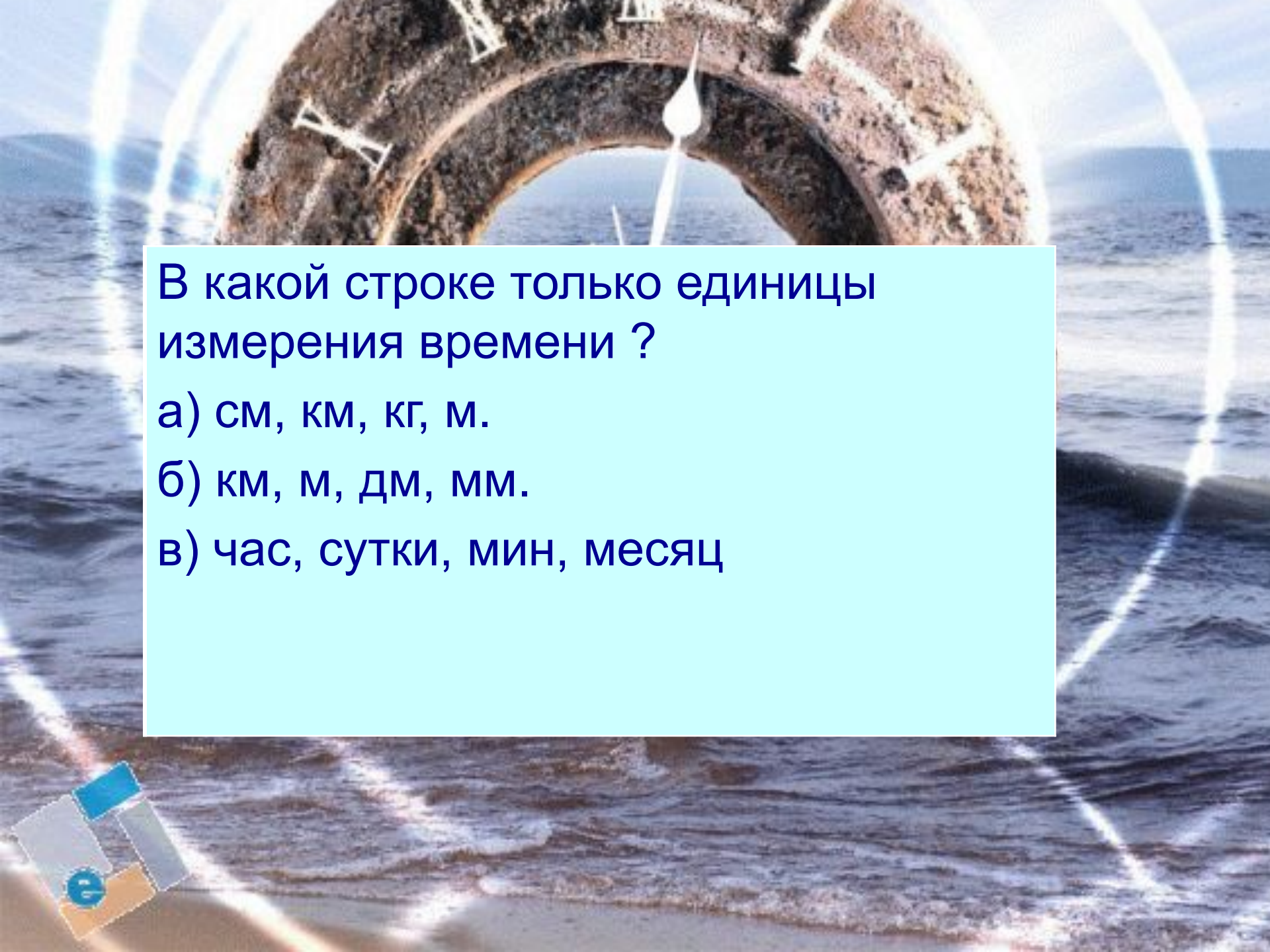
$$3 \text{ мин} = * \text{ С}$$

$$2 \text{ сут.} = * \text{ Ч}$$

$$3 \text{ ч} = * \text{ МИН}$$

Задача.

Ежедневно второклассник читал 8 страниц. Сколько страниц он прочитал за 7 дней?



В какой строке только единицы измерения времени ?

а) см, км, кг, м.

б) км, м, дм, мм.

в) час, сутки, мин, месяц



Закончите фразы:

В году ... месяцев.

В году ... дней.

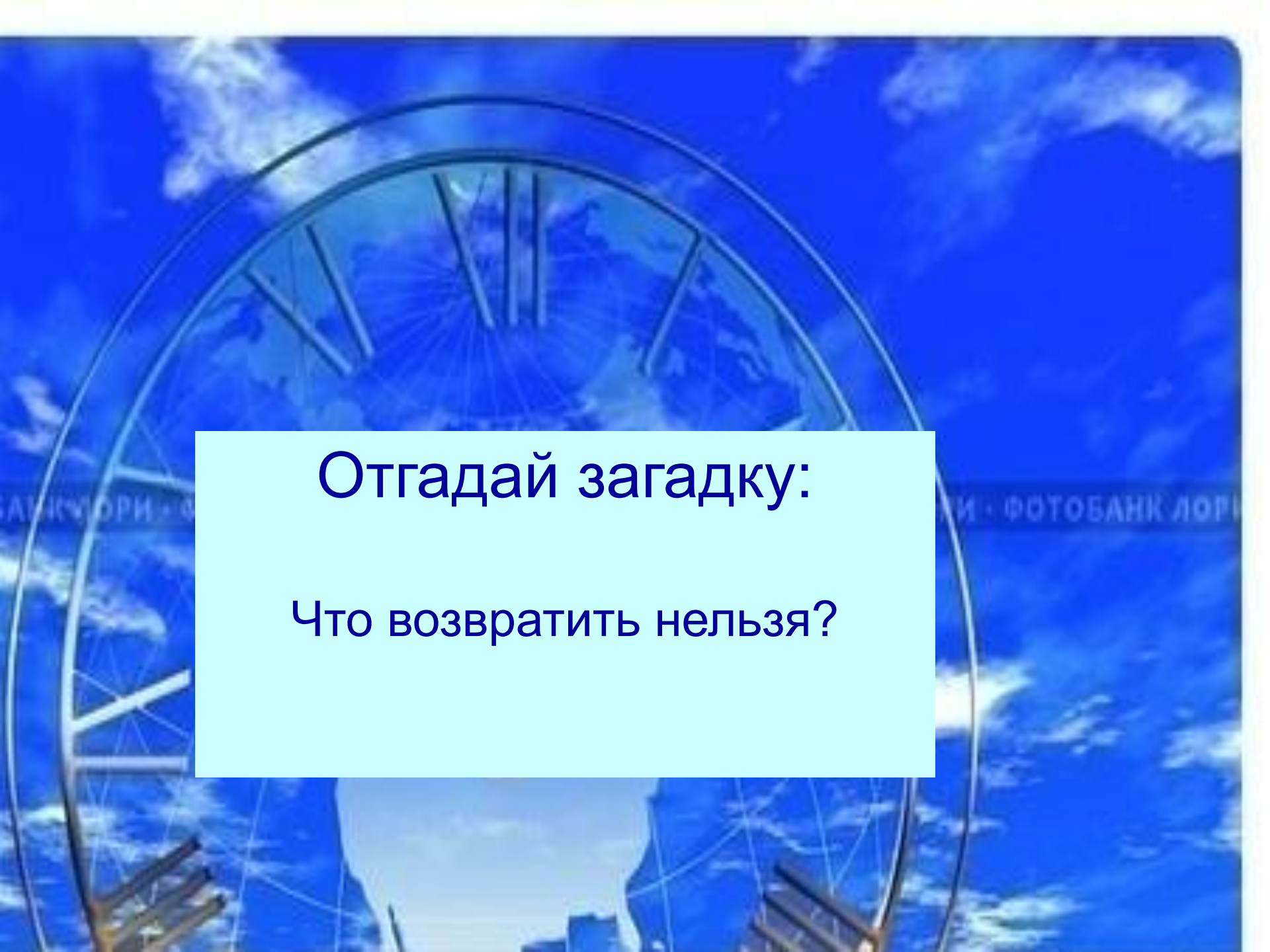
В году ... зимних месяца: ..., ...,

В году ... весенних месяца: ..., ...,

В году ... летних месяца: ..., ...,

В году ... осенних месяца: ..., ...,

В неделе ... дней.



Отгадай загадку:

Что возвратить нельзя?

Домашнее задание

C.159,N 488

A circular wooden clock face with numbers 1 through 12. The numbers are in various colors: 1 (blue), 2 (orange), 3 (red), 4 (blue), 5 (red), 6 (red), 7 (orange), 8 (blue), 9 (red), 10 (blue), 11 (green), and 12 (red). In the center is a colorful clown with a yellow face, red nose, and a blue hat with a red bow. The clown is holding a red and white polka-dot balloon. There are also two blue elephants, one on the left and one on the right. The words 'BETTER CLOWN' and 'EDUAR' are written in a circular path around the clown. There are several yellow and red stars scattered around the clown. A light blue rectangular box is overlaid on the clock face, containing the text 'Спасибо всем!'.

Спасибо всем!

