


ПРОТИВОПОЛОЖНЫЕ ЧИСЛА

Урок математики в 6 классе

- Ещё природа не
проснулась,
Но сквозь редяющего сна
Весну прослышала она
И ей невольно улыбнулась
Ф.Тютчев




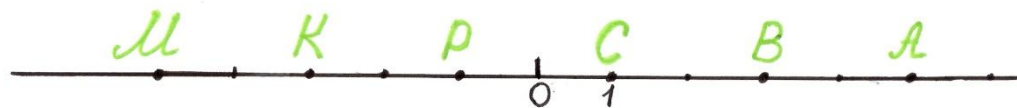
ОПРЕДЕЛИТЕ, КАКИЕ ТОЧКИ
ИМЕЮТ КООРДИНАТЫ, РАВНЫЕ -5;
5; -1; 1?

M(-5)

A(5)


P(-1)

C(1)



Марс — римский бог войны и покровитель римской мощи. В древности Марса почитали также как бога урожая, полей, лесов и весны. Его именем назван первый месяц весны — март.

Римляне считали, что Марс их любит больше, чем другой народ, и даёт им победы в их частых войнах. В знак своей благосклонности он сбросил им с неба собственный щит, который должен был охранять Рим. В древности было изготовлено много копий этого щита, жрецы носили их в торжественных процессиях по городу во время празднования дня рождения Марса — 1 марта.



Проверка диктанта

ти 4


ные Витя

во-8

по 0

про – 3, *отрицательное*


лож 7



Противоположны е числа

N° 926

-1	7,8	9	-0,5	$\frac{5}{7}$	$-4\frac{3}{8}$	$3\frac{2}{9}$	$-1\frac{1}{4}$
В	Е	С	Н	О	В	Е	Й



№ 927

КА


$$в) -(-247) = 247$$

$$д) -\left(-\frac{7}{12}\right) = \frac{7}{12}$$

ПЕЛ
Ь

$$е) 7\frac{9}{14} = -\left(-7\frac{9}{14}\right)$$

НИК



N°931




0

6



-5




2

-3



-4

1





	1	М	а	с	ш	т	а	б					
2		М	И	Н	У	с							
3		К	О	О	Р	Д	И	Н	А	Т	Н	А	Я
	4		Д	В	А								
5		З	Н	А	К								