


«Шкалы»

Урок получения новых знаний.

Урок математики в 4 классе.

Автор: Корчагина Ольга Даниловна,
учитель начальных классов
МОУ УСОШ № 2 им. Сергея Ступакова
г.Удомля Тверской обл.





**Начинается урок
Он пойдёт ребятам впрок
Постарайтесь всё понять**

–

**Будем правильно
решать.**

**Тут затеи и задачи,
Игры, шутки, всё для вас!
Пожелаем всем удачи –
За работу, в добрый час!**




Разгадать
ребус.



’ ~~100~~

4



шкала

Устная работа



Как называется:

- а) одна шестидесятая доля часа?
- б) одна десятая доля метра?
- в) одна тысячная доля тонны?
- г) одна сотая доля дециметра?

Придумайте свое подобное задание для соседа.



Устная



Сравнить.

$$37 \text{ кг} = 37000 \text{ г}$$

$$240 \text{ м} < 24 \text{ см}$$

$$25 \text{ ч.} > 1 \text{ сут}$$

$$4 \text{ м}^2 > 400 \text{ см}^2$$

Найти пару к числам из первого ряда среди чисел во втором ряду:

$1/2 \text{ см}$

$1/4 \text{ м}$

$2/5 \text{ дм}$

$1/2 \text{ см}^2$

$1/4 \text{ м}^2$

$2/5 \text{ дм}^2$



4 см

40 см^2

50 мм^2

25 см

5 мм

2500 см^2

Устная



1. Петя нужно сделать 14 моделей машинок, а Вите $\frac{2}{3}$ его машинок. Сколько машинок сделали они вместе?

25

2. От ленты длиной 2 м нужно отрезать на $\frac{3}{5}$ части. Какой длины ленту нужно отрезать? (в дм, в см)

12 дм, 120 см

3. На полке лежало 40 коробок с карандашами. Детям нужно раздать $\frac{5}{8}$ всех коробок. Сколько учеников получат карандаши? Сколько коробок останется на полке?

25 15



Устная



работа.
От ленты длиной 2 м нужно отрезать на $\frac{3}{5}$ части. Какой длины ленту нужно отрезать ?

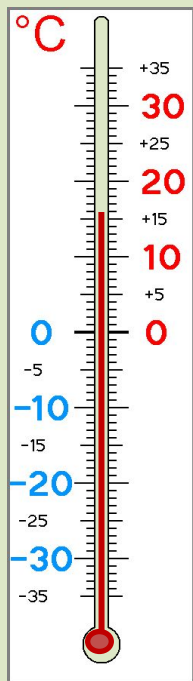




Шкала, которая нам
помогает часто в школе?



Где ещё встречается шкала?

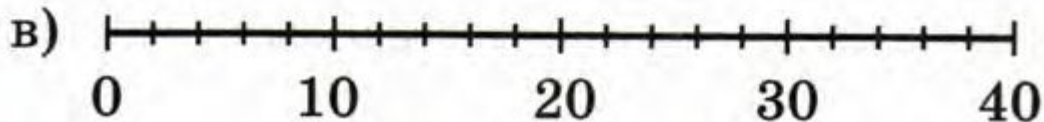
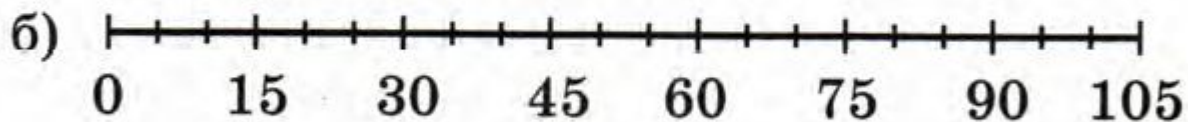
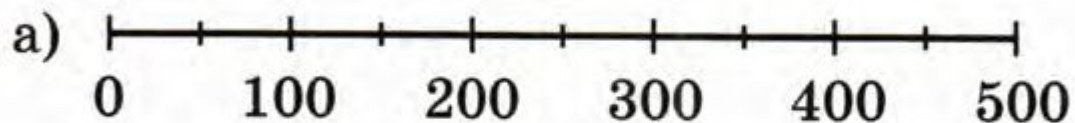




Работа по учебнику Урок 17



2 Определи цену деления шкалы на числовом отрезке:



**Выполнить задания №
4, 5.**





Спасибо за работу!

