

Закрепление.

Цифра 9.





Сколько человек тянули
репку?



Что лишнее? Почему?



Угадай число



$$\boxed{3} + \boxed{2} = \boxed{5}$$

$$\boxed{1} + \boxed{4} = \boxed{5}$$

Не зевай!

4

9

1

5

6


3

7

2

8

Девять как и шесть, взглядишь,
ТОЛЬКО
ХВОСТ НЕ ВВЕРХ, а ВНИЗ.



Что за цифра акробатка-
перевёрнутый замок!