



# Считай, смекай, отгадывай

Подготовила: учитель  
начальных классов Фомкина Н.  
Н.

Материалы внеклассного  
мероприятия

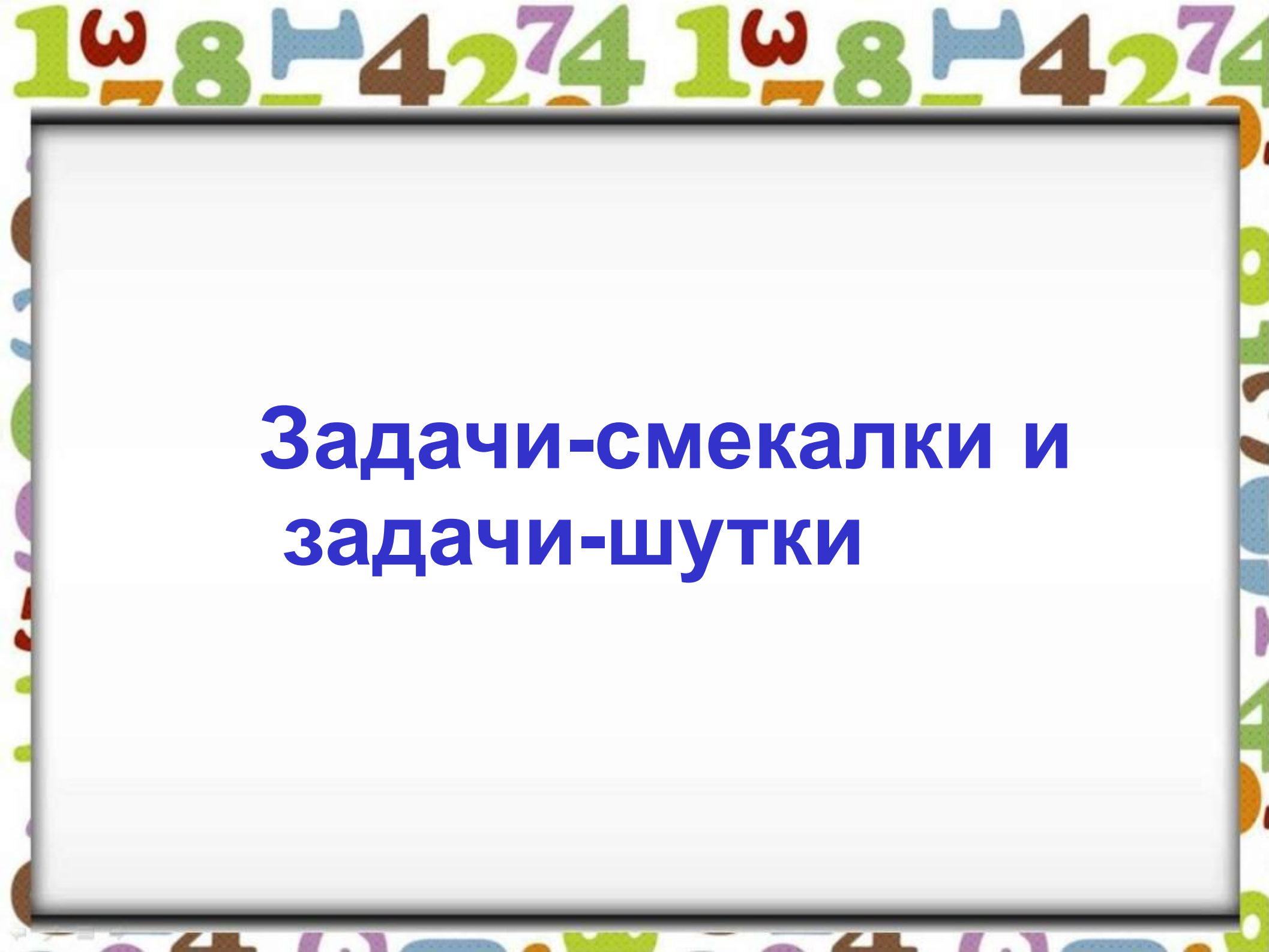
МАТЕМАТИКА-  
ЦАРИЦА ВСЕХ НАУК



Сколько всего героев?



9

A decorative border surrounds the central text area, featuring a repeating pattern of numbers (1, 8, 4, 2, 7, 4) and symbols (omega, pi) in various colors (green, blue, brown, purple, orange).

# **Задачи-смекалки и задачи-шутки**


Лежали конфеты в кучке. Две матери, две дочери да бабушка с внучкой взяли конфет по одной штучке, и не стало этой кучки. Сколько конфет было в кучке?

3



У семи братьев по одной сестре. Сколько всего детей?



Четверо играли в шахматы 4 часа   
Сколько часов играл каждый из  
участников?




На ветке сидят 3 воробья, к ним прилетели ещё 4. Кот подкрался и схватил одного воробушка. Сколько осталось воробьёв на ветке?



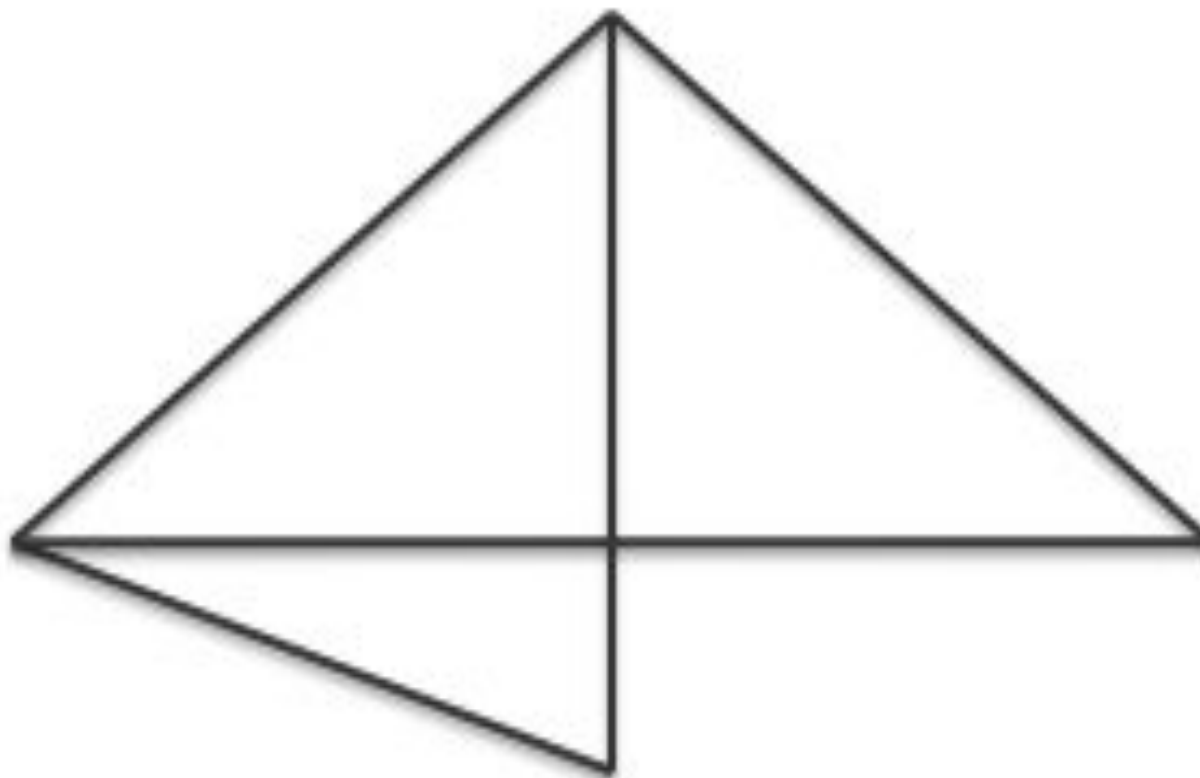


Сколько здесь чисел, которые  
меньше 6, но больше 2?



Сколько здесь треугольников?

5





## Логическое задание

$$1 + 4 + 4 - 3 + 2 = 8$$

Расставьте  
между числами  
знаки + и -,  
чтобы получилось верное  
равенство



# Помоги Г... брать нектар



$9+0$

$6+2$

$8+1$


$4+3$

$5+3$

$4+5$

$6+3$

$7+2$



Найди выражения с ответом 9

# Ребусы

С З Ж

Стриж


Р 1 а

Родина

ВИЗна

Витрина

З



Тритон

1 6 8 4 2 7 4 1 6 8 4 2 7 4



# Источники информации:

- <http://images.yandex.ru> <http://images.yandex.ru/yandsearch?text=%D0%BA%D0%B0%D1%80%D1%82%D0%B8%D0%BD%D0%BA%D0%B8%20%D0%B3%D0%B5%D1%80%D0%BE%D0%B5%D0%B2%20%D0%BC%D1%83%D0%BB%D1%8C%D1%82%D0%B8%D0%BA%D0%BE%D0%B2&stypе=image&lr=11231&noreask=1&source=wiz>