

Составление и решение задач



Задачи в стихах



Шесть веселых медвежат
За малиной в лес спешат,
Но один из них устал,
От товарищей отстал.
А теперь ответ найди:
Сколько мишек впереди?

5



Презентацию составила
учитель начальных
классов
Шмелева А.В.

Устный

счет

Вы козленка спасете ребятки.
Если считать будете по порядку.



1 ряд от 10 до 15
вслух

2 ряд от 15 до 20
вслух

Скажите быстрее без подсказки

Какое число в названии сказки.

-Больше 7 ,но меньше 9?

-Меньше 7,но больше 5?

-За числом 8 следует?

-Какое число больше 3 на 1?

-Какое число меньше 9 на 1?

-Назовите соседей числа

5?





Чтоб вернуть козлят в дома



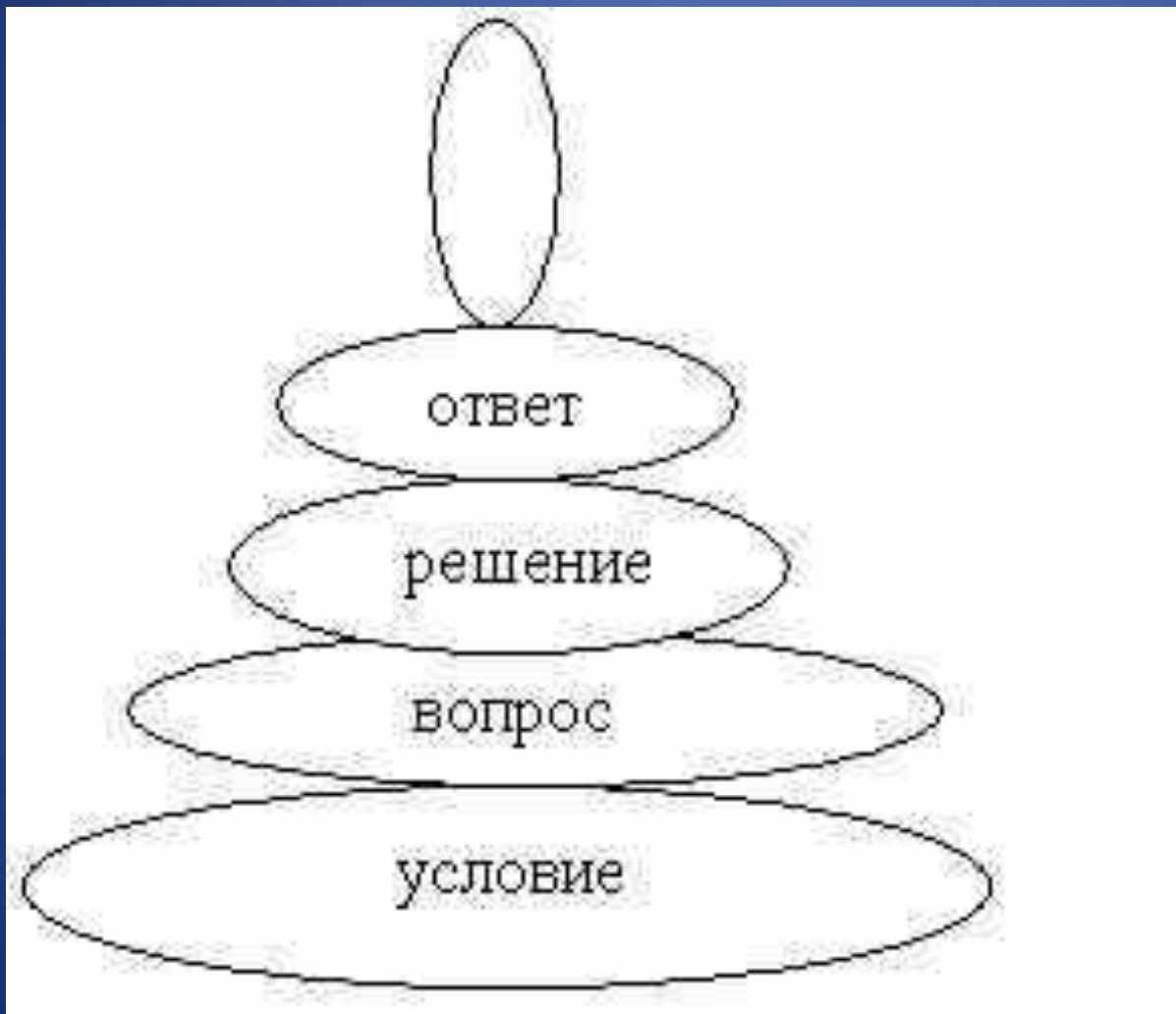
СОСТАВ ЧИСЕЛ ОТ 6 ДО 10 ИЗ ДВУХ СЛАГАЕМЫХ




-Каких сказочных героев вы успели
запомнить?



Чтобы волка обхитрить Задачи нужно нам



Составьте задачу по иллюстрации.



$$4+2=6(\text{пт.})$$

)

Составьте задачу по

картинке



$$9 - 3 = 6$$

$$6 + 3 = 9$$

-Можно ли по этим иллюстрациям
составить задачи?

-Объясни ответ



<http://festival.1september.ru/articles/517651/img2.JPG>

http://www.uchportal.ru/_ld/281/17678373.jpg

<http://a742.phobos.apple.com/us/r1000/118/Purple/v4/04/ed/16/04ed16d2-46d1-e52c-dfba-1270c13d679f/VTJuxktCXHOQYirV7fAmNg-temp-upload.fhtogclg.1024x1024-65.jpg>

<http://rs232tousbconverters.com/image/55fc71ad81403.jpg>

http://img.4mama.com.ua/pictures/content/1/1282_slider.jpg

<http://5klass.net/datas/matematika/Slozhenie-i-vychitanie-1-klass/0011-011-Slozhenie-i-vychitanie-1-klass.jpg>

http://lit-yaz.ru/pars_docs/refs/99/98979/98979_html_61e69678.jpg

http://cor.edu.27.ru/dlrstore/de815354-756b-4ada-81be-34039114ab05/ur33/z33_4_files/chick_duck.gif