

Проверим наши знания!



Закирова Н.Н., учитель информатики и ИКТ МБОУ Мокрокурналинской
СОШ Алексеевского муниципального района Республики Татарстан

Вам понравился наш сегодняшний урок?



Да



Нет




Вам было все понятно по этой теме?



Да



Нет



В какой точке закончит движение исполнитель Стрелочка, если начнет его из точки **A**?

1

A

2

B

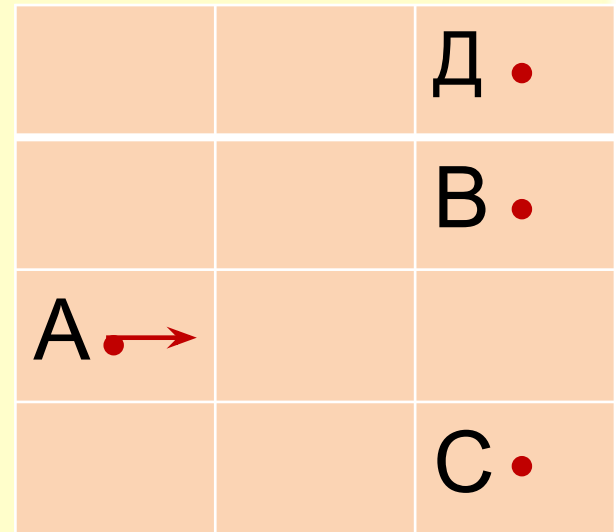
3

C

4 ✓

D

Начало
шаг
шаг
поворот
шаг
шаг
Конец



В какой точке закончит движение исполнитель Стрелочка, если начнет его из точки **A**?

1

A

Начало

2

B

прыжок

3

C

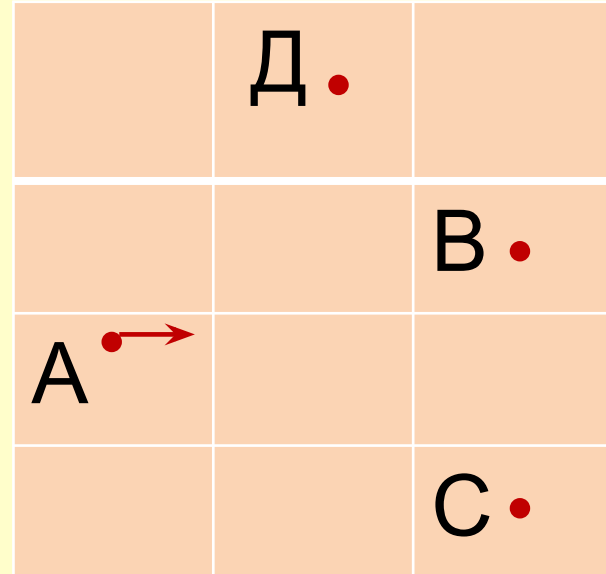
прыжок

4

D

поворот

поворот



Какую фигуру нарисует стрелочка
выполнив программу?

Начало

Поворот

Шаг

Шаг

Поворот

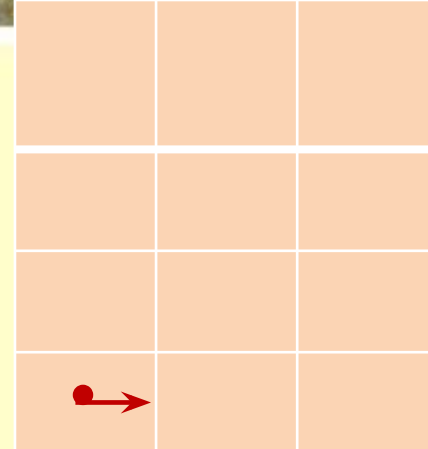
Поворот

Поворот

Шаг

Шаг

Конец



Спасибо за урок!!!



Домашнее задание

1. Пар. 28 читать.
2. Стр.159, задание 7 (написать программы для рисования двух букв по выбору)