

БРАТЬЯ НАШИ МЕНЬШИЕ

(МАТЕМАТИЧЕСКАЯ ИГРА ДЛЯ НАЧАЛЬНЫХ
КЛАССОВ)

Подготовила учитель
ГБС(К)ОУ школы-интерната
станции Шкуринской
Прохватилова Елена Николаевна

Выбери правильный ответ и ты узнаешь,
кто является самой большой кошкой.




ЛЕВ - 8



АМУРСКИЙ ТИГР - 10



ПАНТЕРА - 6



- 1
- 2
- 3
- 4
- 5
- 6
- 7
- 8
- 9
- 10

Выбери правильный ответ и ты узнаешь,
кто является самой большой кошкой.




ЛЕВ - 8



АМУРСКИЙ ТИГР - 10



ПАНТЕРА - 6



- 1
- 2
- 3
- 4
- 5
- 6
- 7
- 8
- 9
- 10

Выбери правильный ответ и ты узнаешь,
кто является самой большой кошкой.




ЛЕВ - 8



АМУРСКИЙ ТИГР - 10



ПАНТЕРА - 6



- 1
- 2
- 3
- 4
- 5
- 6
- 7
- 8
- 9
- 10

Выбери правильный ответ и ты узнаешь,
кто является самой большой кошкой.




ЛЕВ - 8



АМУРСКИЙ ТИГР - 10



ПАНТЕРА - 6



- 1
- 2
- 3
- 4
- 5
- 6
- 7
- 8
- 9
- 10

Амурский тигр



Взрослые амурские тигры достигают в длину трех с половиной метра. А весит тигр более трехсот килограммов. Тигр любит нападать из густого кустарника. Удар тигриной лапы страшен и смертоносен. Одним ударом он убивает лошадь.

Ответив верно на вопрос, ты узнаешь,
кто является самой хитрой кошкой.



Гепард - **12**




Пума - **10**



Леопард - **8**

Сколько треугольников на рисунке?



Леопард



Леопард – самая хитрая из всех кошек. Он может часами валяться на солнцепёке, прикинувшись мёртвым. Только этот хитрец может биться в корчах, стонать и изображать умирающего, подманивая к себе неопытных оленей или верблюдов.


Вставь правильно цифры и узнаешь,
кто является самым быстрым зверем.



Страус – 3, 2, 1



Лошадь – 4, 5, 7



Гепард – 9, 4, 8

$$10 - \dots = 1$$

$$10 - \dots = 6$$

$$10 - \dots = 2$$

1

2

3

4

5

6

7

8

9


Вставь правильно цифры и узнаешь,
кто является самым быстрым зверем.



Страус – 3, 2, 1



Лошадь – 4, 5, 7



Гепард – 9, 4, 8

$$10 - 9 = 1$$

$$10 - \dots = 6$$

$$10 - \dots = 2$$

1

2

3

4

5

6

7

8

9


Вставь правильно цифры и узнаешь,
кто является самым быстрым зверем.



Страус – 3, 2, 1



Лошадь – 4, 5, 7



Гепард – 9, 4, 8

$$10 - 9 = 1$$

$$10 - 4 = 6$$

$$10 - \dots = 2$$

1

2

3

4

5

6

7

8

9


Вставь правильно цифры и узнаешь,
кто является самым быстрым зверем.



Страус – 3, 2, 1



Лошадь – 4, 5, 7



Гепард – 9, 4, 8

$$10 - 9 = 1$$

$$10 - 4 = 6$$

$$10 - 8 = 2$$

1

2

3

4

5

6

7

8

9

Гепард



Гепард – самый быстрый бегун на земле. Преследуя добычу, он способен некоторое время бежать со скоростью **120** км/час. На коротких расстояниях гепард легко обгоняет скаковую лошадь. С места он прыгает на целых восемь метров.

Ответив верно на вопрос, ты узнаешь,
какая птица является самой маленькой.



Воробей - 6



Колибри - 4



Снегирь - 10

Сколько лучей на рисунке?



4

10

6

Ответив верно на вопрос, ты узнаешь,
какая птица является самой маленькой.



Воробей - 6



Колибри - 4



Снегирь - 10

4

Колибри



Колибри – самые маленькие птицы. Самые мелкие из них – величиной с крупного шмеля, самые большие – с ласточку. Колибри никогда не садятся на землю, а на ночь подвешиваются вниз головой. Эти маленькие птички очень отважны. Они героически защищают свои гнёзда с птенцами или яичками величиной с горошинку. Бесстрашно нападают на врага и сильным ударом в глаз сбрасывают на землю даже древесных змей.

Угадай состав какого числа показан
на рисунке и узнаешь,
кто является самым большим лежебокой.



Медведь - 9



Барсук - 10



Сурок - 8



4

6

7

+

3

2

8

10

9

8

Барсук



Барсука увидеть трудно, потому что он любит поспать. Летом спит весь день, а зимой – день и ночь. Лишь изредка он просыпается и бродит по лесу. Чаще всего это случается в сильные оттепели или во время большого дождя, когда вода попадает в нору и будит лежебоку.

Реши цепочку и узнаешь, какие обезьянки являются самыми маленькими.



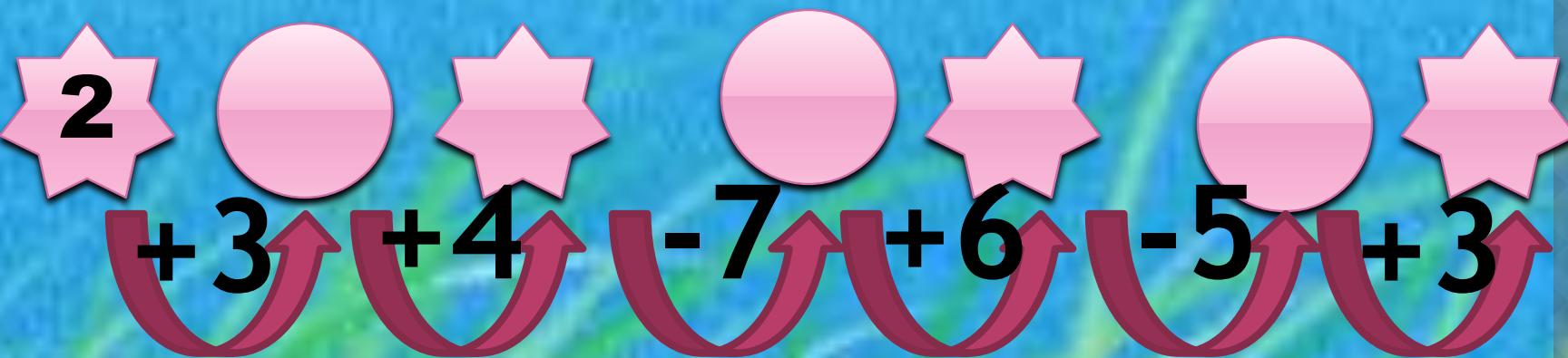
Игрунки - 6



Шимпанзе - 7



Лемур - 5



- 1
- 2
- 3
- 4
- 5
- 6
- 7
- 8
- 9
- 10

Реши цепочку и узнаешь, какие обезьянки являются самыми маленькими.



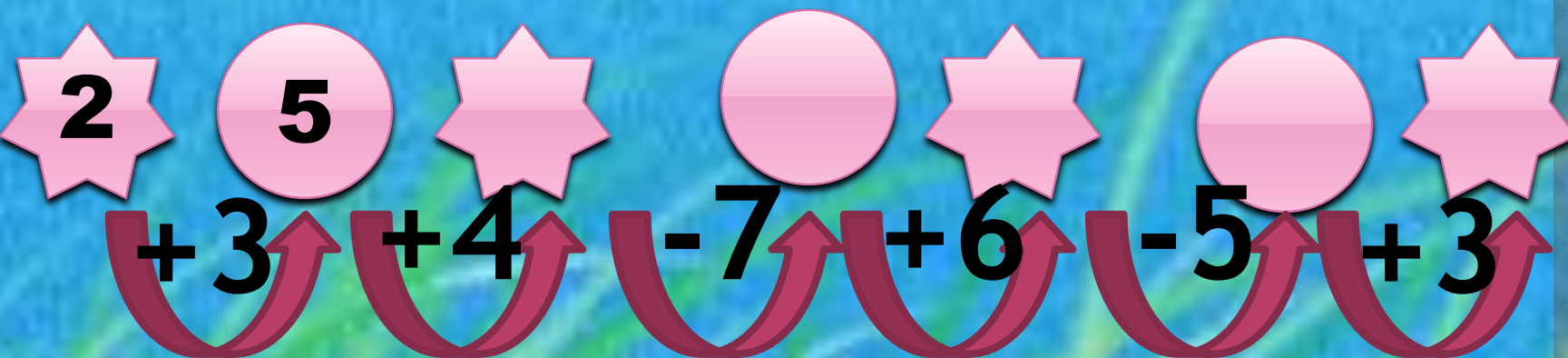
Игрунки - 6



Шимпанзе - 7



Лемур - 5



- 1
- 2
- 3
- 4
- 5
- 6
- 7
- 8
- 9
- 10

Реши цепочку и узнаешь, какие обезьянки являются самыми маленькими.



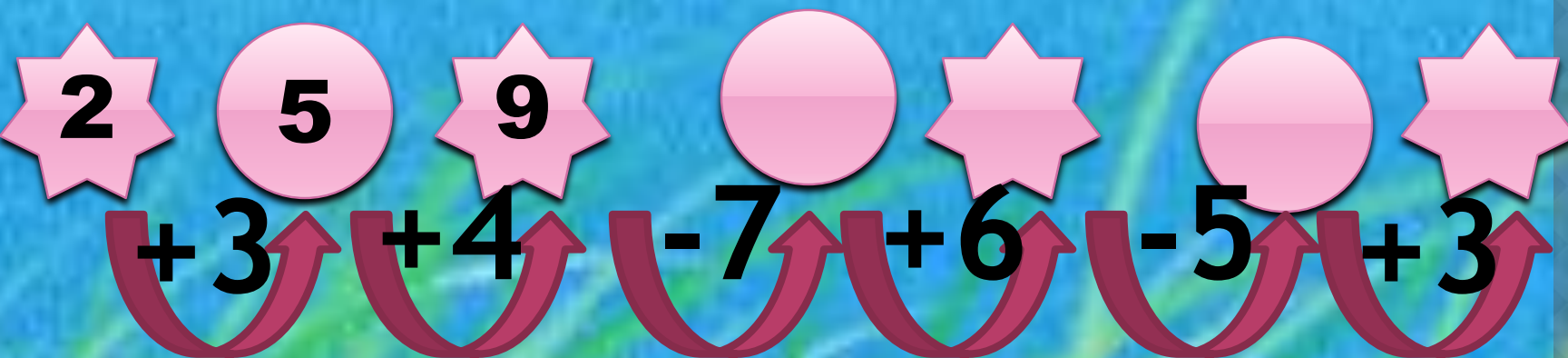
Игрунки - 6



Шимпанзе - 7



Лемур - 5



- 1
- 2
- 3
- 4
- 5
- 6
- 7
- 8
- 9
- 10

Реши цепочку и узнаешь, какие обезьянки являются самыми маленькими.



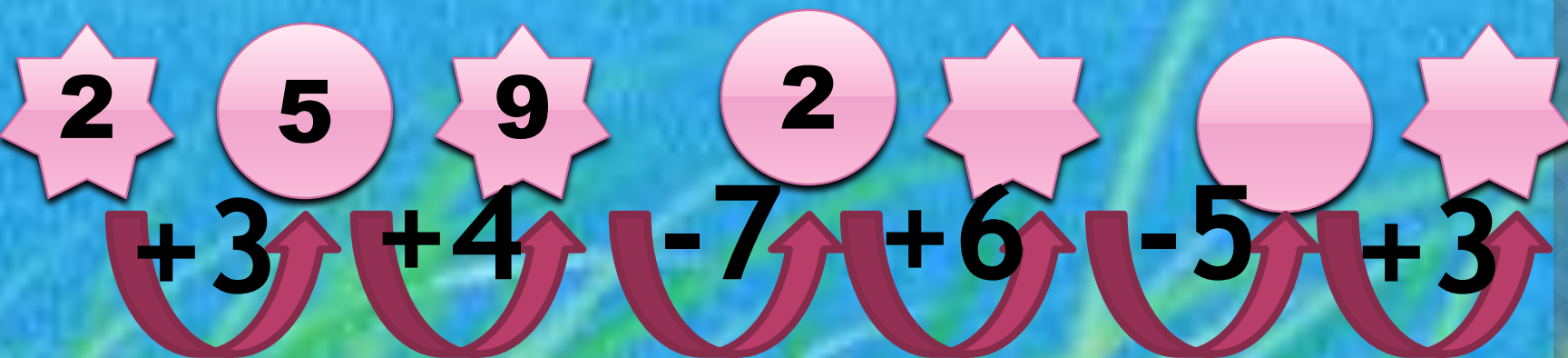
Игрунки - 6



Шимпанзе - 7



Лемур - 5



- 1
- 2
- 3
- 4
- 5
- 6
- 7
- 8
- 9
- 10

Реши цепочку и узнаешь, какие обезьянки являются самыми маленькими.



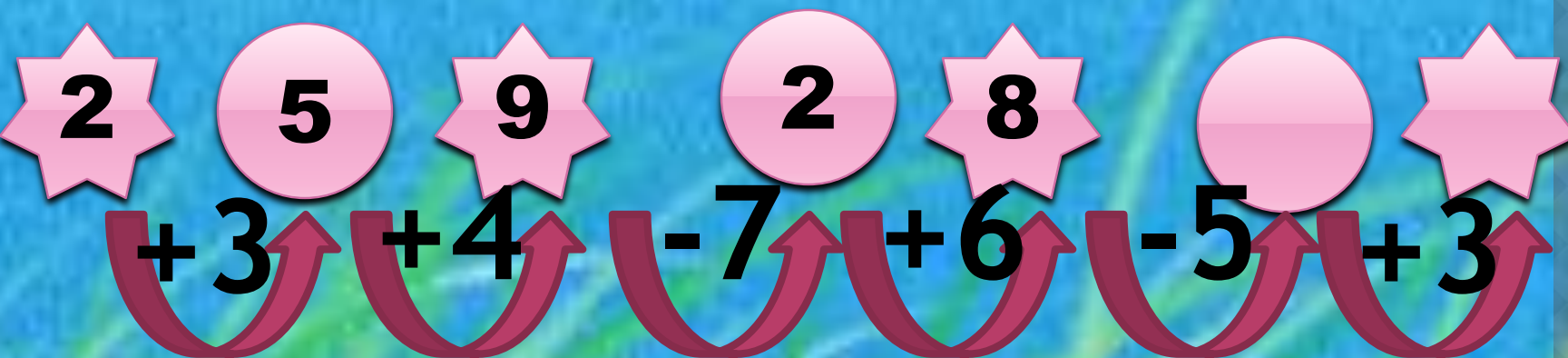
Игрунки - 6



Шимпанзе - 7



Лемур - 5



- 1
- 2
- 3
- 4
- 5
- 6
- 7
- 8
- 9
- 10

Реши цепочку и узнаешь, какие обезьянки являются самыми маленькими.



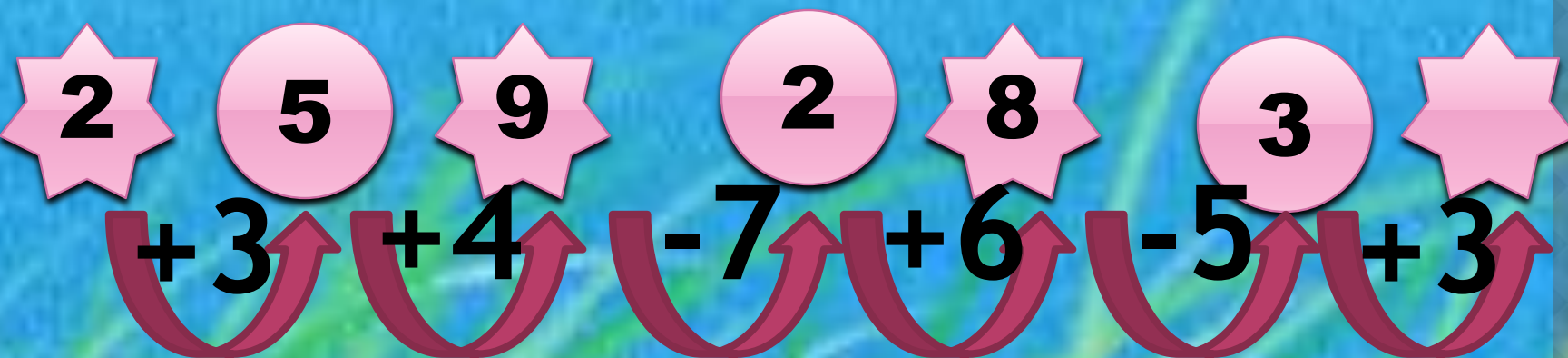
Игрунки - 6



Шимпанзе - 7



Лемур - 5




- 1
- 2
- 3
- 4
- 5
- 6
- 7
- 8
- 9
- 10

Реши цепочку и узнаешь, какие обезьянки являются самыми маленькими.



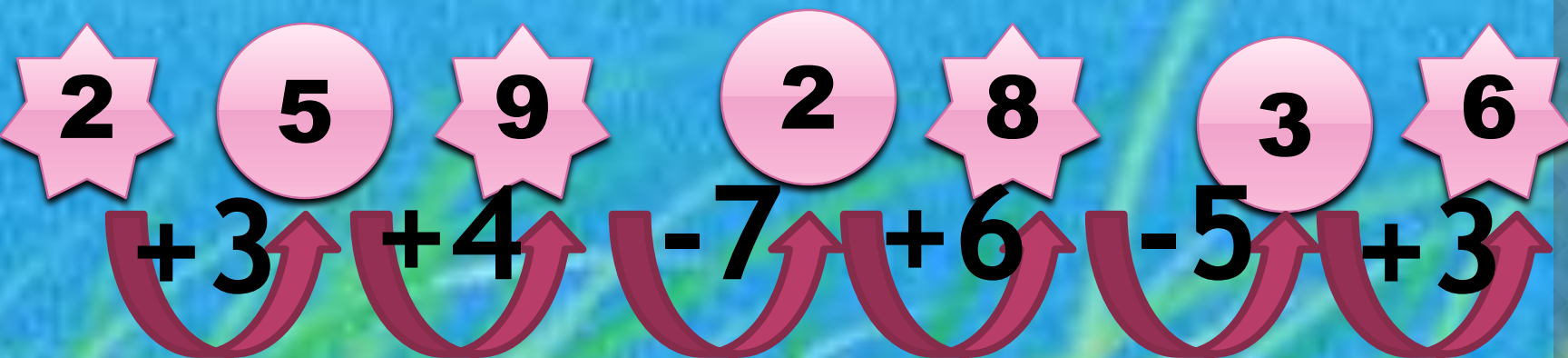
Игрунки - 6



Шимпанзе - 7



Лемур - 5



- 1
- 2
- 3
- 4
- 5
- 6
- 7
- 8
- 9
- 10

Игрунки



Игрунки – карликовые обезьянки, распространенные только в тропических лесах Западного полушария. В большинстве своем игрунки по величине не больше белки, но бывают особи размером с мышью.

Выбери ряд только с четными числами и узнаешь, какая змея является самой большой.



Анаконда – Б



Кобра – А



Питон – В

А) 2, 5, 4, 6, 7

Б) 2, 8, 4, 6, 10

В) 1, 3, 5, 7, 9

Выбери ряд только с четными числами и узнаешь, какая змея является самой большой.



Анаконда – Б



Кобра – А



Питон – В

Б) 2, 8, 4, 6, 10

Анаконда



Самая длинная анаконда, которая когда-либо встречалась людям, была длиной в **8** метров **29** сантиметров, а особи длиной **6 -7** метров встречаются очень часто.

МОЛОДЦЫ!