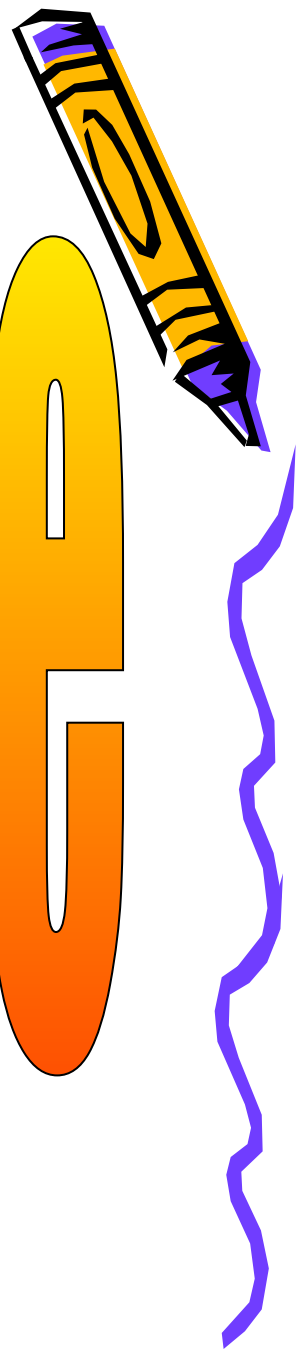




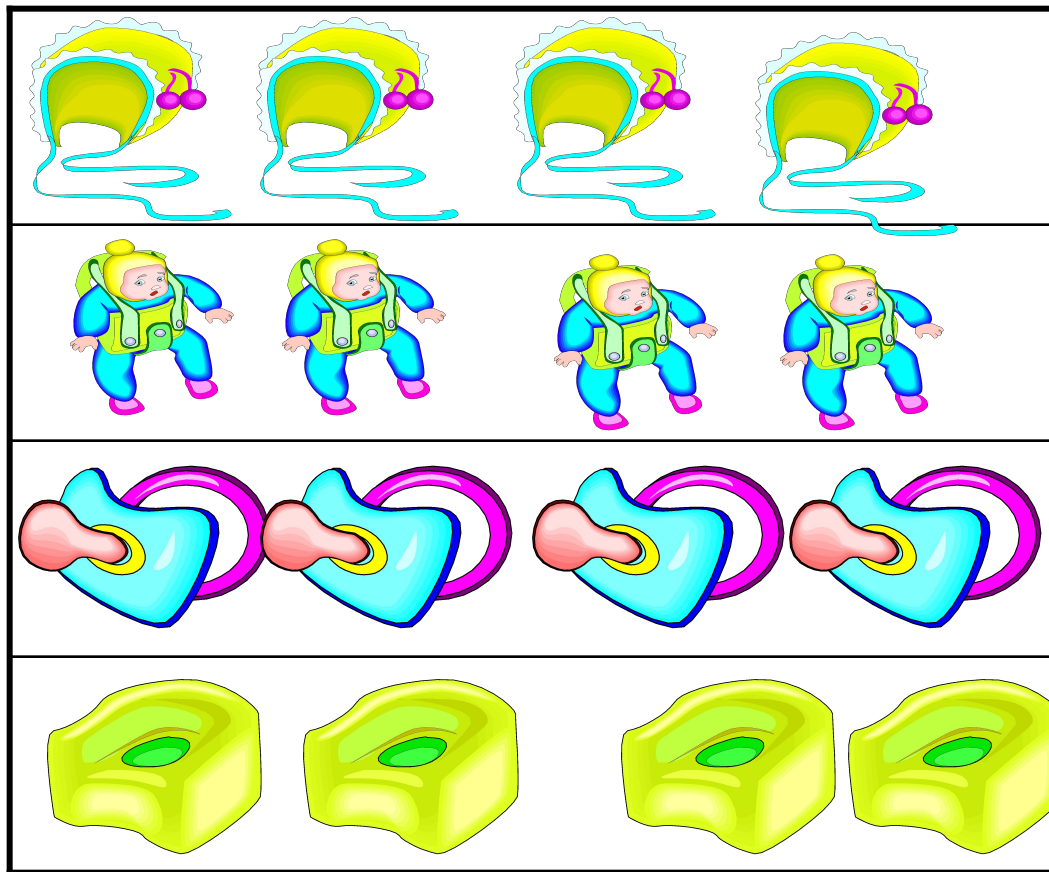
Чтоб не складывать подолгу
Числа одинаковые,
С умножением познакомьтесь,
Пользуйтесь новыми знаками!



УМНОЖЕНИЕ



Сколько игрушек?



Составь выражение




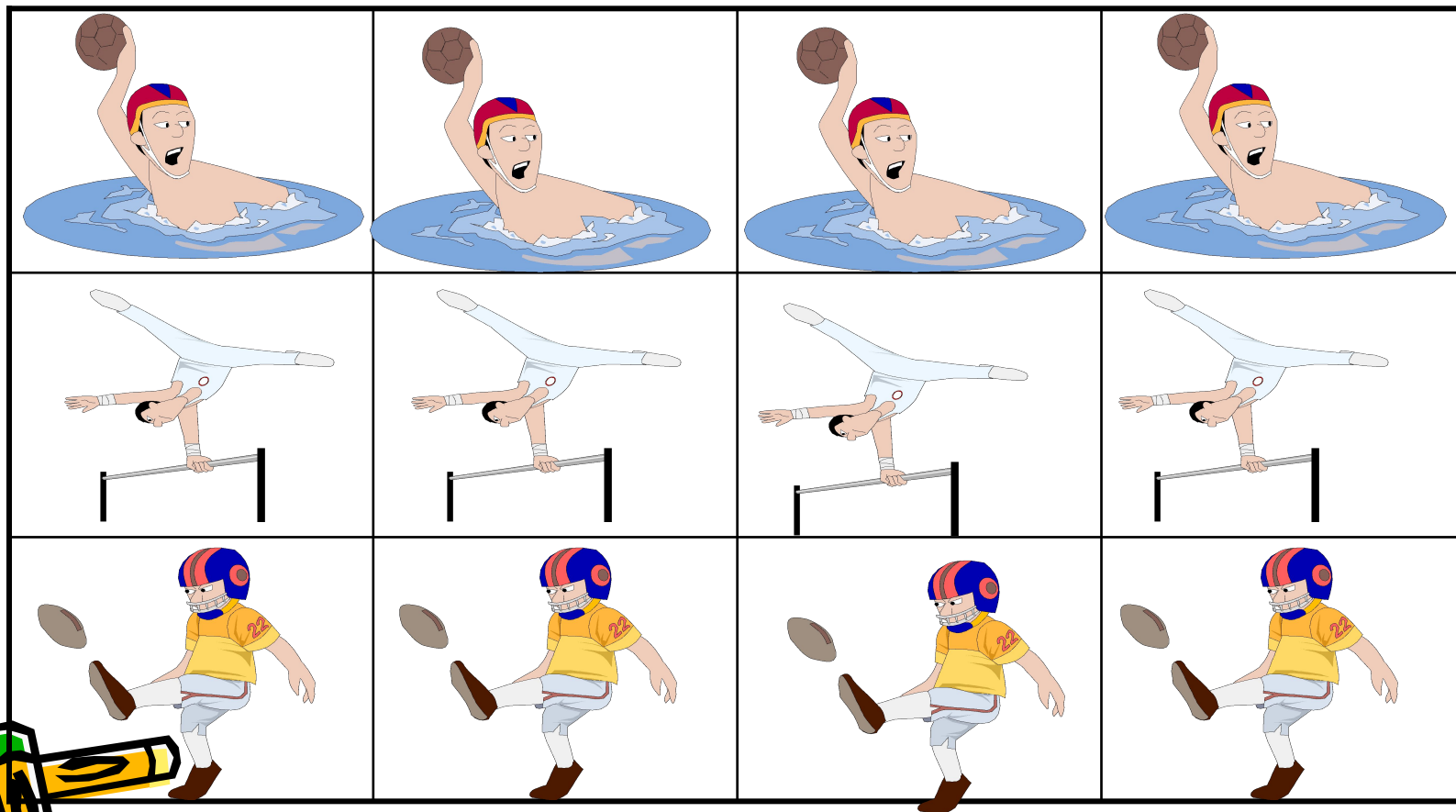
4	+	4	+	4	+	4	=	16		
---	---	---	---	---	---	---	---	----	--	--

Воспользуйся правилом:
Сложение одинаковых слагаемых
называется умножением.

4	*	4	=	16		
---	---	---	---	----	--	--



Запиши умножением




ПРОВЕРИТЬ

Сложение замени умножением

4	+	4	+	4	=	12
---	---	---	---	---	---	----

4	*	3	=	12
---	---	---	---	----



Проверь себя



$$4+4+4= 12$$

$$4*3= 12$$

$$5+5+5+5= 20$$


$$5*4= 20$$

$$3+3+3+3= 12$$

$$3*4= 12$$

$$2+2+2= 6$$

$$2*3= 6$$



Приземлись на свое место

$5+5+5$



$4+4+4+4+4$



$6+6+6+6$



$7+7$



$3+3+3+3+3+3$




$\cdot 6*4$

$\cdot 4*5$

$\cdot 5*3$

$\cdot 3*6$

$\cdot 7*2$



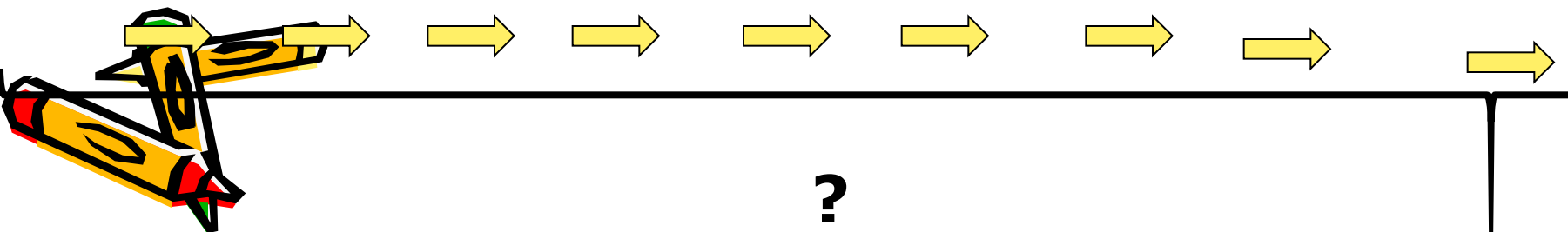


Молодцы!



Реши задачу

Вдоль дороги посадили 10 елей.
Расстояние между соседними елями
10м. Какое расстояние между
крайними елями?



Решение

$$10+10+10+10+10+10+10+10+10=90$$

$$10*9=90$$





ИГРА

«Умножение-сложение
одинаковых чисел»




Выбери правильный ответ:

$$20 * 5 = 100$$

$$\underline{20 * 4 = 60}$$

$$\underline{20 * 1 = 21}$$




В каком выражении сложение
нельзя заменить умножением?

$$15+15+15+15$$


$$\underline{23+20+23+20+23}$$

$$\underline{4+4+4+4+4+4}$$





УМНИЦЫ!



Спасибо за урок

