

Подумайте, какое число должно быть в средней клетке.

15

41

26

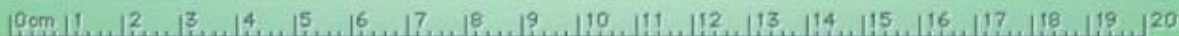
19

31

12

$$15 + 26 = 41$$

$$19 + 12 = \mathbf{31}$$



Подумайте, какое число должно быть в средней клетке.

19

18

37

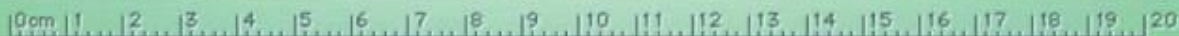
17

29

46

$$19 + 18 = 37$$

$$46 - 17 = 29$$



Подумайте, какое число должно быть в средней клетке.

51

3

17

57

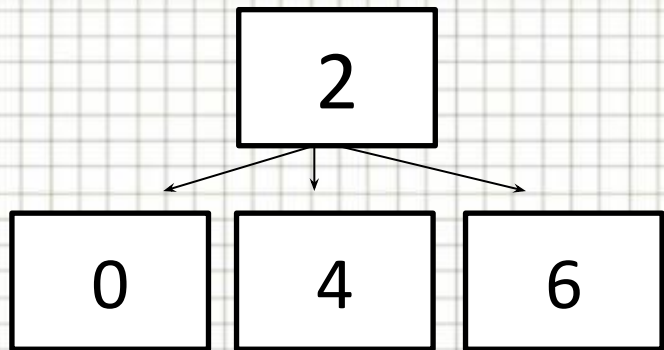
3

19

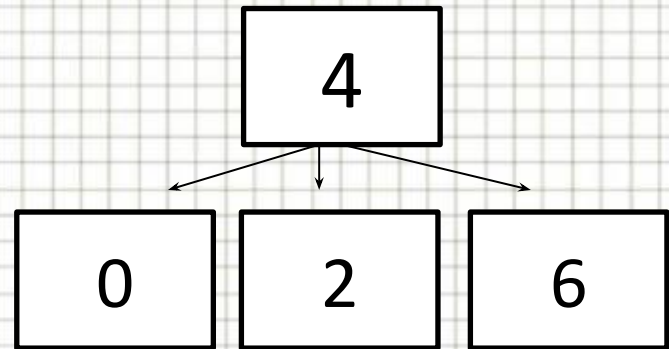
$$51 + 3 = 17$$

$$57 + 19 = \mathbf{3}$$

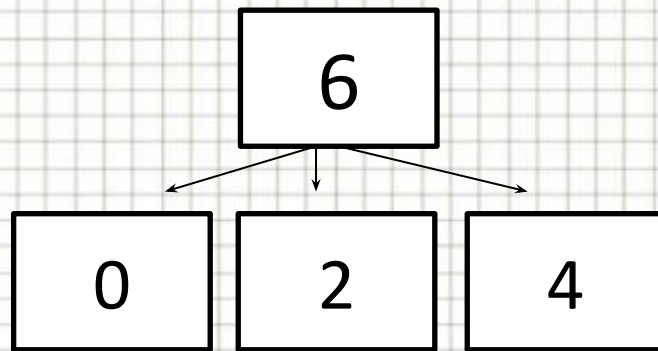




20, 24, 26



40, 42, 46



60, 62, 64



МОЛОДЦЫ



<http://aida.ucoz.ru>

