


СЛОЖЕНИЕ И ВЫЧИТАНИЕ ЧИСЕЛ В ПРЕДЕЛАХ 3.


Сидельникова Татьяна Борисовна, учитель начальных классов,
математика, 1 класс коррекционной школы VIII вида.


« ГЕОМЕТРИЧЕСКОЕ ЛОТО »






«ЦВЕТНЫЕ ПРИМЕРЫ»

$2+1=$  3

$1+1=$  2

$2-1=$  1





РЕШИТЕ ПРИМЕРЫ

$$1+1=2$$

$$2-1=1$$

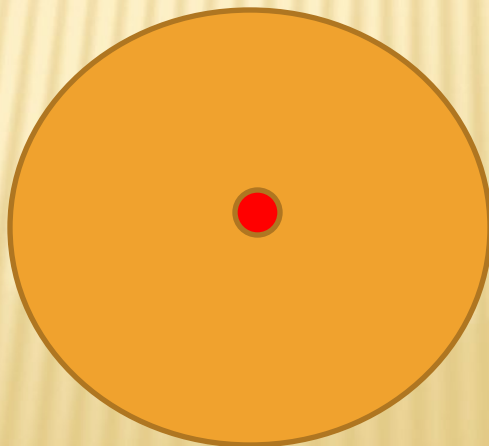
$$2+1=3$$

$$3-1=2$$

$$1+2=3$$

$$3-2=1$$

ФИЗ.МИНУТКА



РЕШИТЕ ЗАДАЧУ



$$2\text{М.} + 1\text{М.} = 3\text{М.}$$

СРАВНИТЕ ЧИСЛА

$3 > 2$


$1 < 2$

$1 < 3$

<

>

НАЧЕРТИТЕ





ХОРОШЕГО НАСТРОЕНИЯ
НА ВСЬ ДЕНЬ!

СПИСОК ЛИТЕРАТУРЫ И ИНТЕРНЕТ-РЕСУРСОВ:

1. Картинка два ежа <https://www.google.ru/>.
2. Картинка три медведя . <https://www.google.ru/>.
3. Математика для детей 5-6 лет. Методическое пособие к рабочей тетради. Е. В. Колесникова, Творческий центр, Москва, 2007.
4. Картинка два зайчика . <https://www.google.ru/>.
5. Картинка две елочки <https://www.google.ru/>.