




Устный счет №13



Реши примеры



$$15-2= \frac{1}{3}$$

$$14-4= \frac{1}{0}$$

$$16+3= \frac{1}{9}$$

$$18-10= 8$$

$$12+1= \frac{1}{3}$$

$$11+2= \frac{1}{3}$$

$$16-8= 8$$

$$13+0= \frac{1}{3}$$

$$18-8= \frac{1}{0}$$


$$3+9= \frac{1}{2}$$

$$6+7= \frac{1}{3}$$

$$13-8= 5$$



Реши задачу



Винни-Пух решил навестить ослика Иа. От дома до моста он прошел 20 метров, по мосту - 10 метров и от моста до домика Иа - еще 10 метров. Какова длина пути Винни-Пуха?

Подсказка:

