

**Внимание! Проверь, дружок!
Всё ль на месте? Всё ль в
порядке?
Книга, ручка и тетрадка?
Все ли правильно сидят?
Все ли внимательно глядят?
В математику держим путь!**

Весёлый счет



✓ Сколько солнышек на небе? 1

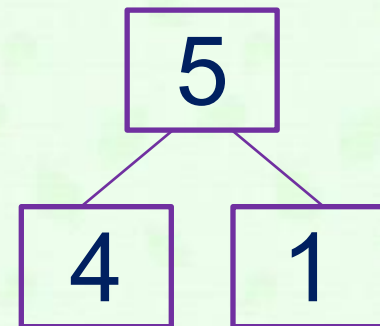
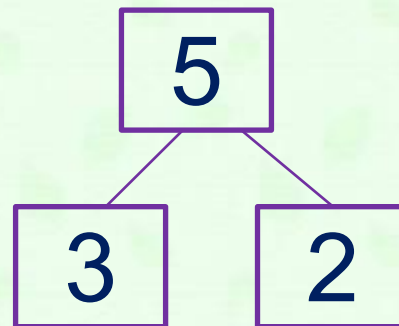
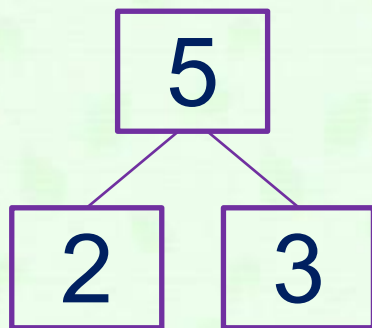
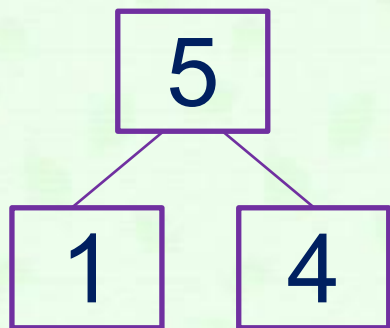
✓ Сколько огоньков у 3

светофора?
✓ Сколько глаз у 2

совы?
✓ Сколько ног у 4
лисицы?



**Какие числа
пропущены?**



Сравните числа

$$4 > 2$$

$$3 = 3$$

$$2 < 3$$

$$5 < 7$$



физкультминут ка





0



1



2



3



4

$$1 + 3 = 4$$



0



1



2



3



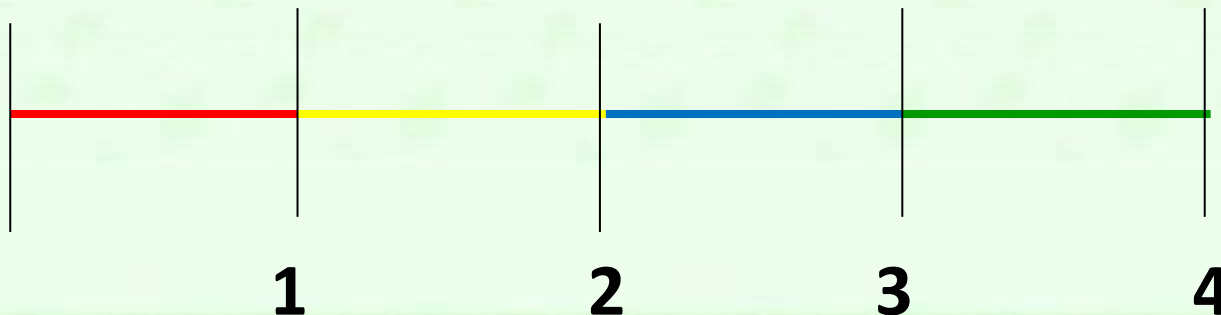
4

$$4 - 3 = 1$$

Вывод

Д:

- ✓ Числовой отрезок состоит из равных частей
- ✓ При перемещении по отрезку вправо числа увеличиваются на 1, влево – уменьшаются на 1,





1



2



3



4



$$2 + 1 = 3$$

$$3 - 1 = 2$$

• **Какое животное
может находиться
без пищи несколько
дней?**

• **2-1+3-2**

- **1 жираф**
- **2 верблюд**
- **3 носорог**



• Какой зверь самый чистоплотный ?

• 1+2+2-3

• 1 ёж

• 2 барсук

• 4 заяц



The image shows a spiral-bound notebook with a green cover and silver rings. The pages are white with faint horizontal lines. A decorative border of small green leaves runs along the top and bottom edges of the page. The word "МОЛОДЦЫ" is written in large, bold, red Cyrillic letters across the center of the page.

МОЛОДЦЫ