


# **Компетентностно-ориентированные задания как средство реализации системно – деятельностного подхода**

Салихова Р.А.  
учитель начальных классов  
МБОУ МО г. Нягань «СОШ №6» имени А.И.  
Гордиенко

# СРАВНИМ

## Традиционные задания



Назовите прогрессивные силы, участвовавшие в восстании Пугачева.

## Задания в учебниках ОС «Школа 2100»



**П**редставь, что ты – человек XXI века – оказался в числе соратников Пугачева. За какие действия восставших ты бы испытывал угрызения совести? Свое мнение объясни. (История, 7 кл.)

Перечислите основные особенности мускулатуры птиц.

**С**равните рыбу и курицу на тарелке. У кого из них мускулатура прочнее прикреплена к скелету? С чем на ваш взгляд это связано? (Биология, 7 кл.)

Что такое имя числительное?

**П**очему числительное относится к классу имен? (Русский язык, 6 кл.)

# Литературное чтение

Познавательное  
УУД

Регулятивное УУД



1. Чего не могла понять девочка?
2. Что ты можешь сказать о поступке мальчика?
3. А как ты объяснишь девочке, почему мальчик помог старушке?

# Математика

Логическое УУД

1 Отгадай слово:

$13 + 5$  Ш

$19 + 1$  О

$19 - 7$  М

$50 - 20$  К

$17 - 4$  Ы

$40 + 30$  Н

12	13	18	20	70	20	30

Познавательное  
УУД

2 Запиши и прочитай числа:

1 д.; 1 д. 3 ед.; 6 д.; 8 д.; 1 д. 7 ед.; 1 д. 9 ед.

Регулятивное УУД

3 а) Расположи числа в порядке возрастания:

20, 40, 10, 50, 80, 60.

б) Расположи числа в порядке убывания:

4, 8, 12, 18, 20, 10, 14, 2.

Познавательное  
УУД

4 Сравни  $>$ ,  $<$ ,  $=$ :

$17 \dots 10$

$7 + 3 \dots 9$

$10 \dots 10 + 1$

$20 \dots 30$

$8 - 6 \dots 4$

$9 \dots 9 - 1$


$90 \dots 9$

$5 - 5 \dots 0$

$8 \dots 8 + 0$

**Группа юных туристов из пункта А должна прибыть в пункт Б. Для ориентирования им был выдан компас, который оказался сломан.**

Смогут ли туристы обойтись без компаса? Предложите способы решения проблемы в случае положительного ответа.



**Грядку с площадью 6 кв.м нужно на ночь закрыть плёнкой.**

Сколько метров плёнки шириной 2 м необходимо купить папе, если ширина грядки полтора метра?

Сколько денег уйдёт на покупку, если цена плёнки 120 руб. ?

$60000:150 = 400$  см = 4 м –длина грядки.

Нужно купить 4 м плёнки, ширина плёнки 2 м накроет ширину грядки с запасом для крепления.

$120 \times 4 = 480$  (руб.)





# «У медведя во бору Грибы, ягоды беру...»

- Где это «во бору»?
- Как понимаете слова: ельник, березняк, дубрава?



**С НОВЫМ ГОДОМ!**

**2013**





$$2 + 0 + 1 = 3$$

2, 0, 1, 3

$$2 - 0 + 1 = 3$$

Какие выражения можно  
записать, используя все эти  
числа?

$$2 + 1 = 3$$

$$3 - 2 = 1$$

$$3 - 1 - 0 = 2$$


$$3 - 1 + 0 = 2$$



**" В слове ТРИ - 3 звука, а в слове ЧЕТЫРЕ - 4 звука," - утверждает Витя Перестукин.**

**Он прав?**

**Пятью пять – 25,  
шестью шесть – 36,  
семью семь – 47,  
восемью восемь – 58...**



**Есть три силы, заставляющие детей учиться:  
послушание, увлечение и цель. Послушание  
подталкивает, цель манит, а увлечение движет.**

**С.Л.Соловейчик**

