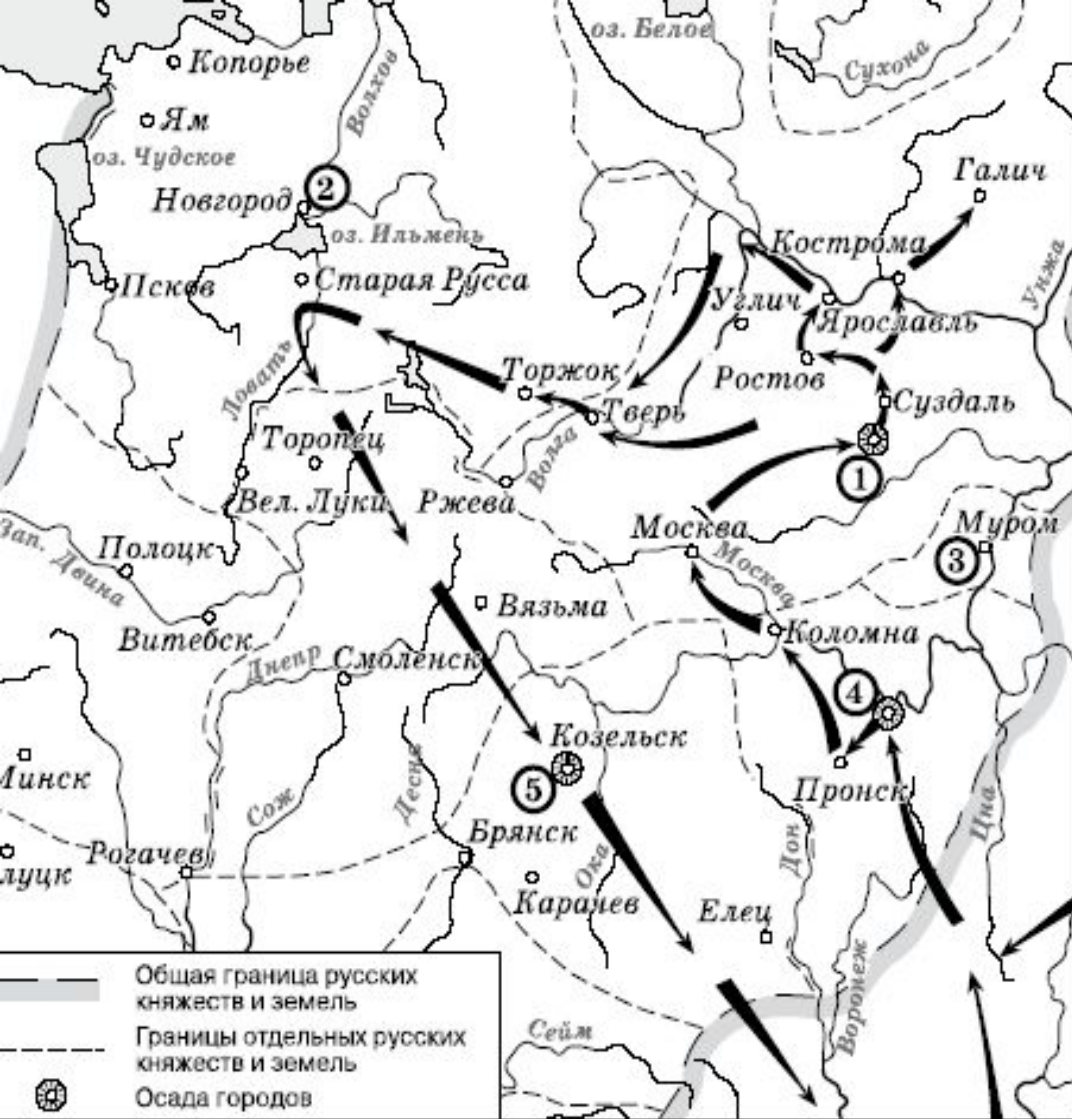




СКОРО ЕГЭ





В8. Напишите имя полководца, осуществившего поход, обозначенный на схеме стрелками.

В.9 Напишите название города, обозначенного на схеме цифрой «1».

В.10 Напишите цифру, которой обозначена земля, где в период данного похода существовала республиканская форма правления.

В.11 Какие суждения, относящиеся к событиям, обозначенным на схеме, являются верными?



Какие суждения о скульптуре, изображённой на фотографии, являются верными? Выберите два суждения из пяти предложенных. Запишите в таблицу цифры, под которыми они указаны.

- 1) скульптура была создана в период после Великой Отечественной войны**
- 2) в настоящее время скульптура находится в г. Санкт-Петербурге**
- 3) на скульптуре показаны орудия труда, изображавшиеся на гербе СССР**
- 4) автором скульптуры является П.К. Клодт**
- 5) скульптура символизировала единство рабочего класса и крестьянства**



1)



3)



2)



4)



Какое из зданий, представленных ниже, было построено в годы руководства страной того же государственного деятеля, при котором была создана данная скульптура? В ответе запишите цифру, под которой оно указано.






С 6. Ниже названы четыре исторических деятеля различных эпох. Выберите из них ОДНОГО и выполните задания.

- 1) Дмитрий Донской; 2) М.М. Сперанский;
3) У. Черчилль; 4) Н.С. Хрущёв.**

Укажите время жизни исторического деятеля (с точностью до десятилетия или части века).

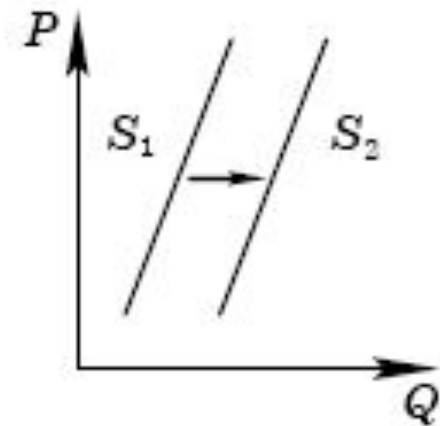
Назовите не менее двух направлений его деятельности и дайте их краткую характеристику. Укажите результаты его деятельности по каждому из названных направлений.



Обществознание

A8

На графике изображено изменение предложения роликовых коньков на потребительском рынке. Что из приведённого ниже могло вызвать сдвиг кривой предложения из положения S_1 в положение S_2 ? (На графике P – цена товара, Q – количество товара.)



- 1) сокращение количества фирм, производящих роликовые коньки
- 2) внедрение новых технологий производства роликовых коньков
- 3) рост цен на комплектующие изделия для роликовых коньков
- 4) рост тарифов на электроэнергию



В5 Прочитайте приведённый ниже текст, каждое положение которого обозначено определённой буквой.

(А) Две крупнейшие в стране энергетические компании заявили о своём слиянии. (Б) Это вызвало значительный рост курса акций большинства из этих компаний. (В) Однако вряд ли в условиях нестабильности цен на углеводородное топливо на мировом рынке рост курса акций будет иметь устойчивый характер. (Г) Акции нефтяных компаний становятся «локомотивами» фондового рынка. (Д) Акции как ценные бумаги являются представителями реального капитала и в определённой мере отражают его величину.

Определите, какие положения текста имеют

- 1) фактический характер
- 2) характер оценочных суждений
- 3) характер теоретических утверждений

Запишите в таблицу под буквой, обозначающей положение, цифру, выражающую его характер.

Ответ:

А	Б	В	Г	Д
1	1	2	2	3

С9

Выберите одно из предложенных ниже высказываний, раскройте его смысл, обозначив при необходимости разные аспекты поставленной автором проблемы (затронутой темы).

При изложении своих мыслей по поводу поднятой проблемы (обозначенной темы), при аргументации своей точки зрения используйте знания, полученные при изучении курса обществознания, соответствующие понятия, а также факты общественной жизни и собственный жизненный опыт.

С9.1	Философия	«Все наши теории – это не что иное, как обобщение опыта, наблюдаемых фактов». (В.А. Амбарцумян)
------	-----------	---

С9.2	Экономика	«Спрос и предложение – это процесс взаимного приспособления и координации». (П.Т. Хейне)
------	-----------	--

С9.3	Социология, социальная психология	«Начало личности наступает намного позже, чем начало индивида». (Б.Г. Ананьев)»
------	-----------------------------------	---

С9.4	Политология	«"Разделяй и властвуй" – мудрое правило, но "объединяй и направляй" ещё лучше». (И.В. Гёте)
------	-------------	---

С9.5	Правоведение	«Закон не знает сословных преступлений, не знает различий по кругу лиц, в среде коих совершается его нарушение. Он ко всем равно строг и равно милостив». (А.Ф. Кони)
------	--------------	---



Единые государственные экзамены:

- Определиться с экзаменами.
- Познакомиться с требованиями. fipi.ru
- Подобрать учебную литературу.
- Составить вместе с ребенком план прохождения материала.
- Осуществлять контроль за выполнением плана.

