

# КРАСНЫЙ . ЖЕЛТЫЙ . ЗЕЛЕНый .

ПЕШЕХОД

<u>1</u>
<u>2</u>
<u>3</u>
<u>4</u>
<u>5</u>
<u>6</u>
<u>7</u>
<u>8</u>
<u>9</u>
<u>10</u>

ПАССАЖИР

<u>1</u>
<u>2</u>
<u>3</u>
<u>4</u>
<u>5</u>
<u>6</u>
<u>7</u>
<u>8</u>
<u>9</u>
<u>10</u>

ДОРОЖНЫЕ ЗНАКИ  
И РЕГУЛИРОВЩИК

<u>1</u>
<u>2</u>
<u>3</u>
<u>4</u>
<u>5</u>
<u>6</u>
<u>7</u>
<u>8</u>
<u>9</u>
<u>10</u>


# Что должен сделать пешеход при данном сигнале регулировщика?



Стоять на месте, это сигнал «Внимание всем»



Этот сигнал разрешает двигаться пешеходам со всех сторон.



ПРАВИЛЬНЫЙ  
ОТВЕТ



- Стоять на месте, это сигнал «Внимание всем»



# О чем говорит данный дорожный знак пешеходу?



Здесь можно перейти  
дорогу



Это место для пешеходов  
(тротуар), переходить  
дорогу здесь нельзя



ПРАВИЛЬНЫЙ  
ОТВЕТ



Это пешеходная дорожка  
(тротуар), переходить  
дорогу здесь нельзя



4.5

Пешеходная  
дорожка



# В какой момент можно спросить у водителя маршрутного автобуса когда будет нужна вам остановка?



В любой удобный для вас момент



Только на остановке.

ПРАВИЛЬНЫЙ  
ОТВЕТ



Только на остановке.



# Почему проезжую часть нужно переходить только под прямым углом к линии тротуара?



Так вы контролируете проезжую часть справа и слева.



Так дорога короче

**ПРАВИЛЬНЫЙ  
ОТВЕТ**





- Так вы контролируете проезжую часть справа и слева



# По какой стороне обочины должен идти пешеход при отсутствии тротуара?



По левой стороне –  
навстречу транспортному  
движению.



По той стороне, где вам  
удобно.

**ПРАВИЛЬНЫЙ  
ОТВЕТ**



По левой стороне –  
навстречу  
транспортному  
движению.



# Какие предметы нельзя перевозить в автобусе?



Детские коляски, лыжи,  
домашних животных.



Колющие, режущие,  
огнеопасные,  
пачкающиеся.

ПРАВИЛЬНЫЙ  
ОТВЕТ




Колющие, режущие,  
огнеопасные,  
пачкающиеся.



# Что означает данный дорожный знак?



Впереди школа или детский сад, могут на дороге появиться внезапно дети.



Здесь можно играть детям.



ПРАВИЛЬНЫЙ  
ОТВЕТ



Впереди школа или  
детский сад, могут на  
дороге появиться  
внезапно дети.



1.23  
Дети



# На какое расстояние должна хорошо просматриваться дорога в обе стороны?



10-50метров.




100 -150 метров

**ПРАВИЛЬНЫЙ  
ОТВЕТ**





100 -150 метров



Автобус с пассажирами и легковой автомобиль едут со скоростью 60 км/ч. Кто быстрее остановится?



Легковой автомобиль



Автобус с пассажирами.

ПРАВИЛЬНЫЙ  
ОТВЕТ



Легковой автомобиль.



# должен принять пешеход при движении по обочине в темное время суток?



Светить фонарем или одеть  
одежду со  
световозвращателями.



Идти как можно дальше  
от проезжей части

**ПРАВИЛЬНЫЙ  
ОТВЕТ**




Светить фонарем или одеть  
одежду со  
световозвращателями.



# Где появился первый пешеходный переход типа «Зебра».



В России в 1951 году.



В Лондоне в 1951 году.

**ПРАВИЛЬНЫЙ  
ОТВЕТ**



В Лондоне в 1951 году



# В каком случае можно переходить дорогу без пешеходного перехода?



Только при достаточной видимости в обе стороны и отсутствии в зоне видимости перехода и перекрестка



Только при отсутствии ограждений и движущегося транспорта.

**ПРАВИЛЬНЫЙ  
ОТВЕТ**






Только при достаточной  
видимости в обе стороны  
и отсутствии в зоне  
видимости перехода и  
перекрестка



Как называется расстояние, пройденное автомобилем с момента срабатывания тормозов и до полной остановки машины?



Остановочный путь  
автомобиля



Тормозной путь  
автомобиля.

ПРАВИЛЬНЫЙ  
ОТВЕТ



# Тормозной путь автомобиля



Кто из перечисленных ниже лиц не является участником дорожного движения?



Дорожные рабочие



Пешеходы

ПРАВИЛЬНЫЙ  
ОТВЕТ

# Дорожные рабочие



Дорожные рабочие



# Почему нельзя останавливаться в непосредственной близости от проходящего автомобиля?



Проезжающий мимо автомобиль может обрызгать вас из лужи.



Выступающие детали машины могут зацепить вас за одежду.



**ПРАВИЛЬНЫЙ  
ОТВЕТ**

Выступающие детали машины могут зацепить вас за одежду.



Выступающие  
детали машины  
могут зацепить вас  
за одежду.



# Где нужно ожидать общественный транспорт?



На специально оборудованных остановках.



На краю проезжей части.


**ПРАВИЛЬНЫЙ  
ОТВЕТ**



На специально оборудованных остановках.



На специально  
оборудованных  
остановках.



# Как вести себя при обнаружении бесхозного предмета в общественном транспорте?



Посмотреть что внутри?



Сообщить водителю

**ПРАВИЛЬНЫЙ  
ОТВЕТ**

Сообщить водителю



Сообщить водителю



# Обязательно ли пристегивать ремень безопасности если в автомобиле есть подушки безопасности?



Да



Нет

**ПРАВИЛЬНЫЙ  
ОТВЕТ**

Да



Да



# При выходе из автобуса Вам нужно перейти на противоположную сторону проезжей части. Как это сделать?



Подождать пока автобус уедет или обойти его сзади



Перед автобусом

**ПРАВИЛЬНЫЙ  
ОТВЕТ**

Подождать пока автобус уедет или обойти его сзади



Подождать пока автобус уедет или обойти его сзади



# При пожаре в вагоне поезда выход к первому вагону отрезан. Ваши действия?



Немедленно выпрыгнуть  
из поезда или нажать  
стоп кран



Уходить в последний вагон  
поезда закрывая за собой все  
окна и двери.

**ПРАВИЛЬНЫЙ  
ОТВЕТ**



Уходить в последний вагон поезда закрывая за собой все окна и двери.



Уходить в последний вагон поезда закрывая за собой все окна и двери.



# В каких случаях людям можно ехать в грузовом автомобиле?



Если он для этого оборудован



Если необходимо срочно поехать

**ПРАВИЛЬНЫЙ  
ОТВЕТ**

Если он для этого оборудован



Если он для этого  
оборудован



# С какого возраста можно ездить на переднем сиденье автомобиля?



С 14 лет



С 12 лет

ПРАВИЛЬНЫЙ  
ОТВЕТ

С 12 лет



С 12 лет



# Если сигналы регулировщика противоречат светофору. Чьи сигналы надо выполнять?



Регулировщика



Светофора

**ПРАВИЛЬНЫЙ  
ОТВЕТ**

Регулировщика



Регулировщика



# Где был изобретен первый светофор?



10 декабря 1868 года в  
России



10 декабря 1868 года в  
Лондоне

**ПРАВИЛЬНЫЙ  
ОТВЕТ**





10 декабря 1868 года в  
Лондоне



# Можно ли переходить дорогу под данным знаком?



Да



Нет



ПРАВИЛЬНЫЙ  
ОТВЕТ

Да



Да



5.19.1

5.19.2

Пешеходный переход



# Разрешено ли движение пешеходов по автомагистралям?



Да




Нет



ПРАВИЛЬНЫЙ  
ОТВЕТ

Нет



Нет



5.1


Автоматристраль



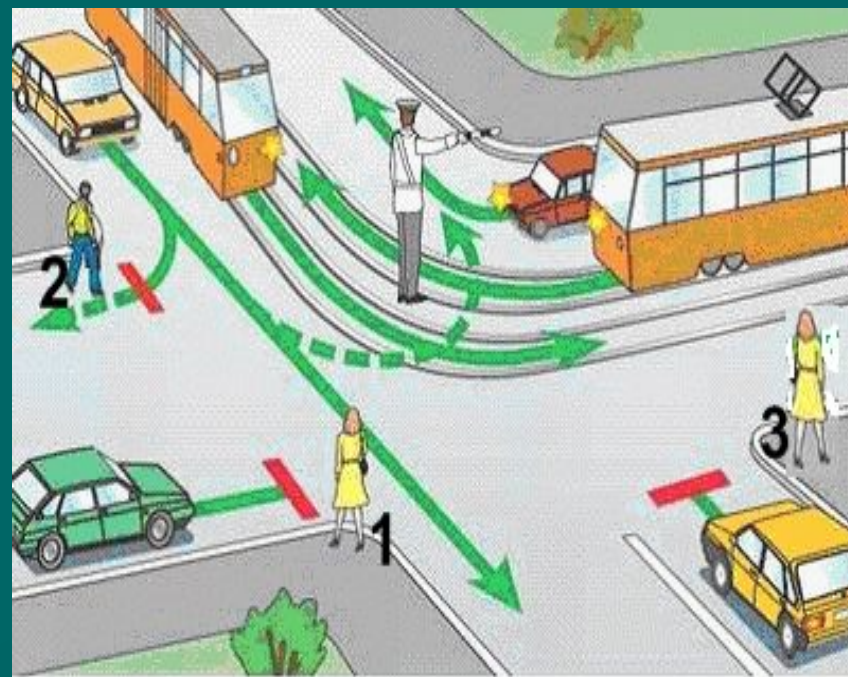
# Какие из пешеходов могут пересекать проезжую часть при данном сигнале регулировщика?



3



1,2

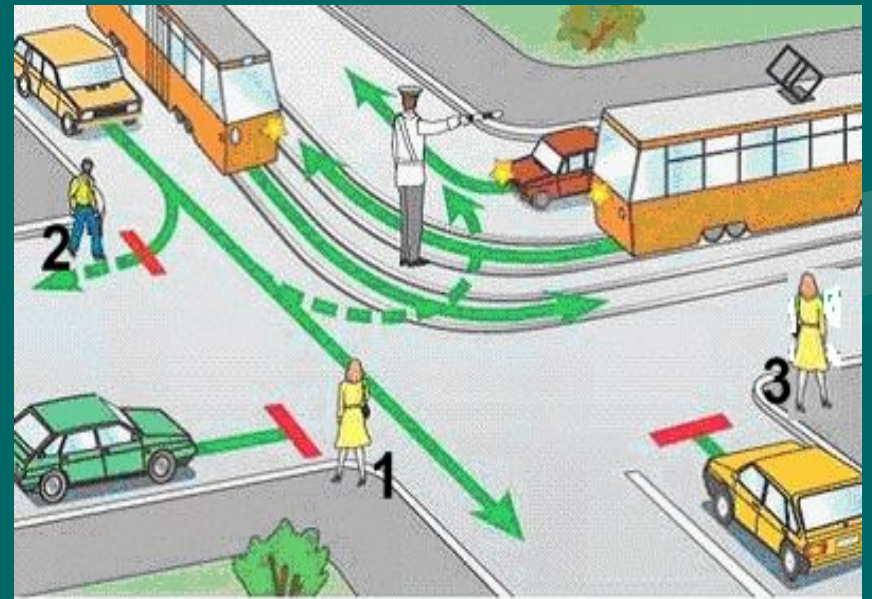


ПРАВИЛЬНЫЙ  
ОТВЕТ

1,2



1,2



# Кто такой регулировщик?



Сотрудник полиции, работник  
должно - эксплуатационной  
службы.



Человек с жезлом в руке

ПРАВИЛЬНЫЙ  
ОТВЕТ



Сотрудник полиции, работник должно - эксплуатационной службы.



Сотрудник полиции, работник  
должно - эксплуатационной  
службы.



# Какой общественный транспорт МОЖНО ДОЖДАТЬСЯ на остановке по данным знаком?



Троллейбус



Трамвай



ПРАВИЛЬНЫЙ  
ОТВЕТ

Трамвай



Трамвай



5.17  
Место остановки  
трамвая



# Кто такой пассажир?




Лицо находящееся в транспортном средстве



Лицо, кроме водителя, находящееся в транспортном средстве.

ПРАВИЛЬНЫЙ  
ОТВЕТ

Лицо, кроме водителя, находящееся в транспортном средстве.



Лицо, кроме водителя,  
находящееся в  
транспортном средстве.

