



*Возрастной и половой состав населения.
Тренажёр и проверочный тест.
10 класс*

Жидовкина Галина Петровна
учитель географии МБОУ "СОШ №3"
г.Дальнереченск



Дорогой друг!

Его первый уровень представляет собой тренажёр, с помощью которого ты можешь вспомнить особенности возрастного и полового состава стран современного мира и усовершенствовать свои умения и навыки.

Второй уровень – проверочный тест по теме, за который ты получишь отметку.

Надеемся, что эти занятия помогут тебе успешно совершенствовать знания по географии.

Желаем удачи!

[Перейти к тренажёру](#)

[Перейти к тесту](#)

Инструкция по работе с учебным тренажёром

1. Каждое задание имеет 4 варианта ответа. Ты должен выбрать один правильный.
2. Если ты выбрал правильный ответ, появится **«ПЛЮС»**.
3. Если ты выбрал неверный ответ, появится **«МИНУС»**.
4. Переход к следующему заданию осуществляется по кнопке внизу.

Желаем удачи!



В какой из перечисленных стран доля детей в возрастной структуре населения наибольшая?



Эфиопия



США







Германия



Россия



Укажите строку, где доля детей в возрастной структуре населения наибольшая?

- Болгария, Швеция, Румыния. 
- Россия, Польша, Италия. 
- Бразилия, Индия, Мексика. 
- Канада, Германия, Великобритания. 



В какой из перечисленных стран доля пожилых людей в возрастной структуре населения наибольшая?



Пакистан



Швейцария



Мьянма



Индонезия



В какой из перечисленных стран преобладают мужчины:

Нидерланды



Дания



Бельгия



Саудовская Аравия



В какой из перечисленных стран преобладают женщины:



Китай



Кувейт




Франция



Индия



В какой из перечисленных стран доля детей в возрастной структуре населения наименьшая?

- США, Эфиопия и Бразилия** 
- США, Япония и Германия** 
- Канада, Япония и Мексика** 
- Австралия, Бразилия и Турция** 







В каком регионе доля детей в возрастной структуре населения наибольшая?

- Африка 
- Зарубежная Азия 
- Зарубежная Европа 
- Латинская Америка 



В какой из стран показатель младенческой смертности наибольший?

- Кувейт 
- Эфиопия 
- Турция 
- Бразилия 



В какой из перечисленных стран доля детей в возрастной структуре населения наибольшая?

Италия, Испания и Португалия



Швеция, Австрия и Германия



Турция, Кения, Йемен



Канада, США и Греция



Укажите пару стран, где доля лиц пожилого возраста в возрастной структуре населения наибольшая?

Индия и Индонезия



Кувейт и ОАЭ



Бразилия и Колумбия



Греция и Португалия



Как ты оцениваешь свою работу на тренажёре?

Знания отличные! Перехожу к тесту!

**Было много ошибок, необходимо поработать с
правилом.**



Инструкция по работе с тестом




1. Проверочный тест состоит из 10 заданий. Каждое задание имеет 4 варианта ответа, один из которых - правильный.
2. Прежде чем нажимать переключатель, хорошо подумай, потому что, ответив, ты перейдёшь к следующему вопросу и не сможешь внести изменения в свой ответ.
3. Чтобы узнать свой результат, нажми на кнопку **«Результат»**. Ты увидишь общее число верных ответов, отметку за тест и таблицу результатов по каждому вопросу.
4. Ты можешь просмотреть свои ошибки, нажав на соответствующую кнопку. Переход от слайда к слайду в режиме просмотра ошибок важно производить по кнопкам в нижнем правом углу слайда.
5. Если хочешь повторить тест, то обнули результат (кнопка «Сброс результатов») и нажми на кнопку «Повторить тест».



Укажите пару стран, где доля детей в возрастной структуре населения наибольшая?

Алжир и Пакистан 

Франция и Чехия 

Италия и Австралия 

США и Испания 



В какой из перечисленных стран доля лиц пожилого возраста в возрастной структуре населения наибольшая?



Венесуэла



Турция







Лаос



Швеция



Выделите пару стран, в которых преобладают мужчины:

- США и Япония** 
- Япония и Китай** 
- Китай и Индия** 
- Индия и США** 



В какой из перечисленных паре стран доля детей в возрастной структуре населения наибольшая?



Бельгия и Австрия



Нигерия и Турция



Аргентина и Венгрия



Канада и Япония



В какой из перечисленных стран доля лиц пожилого возраста в возрастной структуре населения наибольшая?



Мексика и Бразилия



Китай и Индия



Венгрия и Испания




Ангола и Нигерия



В какой из перечисленных стран доля пожилых людей в возрастной структуре населения наибольшая?

Пакистан 

Дания 

Кувейт 

Лаос 



В какой из перечисленных стран доля детей в возрастной структуре населения наименьшая?

Филиппины



Мексика



Германия



Ирак



В какой из перечисленных стран доля детей в возрастной структуре населения наибольшая?



Австралия



Индонезия



Норвегия



США



В какой из перечисленных стран доля пожилых людей в возрастной структуре населения наибольшая?



Япония



Китай



Мексика



Индия



В какой из перечисленных стран доля детей в возрастной структуре населения наибольшая?



Россия



Франция



Япония



Индия



Подведём итоги

Верных ответов

Отметка

1	2	3	4	5	6	7	8	9	10
<u>В</u>	<u>В</u>	<u>В</u>	<u>В</u>	<u>В</u>	<u>В</u>	<u>В</u>	<u>В</u>	<u>В</u>	<u>В</u>

Просмотр ошибок

Литература:

1. http://it-n.ru/communities.aspx?cat_no=130742&tmpl=com
[Захарова Т.А., Байдакова Т.Б. Шаблон учебного тренажёра и проверочного теста.](#)
2. [ЕГЭ - 2012 География: Тематические тренировочные варианты: 21 вариант: 9-11 классы/под ред. В.В. Барабанова.-М.: Национальное образование, 2011.](#)

