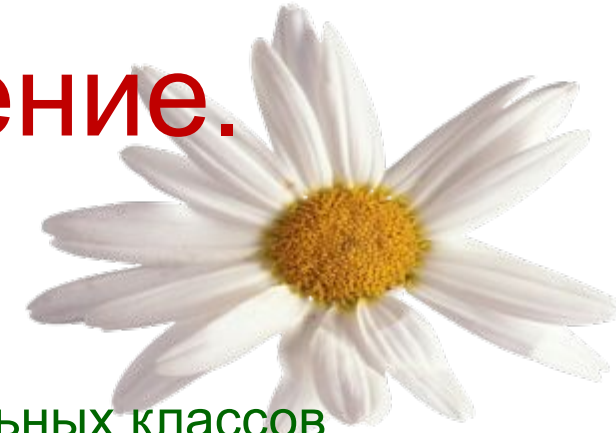


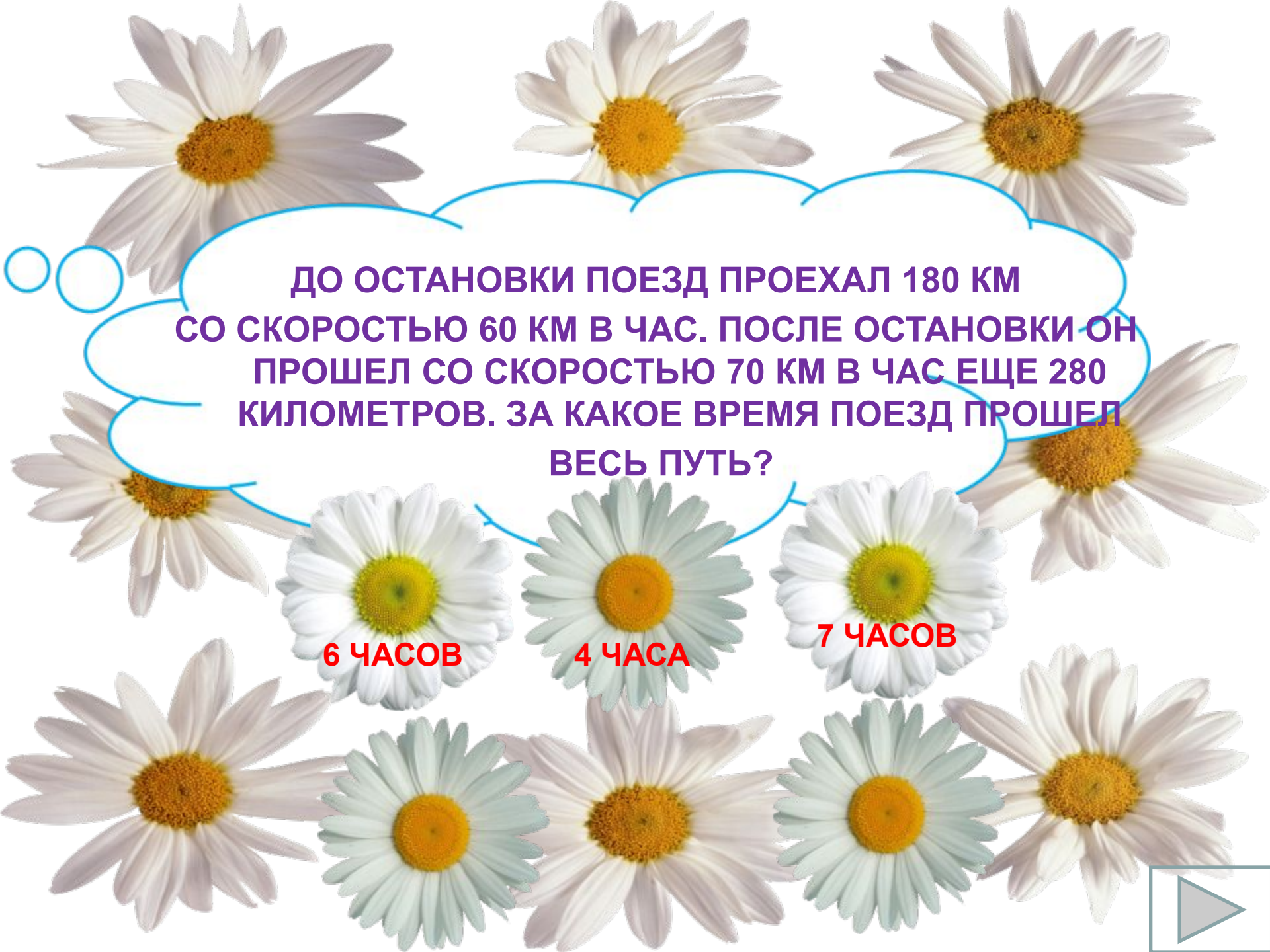


# Задачи на движение. 4 класс



Презентацию составила учитель начальных классов  
МБОУ «Мамыковская СОШ» Нурлатского района РТ  
Пономаренко Анна Николаевна






ДО ОСТАНОВКИ ПОЕЗД ПРОЕХАЛ 180 КМ  
СО СКОРОСТЬЮ 60 КМ В ЧАС. ПОСЛЕ ОСТАНОВКИ ОН  
ПРОШЕЛ СО СКОРОСТЬЮ 70 КМ В ЧАС ЕЩЕ 280  
КИЛОМЕТРОВ. ЗА КАКОЕ ВРЕМЯ ПОЕЗД ПРОШЕЛ  
ВСЕ ПУТЬ?

6 ЧАСОВ

4 ЧАСА

7 ЧАСОВ






**ОТ ДОМА ДО ЛЕСА ЛЫЖНИК ШЕЛ 2 ЧАСА СО СКОРОСТЬЮ 8 КМ/ЧАС. ПО ЛЕСУ ОН ШЕЛ СО СКОРОСТЬЮ 7 КМ/ЧАС. СКОЛЬКО ВРЕМЕНИ ОН ШЕЛ ПО ЛЕСУ, ЕСЛИ ВСЕГО ПРОШЕЛ 37 КМ**

**3 ЧАСА**

**2 ЧАСА**

**4 ЧАСА**




**САМОЛЕТ ЗА ТРИ ЧАСА ПРОЛЕТЕЛ 960 КМ, А  
АВТОМОБИЛЬ ЗА 5 ЧАСОВ ПРОЕХАЛ 400 КМ. ВО СКОЛЬКО  
РАЗ СКОРОСТЬ САМОЛЕТА БОЛЬШЕ СКОРОСТИ  
АВТОМОБИЛЯ?**

4

8

3





С ЦВЕТКА ОДНОВРЕМЕННО В ПРОТИВОПОЛОЖНЫХ НАПРАВЛЕНИЯХ ПОЛЕТЕЛИ ДВЕ ЗЛАТОГЛАЗКИ. ЧЕРЕЗ 7 С РАССТОЯНИЕ МЕЖДУ НИМИ БЫЛО 826 СМ. НАЙДИ СКОРОСТЬ ОДНОЙ ИЗ ЗЛАТОГЛАЗОК, ЕСЛИ СКОРОСТЬ ДРУГОЙ 60 СМ/С?

58

48

46

56




**ЛЫЖНИКИ ШЛИ 5 ЧАСОВ СО  
СКОРОСТЬЮ 15 КМ/Ч. СКОЛЬКО КМ  
ПРОШЛИ ТУРИСТЫ?**

**5км**

**75км**

**3км**



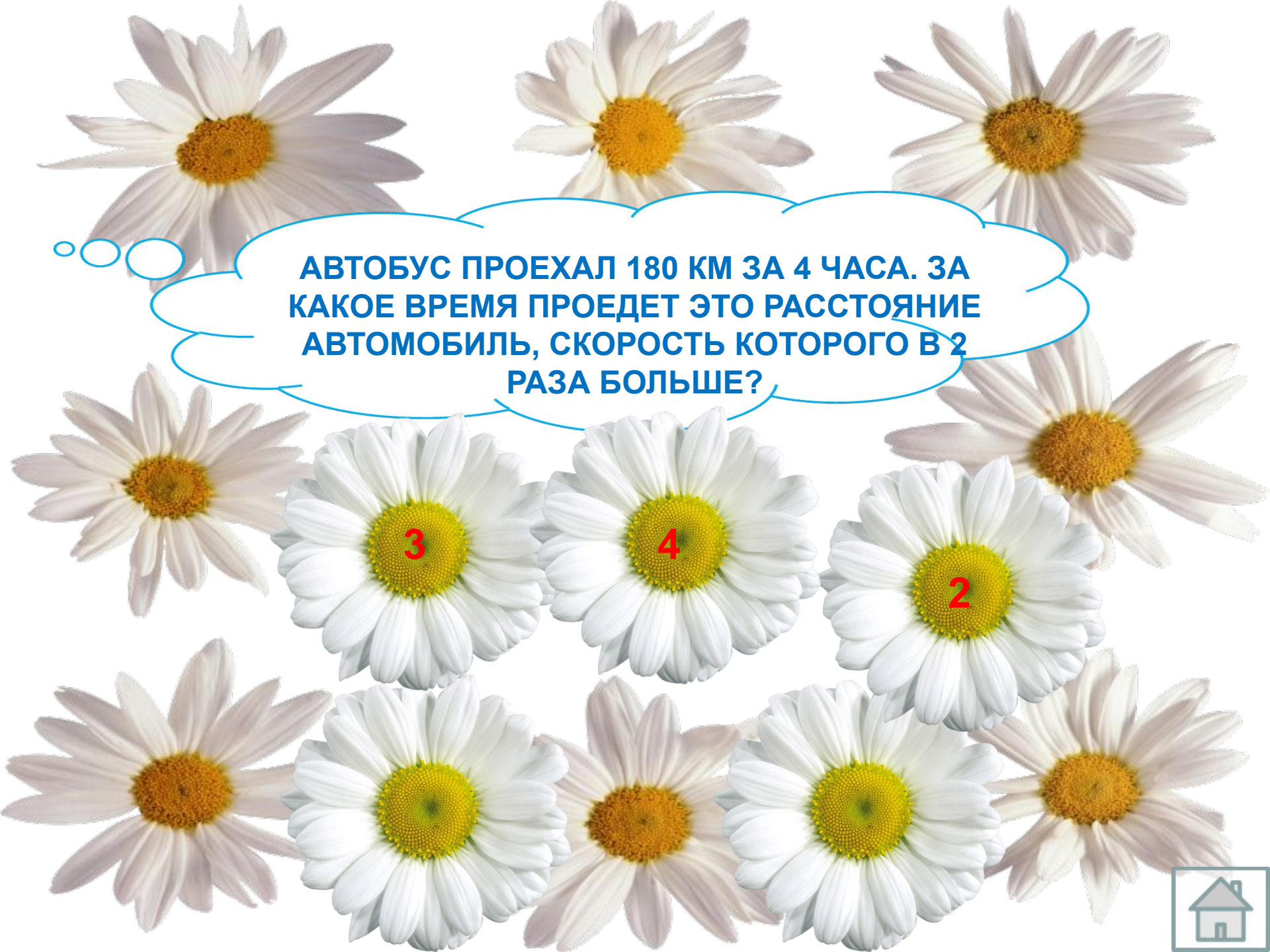


СЛОН ШЕЛ ОБЫЧНЫМ ШАГОМ СО СКОРОСТЬЮ 6 КМ В ЧАС, ОН ПРОШЕЛ 18 КМ. СКОЛЬКО КИЛОМЕТРОВ ПРОБЕЖИТ ЗА ЭТО ЖЕ ВРЕМЯ ДРУГОЙ СЛОН, ЕСЛИ ОН БУДЕТ ДВИГАТЬСЯ СО СКОРОСТЬЮ 14 КМ В ЧАС?

42км

48км

3часа



**АВТОБУС ПРОЕХАЛ 180 КМ ЗА 4 ЧАСА. ЗА  
КАКОЕ ВРЕМЯ ПРОЕДЕТ ЭТО РАССТОЯНИЕ  
АВТОМОБИЛЬ, СКОРОСТЬ КОТОРОГО В 2  
РАЗА БОЛЬШЕ?**


3

4

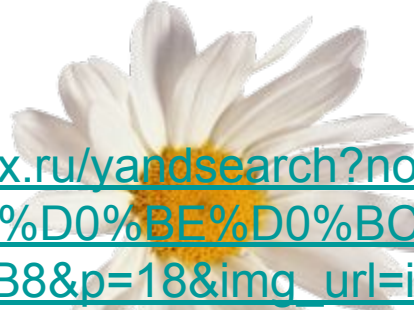
2







[http://images.yandex.ru/yandsearch?noreask=1&lr=43&ed=1&text=%D1%80%D0%BE%D0%BC%D0%B0%D1%88%D0%BA%D0%B8&p=18&img\\_url=irussia987.ru%2Ffiles%2Fq.jpg&rpt=simage](http://images.yandex.ru/yandsearch?noreask=1&lr=43&ed=1&text=%D1%80%D0%BE%D0%BC%D0%B0%D1%88%D0%BA%D0%B8&p=18&img_url=irussia987.ru%2Ffiles%2Fq.jpg&rpt=simage) – ромашка




[http://images.yandex.ru/yandsearch?noreask=1&lr=43&ed=1&text=%D1%80%D0%BE%D0%BC%D0%B0%D1%88%D0%BA%D0%B0&img\\_url=i062.radikal.ru%2F0912%2F63%2F597f998f9337.png&rpt=simage&p=294](http://images.yandex.ru/yandsearch?noreask=1&lr=43&ed=1&text=%D1%80%D0%BE%D0%BC%D0%B0%D1%88%D0%BA%D0%B0&img_url=i062.radikal.ru%2F0912%2F63%2F597f998f9337.png&rpt=simage&p=294) –

ромашка



[http://images.yandex.ru/yandsearch?noreask=1&lr=43&ed=1&text=%D1%80%D0%BE%D0%BC%D0%B0%D1%88%D0%BA%D0%B0&p=695&img\\_url=s.rpod.ru%2Fdata%2Fpictures%2F00%2F00%2F01%2F81%2F58%2F351d2d615c622cc8c43f9e5a198aa425.jpg&rpt=simage](http://images.yandex.ru/yandsearch?noreask=1&lr=43&ed=1&text=%D1%80%D0%BE%D0%BC%D0%B0%D1%88%D0%BA%D0%B0&p=695&img_url=s.rpod.ru%2Fdata%2Fpictures%2F00%2F00%2F01%2F81%2F58%2F351d2d615c622cc8c43f9e5a198aa425.jpg&rpt=simage) –

ромашка



[http://images.yandex.ru/yandsearch?rpt=simage&img\\_url=img0.liveinternet.ru%2Fimages%2Fattach%2Fc%2F2%2F69%2F312%2F69312481\\_1295169435\\_1.jpg&ed=1&text=%D0%B1%D0%B0%D0%B1%D0%BE%D1%87%D0%BA%D0%B8&p=91](http://images.yandex.ru/yandsearch?rpt=simage&img_url=img0.liveinternet.ru%2Fimages%2Fattach%2Fc%2F2%2F69%2F312%2F69312481_1295169435_1.jpg&ed=1&text=%D0%B1%D0%B0%D0%B1%D0%BE%D1%87%D0%BA%D0%B8&p=91) - бабочка