



**Человек – мера всех вещей**



Рис 2




Рис 4



Рис 7



Храм богу Зевсу



Храм богине охоты Артемиде



[www.shutterstock.com](http://www.shutterstock.com) · 5844130

Какую тему мы сегодня  
будем изучать?

**Образ  
архитектуры  
Древней**



# Цель урока

Выявление характерных черт греческой архитектуры

## Задачи:

познакомиться с архитектурными сооружениями Древней Греции;  
определить основные архитектурные элементы;  
найти отражение мироощущения древних греков в их архитектуре.


Назовите общие черты увиденных  
и отобранных вами сооружений

- ФУНДАМЕНТ
- КОЛОННЫ
- ФРОНТОН
- ДВУХСКАТНАЯ КРЫША

**В основе строительства лежала стоечное  
– балочная система**

# Столбчатая – балочная система

- Покажите любым доступным способом принцип этой системы
- Части храма разделялись на несомые и несущие.



# Сравните два сооружения



Парфенон




Санта – Мария

# Сравните два сооружения



Парфенон



Кельнский собор

# Черты греческой архитектуры

- Уравновешенность
- Спокойствие
- Соразмерность

Почему сооружения древних греков  
вызывают ощущение уравновешенности,  
покоя?

# Прочитайте текст 1

- Как называли греки окружающий мир?
- Что придает космосу красоту?
- Как можно перевести слово «космос»?
- Что было главное для греков в окружающем мире?

# Попытайтесь найти в здании составные части Космоса






## Задание 2

- Соотнесите изображение людей с изображением храмов, чем они похожи?
- Опишите внешнее строение греческого храма


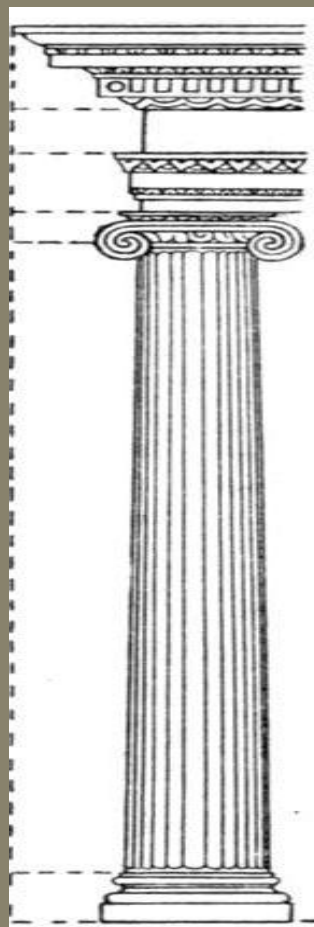
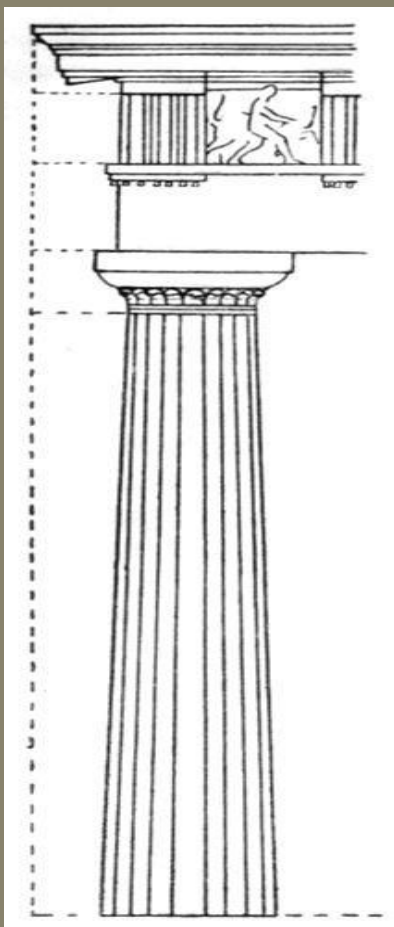
Ордер – система соотношений  
между частями здания.

- Познакомьтесь с главными элементами  
греческого ордера.

(Приложение 1-2)




# Виды ордеров



I ряд

Сравните женщину и ионический храм и найдите общие и отличительные черты? Какое архитектурное решение подсказывает это сравнение?





spbfoto.spbfoto.ru

fisnyak.ru



# Сходство тела человека и ствола КОЛОННЫ.

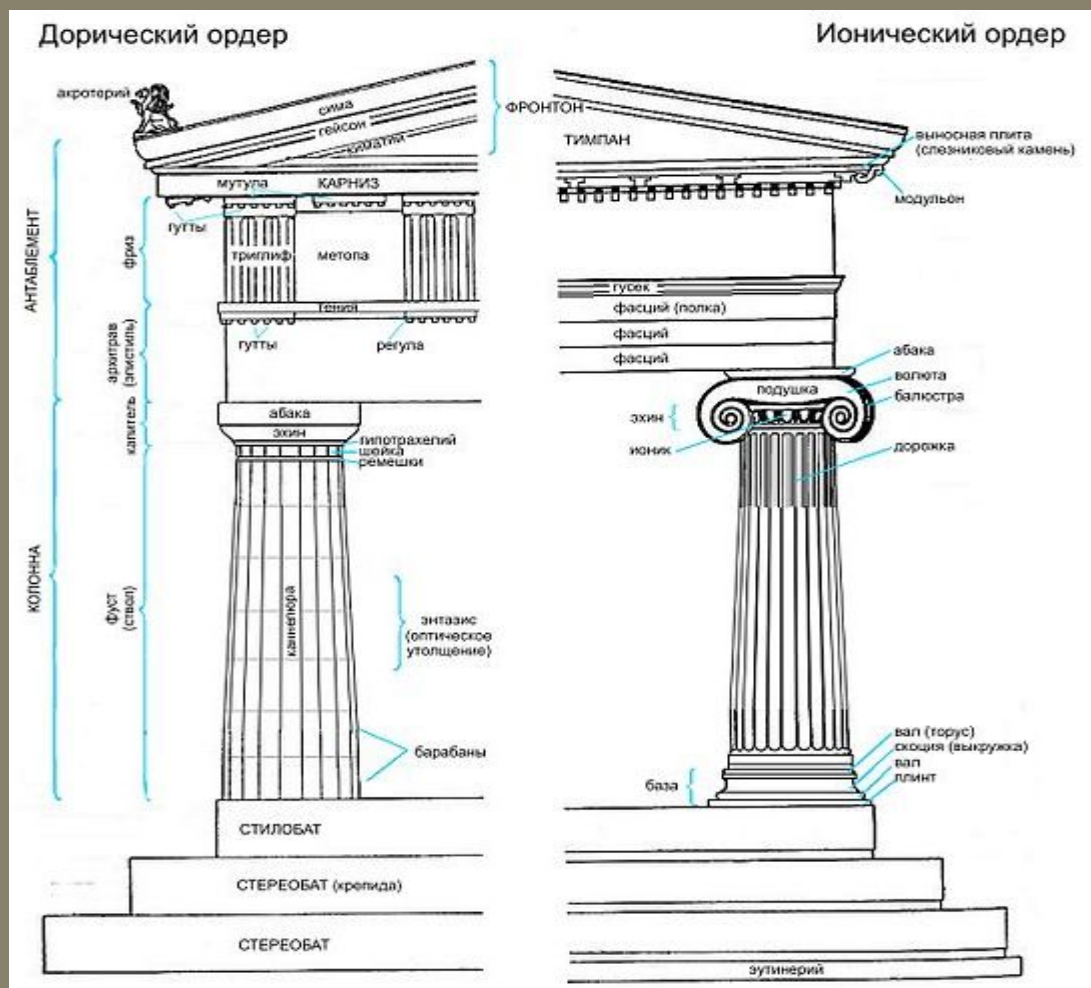
- Именно в этом проявилось соразмерность тело человека и колонны.
- Прочитайте текст 2
- Как пропорции человека были учтены в греческой архитектуре?



# Заполните таблицу

	Дорическая колонна	Ионическая колонна
Характер и размер колонн		
Наличие базы		
Канелюр		
Капитель		
Символ		
Интерпретация образа человека		

# Найдите отличия



# Опишите понравившийся вам ордер

- Каков же образ греческой архитектуры ?

# Домашнее задание



1. Выписать новые термины в словарь
2. Совершите заочное путешествие в Афинский акрополь и принесите ваши открытия на урок.