

2 класс

Урок математики

Система Л. В. Занкова.

Учебник И. И. Аргинской, Е. И. Ивановской

Полякова Светлана Анатольевна
МОУ СОШ №1

Шепталочка

Вариант 1

**Разность чисел 15 и 3
уменьшите на 5.**

Найдите произведение чисел 9 и 6?

К сумме чисел 25 и 5 прибавьте 6.

**Найдите периметр прямоугольника
со сторонами 6 и 3 см.**

Шепталочка

Вариант 2

**Уменьшаемое – 47, вычитаемое – 12.
Найдите разность.**

Найдите произведение чисел 9 и 8?

Из суммы чисел 46 и 3 вычесть 49.

**Одна открытка стоит 10 рублей.
Сколько стоят 9 таких открыток?**

7 54 36 18 35 72 0 90

18

36

54

72

90

45

18 36 45 54 72 90

И Ч А Д А З

90 72 54 45 36 18
З А Д А Ч И

ПРАВИЛА РАБОТЫ

в группе:

Понапрасну не болтай,

Рассуждай и убеждай.

Здесь не нужен шум и гам,

Ты решай задачи сам.

Если же не сможешь вдруг,

Пусть придёт на помощь друг.

ЗАДАЧИ

простые и составные




У Коли 12 марок,
а у Тани 9 марок.


Выбери вопрос.


1. Сколько марок у Коли?
2. Сколько марок у Вани?
3. Сколько марок у Тани?
4. На сколько больше марок у Тани , чем у Коли?

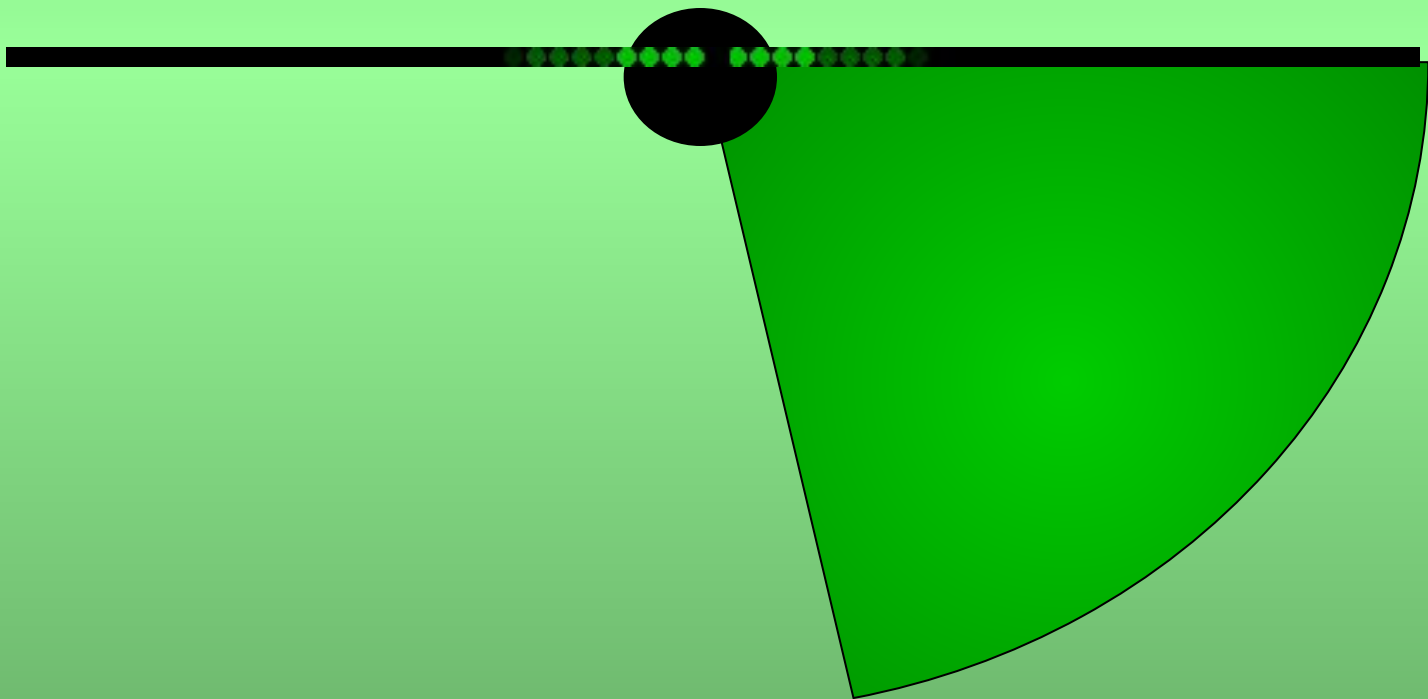
Гимнастика для глаз.




























Ежедневно делайте
зарядку для глаз от

2 до 5 минут!
ЗДОРОВЬЕ!



Работа с
учебником
№315

Было – 43 п.

Вышли – 17 п.

Вошли – 9 п.

Стало – ?

Проверь решение.

$$43 - 17 + 9 = 35 \text{ (п.)}$$

Ответ: в автобусе стало 35 пассажиров.

Домашнее задание

Задача №315. Реши другим способом

1гр. Реши задачу по действиям.

2гр. Попробуй составить обратную задачу.

Чем занимались?

Что узнали нового?

Источники использованных материалов

Масько Л.Г. Коррекция зрения

http://www.it-n.ru/communities.aspx?cat_no=5025&lib_no=18630&tmpl=lib