



# Аналогия

(На что похоже?)




Информатика в играх и задачах. 3 класс  
Урок 29

## Задание №2

Что общего у каждой пары предметов?

Линиями соедини рисунки с правильными ответами.



СОСТАВ

ДЕЙСТВИЯ

ПРИЗНАКИ



# Задание №3

Расставь человечков по подсказкам сверху: пронумеруй человечков на каждом рисунке



# Задание №3

Расставь человечков по подсказкам сверху: пронумеруй человечков на каждом рисунке

ПО КОЛИЧЕСТВУ  
БУКВ

ФЕВРАЛЬ

ИЮНЬ

ЯНВАРЬ

МАЙ



# Задание №3

Расставь человечков по подсказкам сверху: пронумеруй человечков на каждом рисунке



ПО ПОРЯДКУ  
МЕСЯЦЕВ

ФЕВРАЛЬ

ИЮНЬ

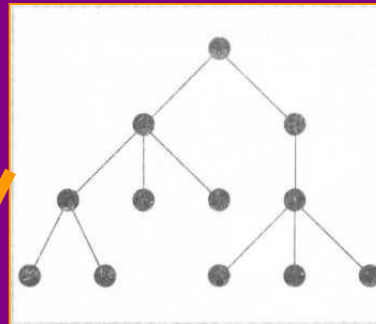
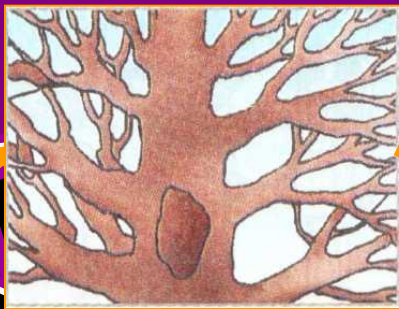

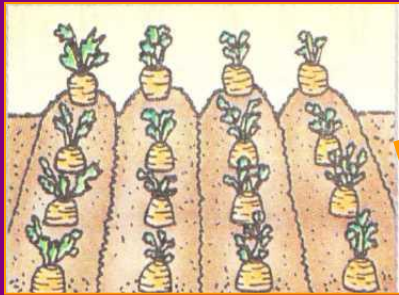
ЯНВАРЬ

МАЙ



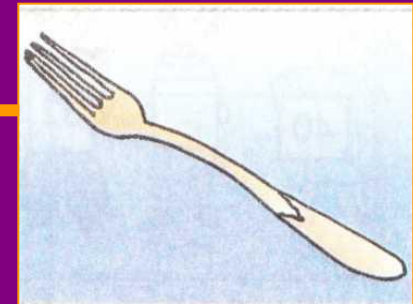



# Задание №4

Соедини линиями похожие рисунки



11	12	13	14
21	22	23	24
31	32	33	34
41	42	43	44



**Домашнее задание**  
**№1, с.30-31**

